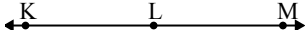




Решите каждую задачу.

Ответы

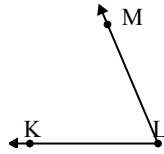
1)



Под каким вариантом правильно определен $\angle KLM$?

- A. 131°
- B. 77°
- C. 180°
- D. 7°

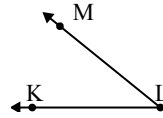
2)



Под каким вариантом правильно определен $\angle KLM$?

- A. 100°
- B. 67°
- C. 174°
- D. 38°

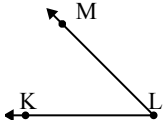
3)



Под каким вариантом правильно определен $\angle KLM$?

- A. 4°
- B. 39°
- C. 132°
- D. 109°

4)



Под каким вариантом правильно определен $\angle KLM$?

- A. 45°
- B. 162°
- C. 10°
- D. 86°

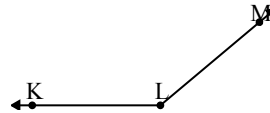
5)



Под каким вариантом правильно определен $\angle ABC$?

- A. 164°
- B. 30°
- C. 52°
- D. 9°

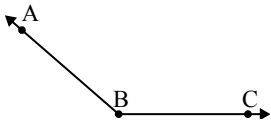
6)



Под каким вариантом правильно определен $\angle KLM$?

- A. 68°
- B. 110°
- C. 140°
- D. 175°

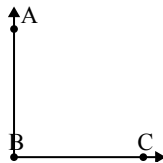
7)



Под каким вариантом правильно определен $\angle ABC$?

- A. 177°
- B. 139°
- C. 92°
- D. 14°

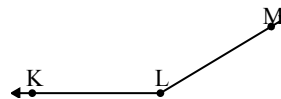
8)



Под каким вариантом правильно определен $\angle ABC$?

- A. 25°
- B. 90°
- C. 65°
- D. 138°

9)



Под каким вариантом правильно определен $\angle KLM$?

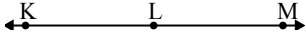
- A. 76°
- B. 149°
- C. 15°
- D. 178°

1. _____
2. _____
3. _____
4. _____
5. _____
6. _____
7. _____
8. _____
9. _____



Решите каждую задачу.

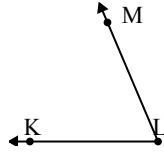
1)



Под каким вариантом правильно определен $\angle KLM$?

- A. 131°
- B. 77°
- C. 180°
- D. 7°

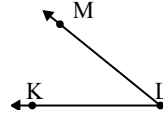
2)



Под каким вариантом правильно определен $\angle KLM$?

- A. 100°
- B. 67°
- C. 174°
- D. 38°

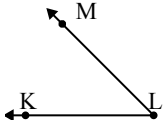
3)



Под каким вариантом правильно определен $\angle KLM$?

- A. 4°
- B. 39°
- C. 132°
- D. 109°

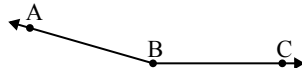
4)



Под каким вариантом правильно определен $\angle KLM$?

- A. 45°
- B. 162°
- C. 10°
- D. 86°

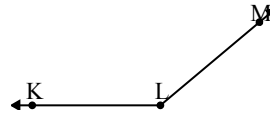
5)



Под каким вариантом правильно определен $\angle ABC$?

- A. 164°
- B. 30°
- C. 52°
- D. 9°

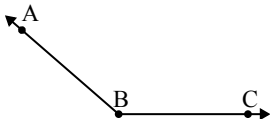
6)



Под каким вариантом правильно определен $\angle KLM$?

- A. 68°
- B. 110°
- C. 140°
- D. 175°

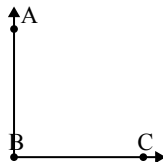
7)



Под каким вариантом правильно определен $\angle ABC$?

- A. 177°
- B. 139°
- C. 92°
- D. 14°

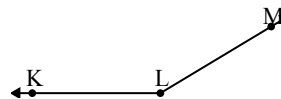
8)



Под каким вариантом правильно определен $\angle ABC$?

- A. 25°
- B. 90°
- C. 65°
- D. 138°

9)



Под каким вариантом правильно определен $\angle KLM$?

- A. 76°
- B. 149°
- C. 15°
- D. 178°

Ответы

- 1. **C**
- 2. **B**
- 3. **B**
- 4. **A**
- 5. **A**
- 6. **C**
- 7. **B**
- 8. **B**
- 9. **B**