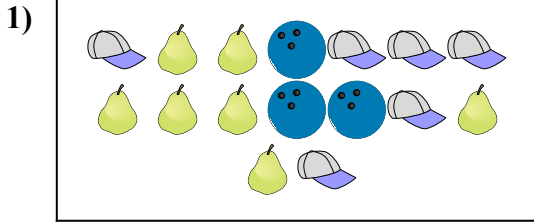





Сравните количество фигур.



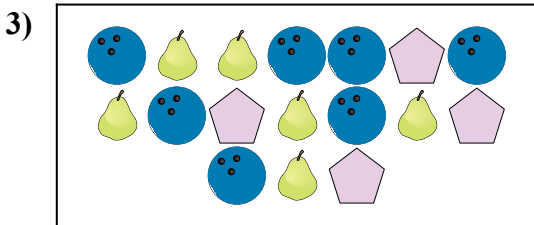
Имеется меньше или ?

- A.
- B.



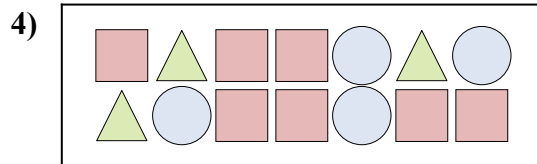
Имеется меньше или ?

- A.
- B.




Имеется больше или ?

- A.
- B.




Имеется больше или ?

- A.
- B.



Имеется больше или ?

- A.
- B.



Имеется меньше или ?

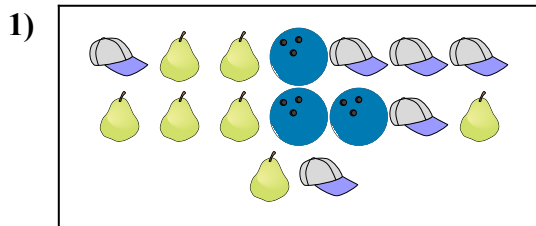
- A.
- B.

ОТВЕТЫ


- 1. _____
- 2. _____
- 3. _____
- 4. _____
- 5. _____
- 6. _____



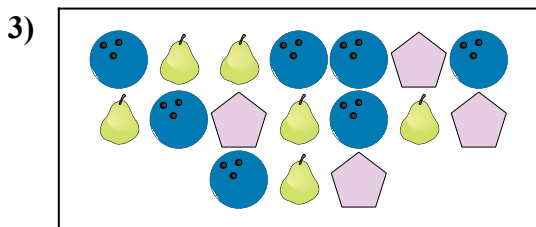
Сравните количество фигур.



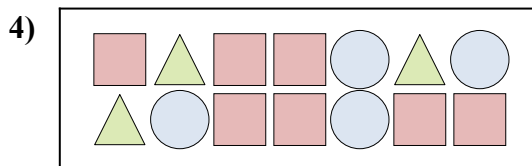
Имеется меньше или ?




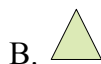
Имеется меньше или ?




Имеется больше или ?



Имеется больше или ?



Имеется больше или ?



Имеется меньше или ?



ОТВЕТЫ

1. **B**

2. **A**

3. **A**

4. **A**

5. **A**

6. **A**