
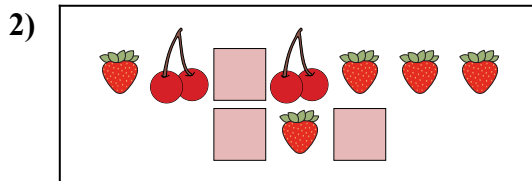





Сравните количество фигур.



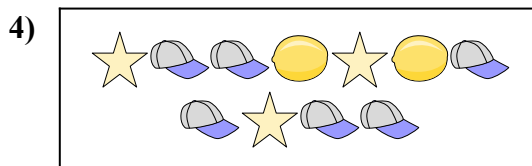
Имеется меньше или ?




Имеется больше или ?



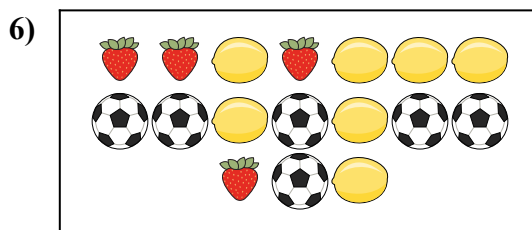
Имеется больше или ?



Имеется больше или ?



Имеется меньше или ?



Имеется меньше или ?



ОТВЕТЫ

1. _____

2. _____

3. _____


4. _____

5. _____

6. _____




Сравните количество фигур.




Имеется меньше или ?

- A.
- B.



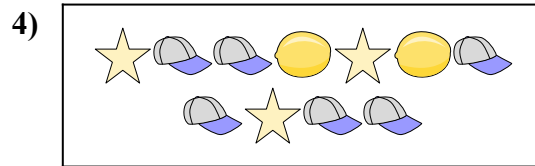
Имеется больше или ?

- A.
- B.




Имеется больше или ?

- A.
- B.




Имеется больше или ?

- A.
- B.



Имеется меньше или ?

- A.
- B.



Имеется меньше или ?

- A.
- B.

ОТВЕТЫ

- 1. **A**
- 2. **A**
- 3. **A**
- 4. **B**
- 5. **B**
- 6. **A**