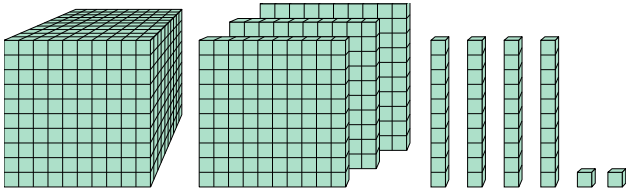




Решите каждую задачу.

ОТВЕТЫ

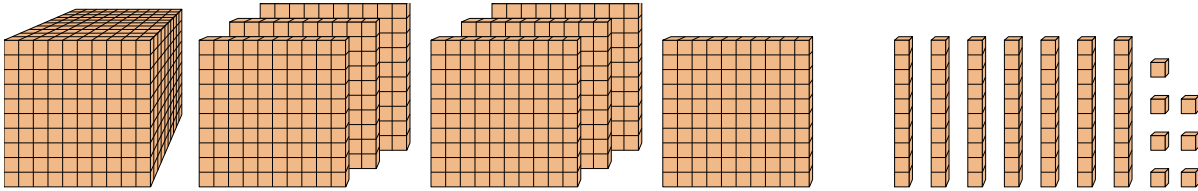
1)



Какая цифра на месте единицами в данном числе?

1. _____

2)



Какая цифра на месте десятками в данном числе?

2. _____

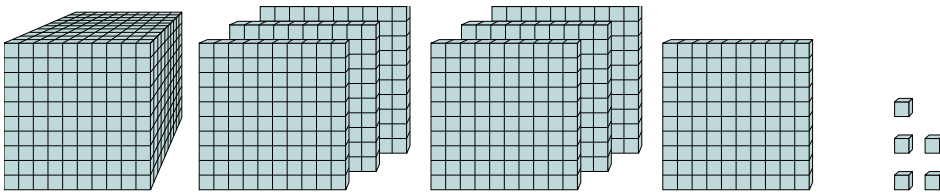
3. _____

4. _____

5. _____

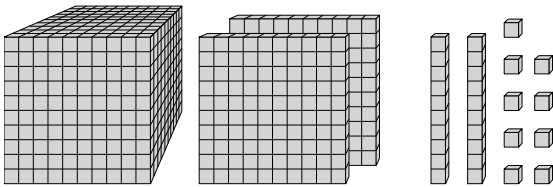
6. _____

3)



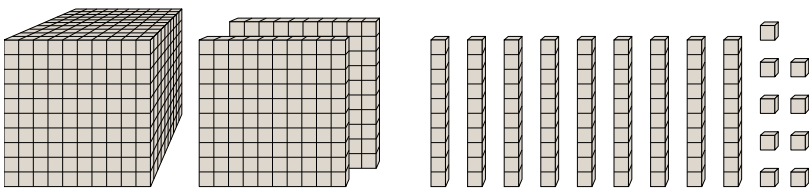
Какая цифра на месте миллиарды в данном числе?

4)



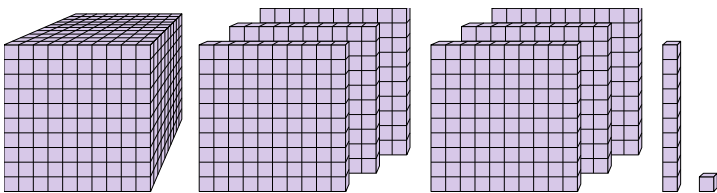
Какая цифра на месте сотнями в данном числе?

5)



Какая цифра на месте сотнями в данном числе?

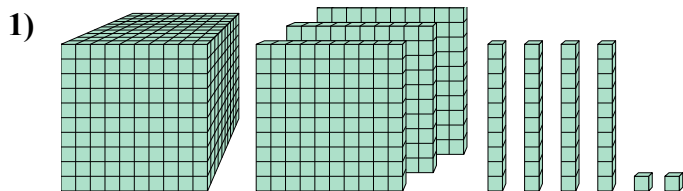
6)



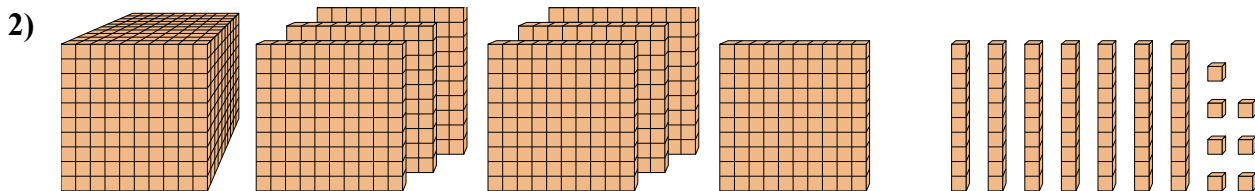
Какая цифра на месте десятками в данном числе?



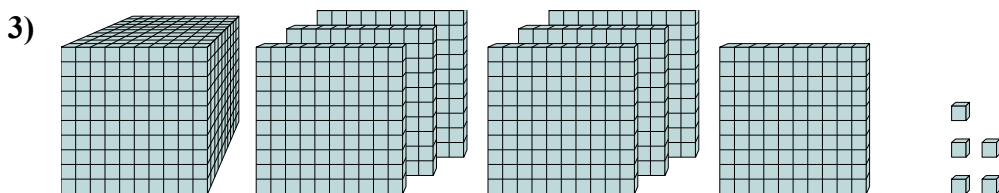
Решите каждую задачу.



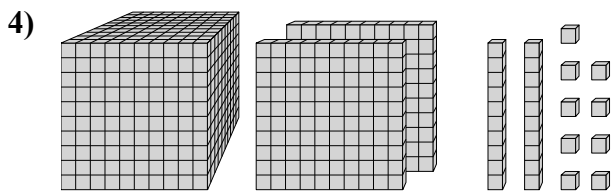
Какая цифра на месте единицами в данном числе?



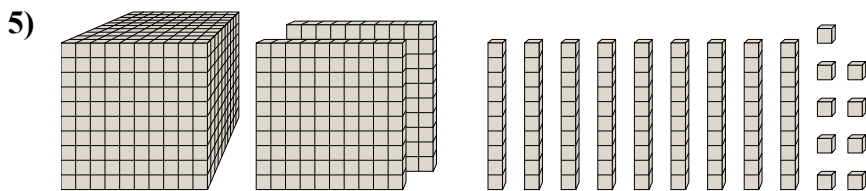
Какая цифра на месте десятками в данном числе?



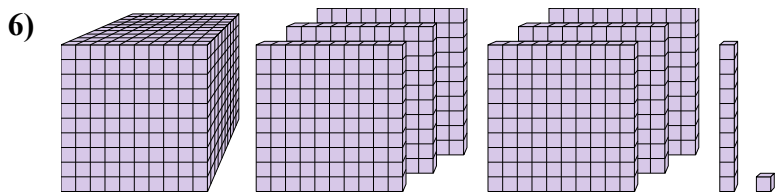
Какая цифра на месте миллиарды в данном числе?



Какая цифра на месте сотнями в данном числе?



Какая цифра на месте сотнями в данном числе?



Какая цифра на месте десятками в данном числе?

ОТВЕТЫ

1. 2

2. 7

3. 7

4. 1

5. 1

6. 1