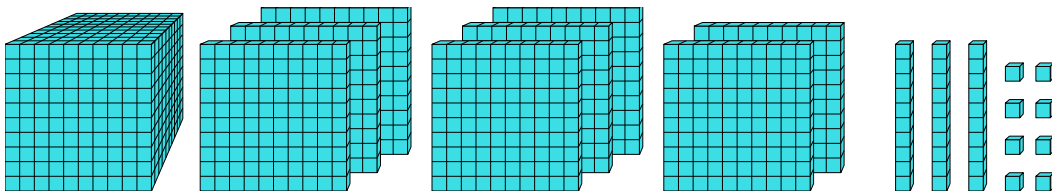




Решите каждую задачу.

Ответы

1)



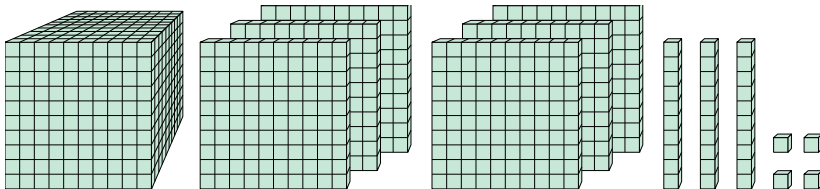
Какая цифра на месте сотнями в данном числе?

1. _____

2. _____

3. _____

2)



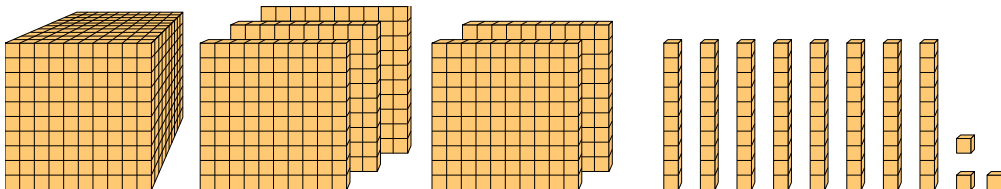
Какая цифра на месте десятками в данном числе?

4. _____

5. _____

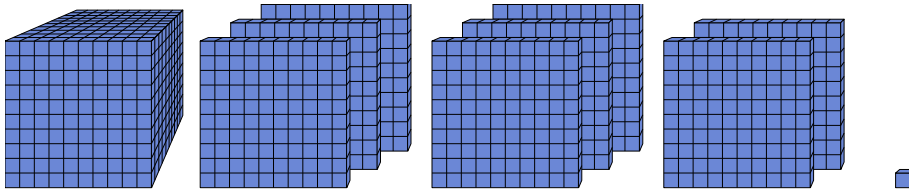
6. _____

3)



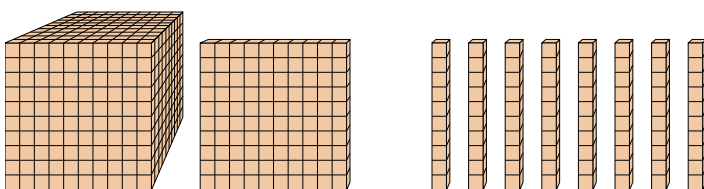
Какая цифра на месте единицами в данном числе?

4)



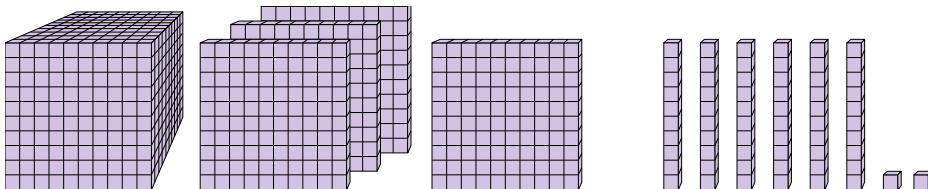
Какая цифра на месте сотнями в данном числе?

5)



Какая цифра на месте миллиарды в данном числе?

6)



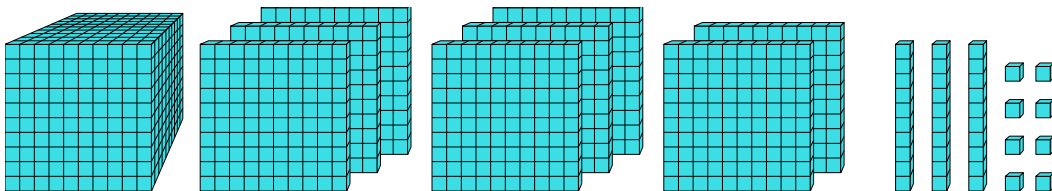
Какая цифра на месте десятками в данном числе?



Решите каждую задачу.

ОТВЕТЫ

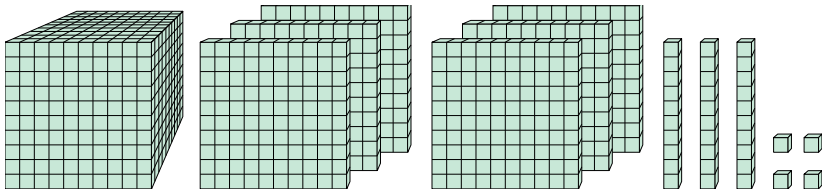
1)



Какая цифра на месте сотнями в данном числе?

1. 12. 33. 3

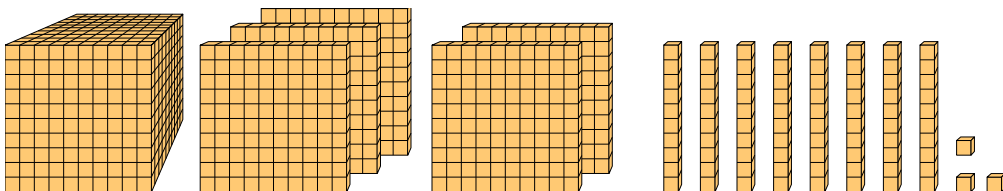
2)



Какая цифра на месте десятками в данном числе?

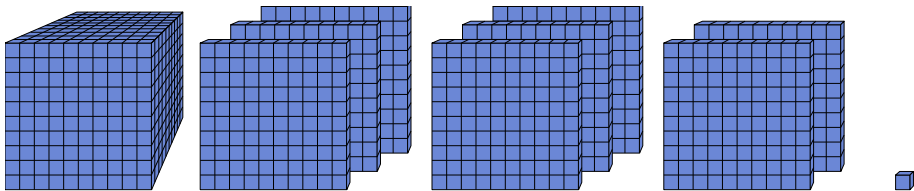
4. 15. 16. 6

3)



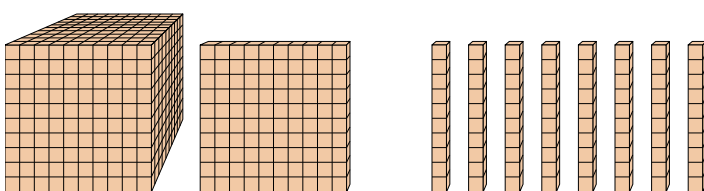
Какая цифра на месте единицами в данном числе?

4)



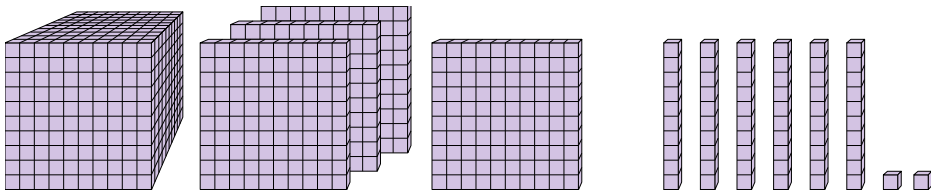
Какая цифра на месте сотнями в данном числе?

5)



Какая цифра на месте миллиарды в данном числе?

6)



Какая цифра на месте десятками в данном числе?