

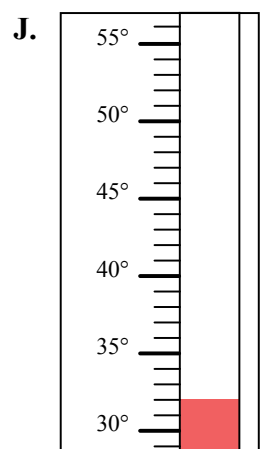
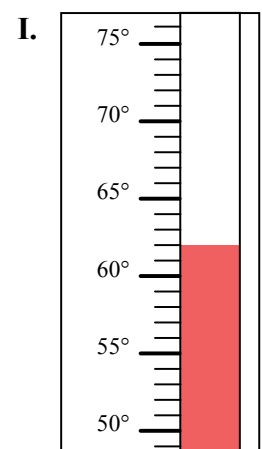
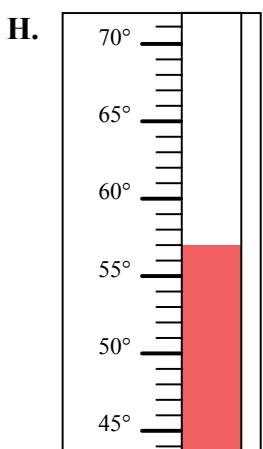
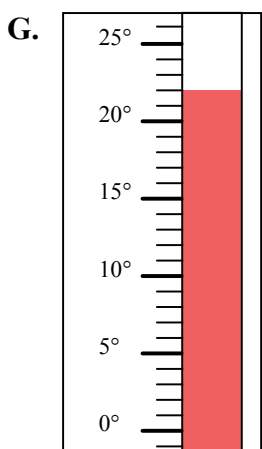
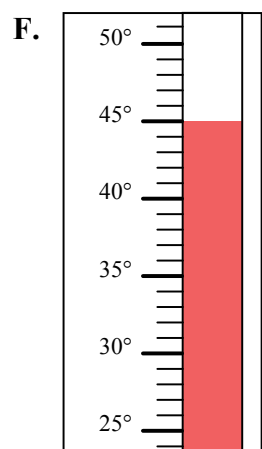
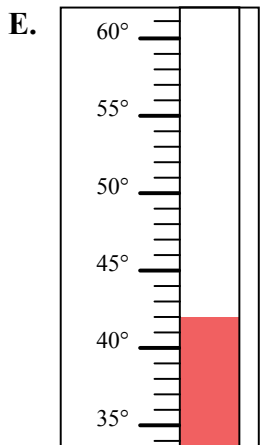
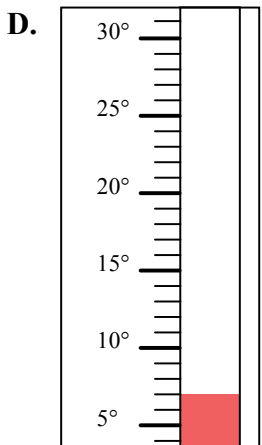
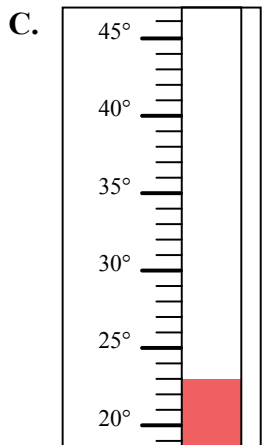
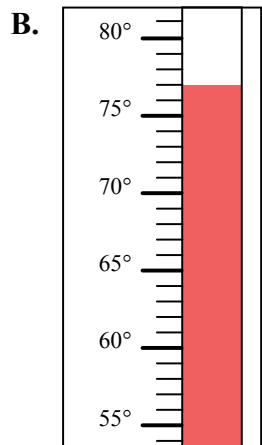
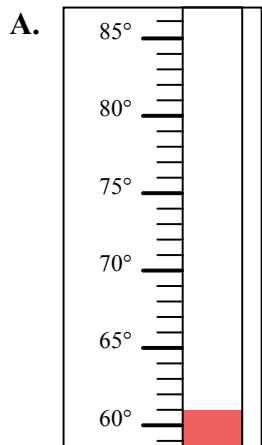


Определите под какой буквой находится правильный ответ.

**ОТВЕТЫ**

- 1) Какой термометр наилучшим образом показывает температуру 22°?
- 2) Какой термометр наилучшим образом показывает температуру 57°?
- 3) Какой термометр наилучшим образом показывает температуру 7°?
- 4) Какой термометр наилучшим образом показывает температуру 42°?
- 5) Какой термометр наилучшим образом показывает температуру 62°?
- 6) Какой термометр наилучшим образом показывает температуру 77°?
- 7) Какой термометр наилучшим образом показывает температуру 23°?
- 8) Какой термометр наилучшим образом показывает температуру 32°?
- 9) Какой термометр наилучшим образом показывает температуру 45°?
- 10) Какой термометр наилучшим образом показывает температуру 61°?

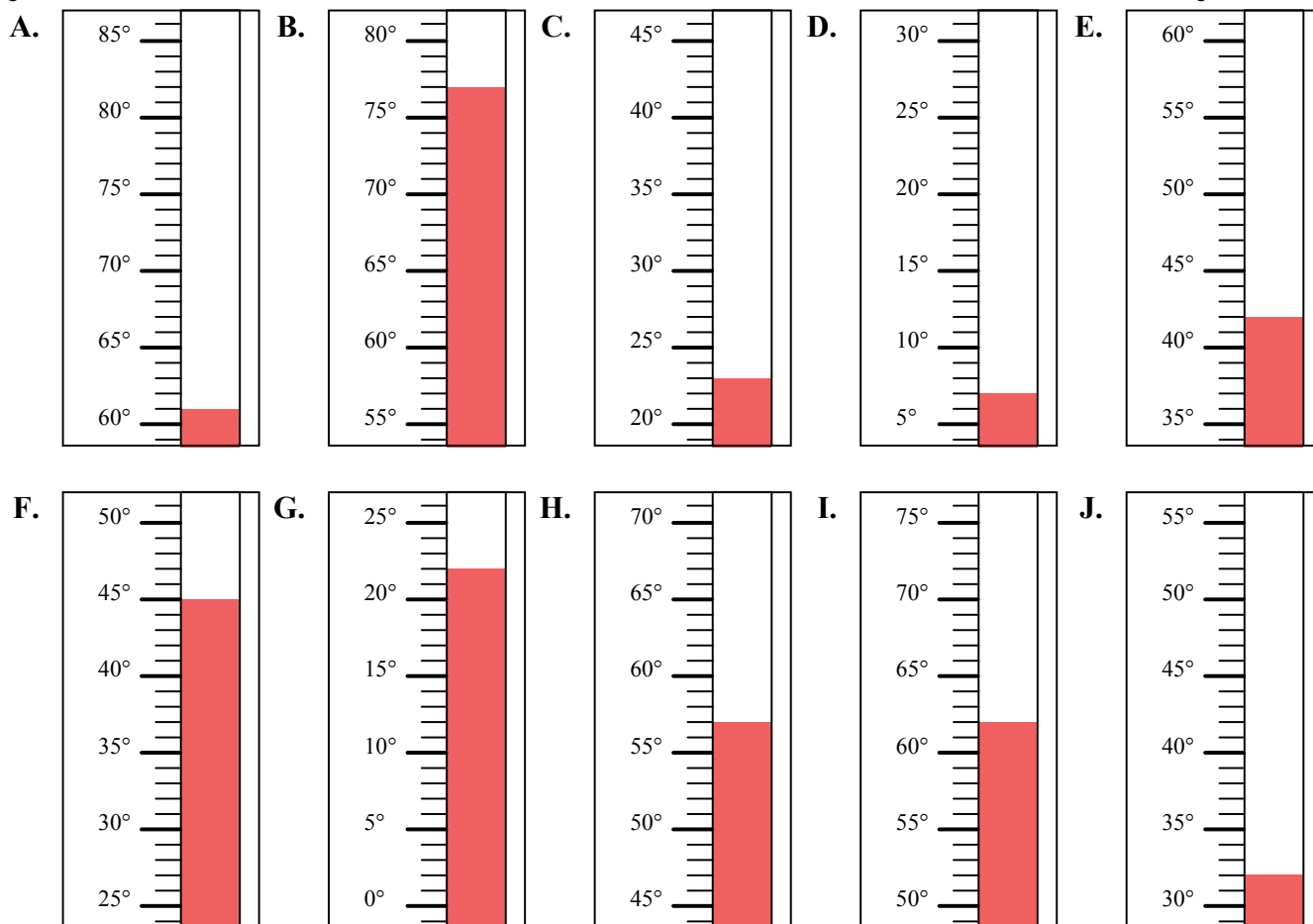
1. \_\_\_\_\_
2. \_\_\_\_\_
3. \_\_\_\_\_
4. \_\_\_\_\_
5. \_\_\_\_\_
6. \_\_\_\_\_
7. \_\_\_\_\_
8. \_\_\_\_\_
9. \_\_\_\_\_
10. \_\_\_\_\_





Определите под какой буквой находится правильный ответ.

- 1) Какой термометр наилучшим образом показывает температуру 22°?
- 2) Какой термометр наилучшим образом показывает температуру 57°?
- 3) Какой термометр наилучшим образом показывает температуру 7°?
- 4) Какой термометр наилучшим образом показывает температуру 42°?
- 5) Какой термометр наилучшим образом показывает температуру 62°?
- 6) Какой термометр наилучшим образом показывает температуру 77°?
- 7) Какой термометр наилучшим образом показывает температуру 23°?
- 8) Какой термометр наилучшим образом показывает температуру 32°?
- 9) Какой термометр наилучшим образом показывает температуру 45°?
- 10) Какой термометр наилучшим образом показывает температуру 61°?



**ОТВЕТЫ**

1.     **G**
2.     **H**
3.     **D**
4.     **E**
5.     **I**
6.     **B**
7.     **C**
8.     **J**
9.     **F**
10.     **A**