

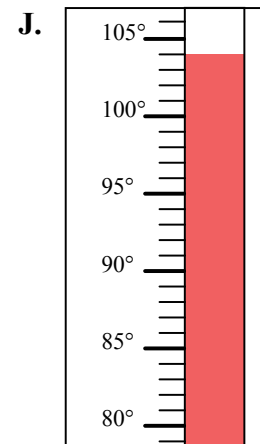
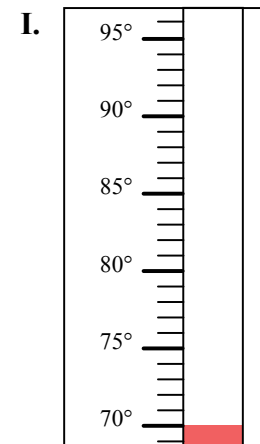
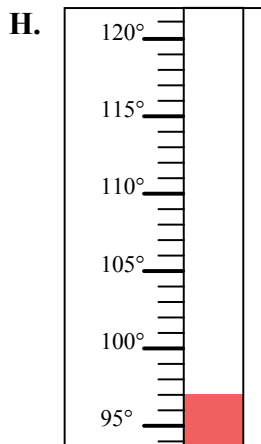
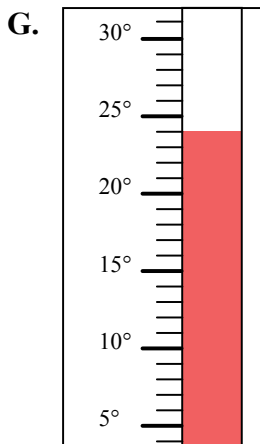
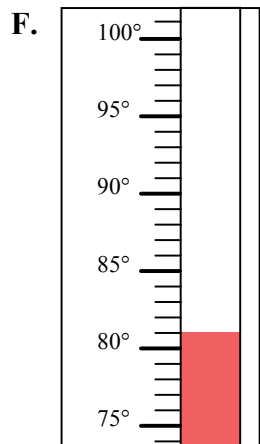
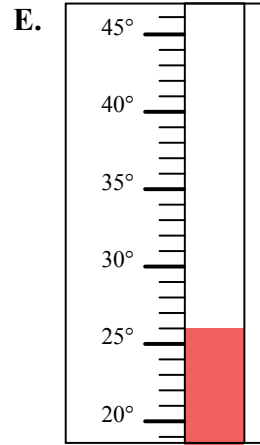
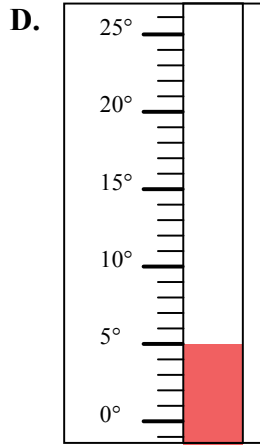
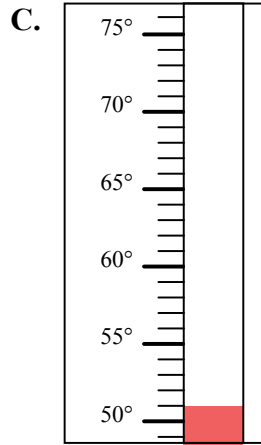
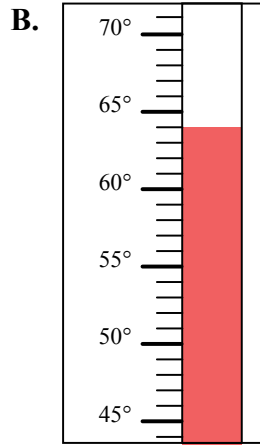
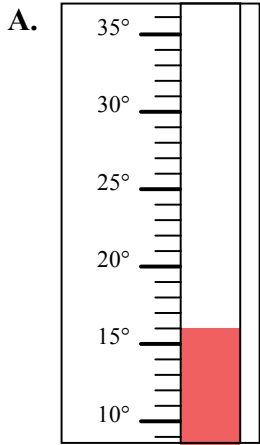


Определите под какой буквой находится правильный ответ.

ОТВЕТЫ

- 1) Какой термометр наилучшим образом показывает температуру 70°?
- 2) Какой термометр наилучшим образом показывает температуру 51°?
- 3) Какой термометр наилучшим образом показывает температуру 64°?
- 4) Какой термометр наилучшим образом показывает температуру 26°?
- 5) Какой термометр наилучшим образом показывает температуру 104°?
- 6) Какой термометр наилучшим образом показывает температуру 97°?
- 7) Какой термометр наилучшим образом показывает температуру 5°?
- 8) Какой термометр наилучшим образом показывает температуру 81°?
- 9) Какой термометр наилучшим образом показывает температуру 16°?
- 10) Какой термометр наилучшим образом показывает температуру 24°?

1. _____
2. _____
3. _____
4. _____
5. _____
6. _____
7. _____
8. _____
9. _____
10. _____





Определите под какой буквой находится правильный ответ.

ОТВЕТЫ

- 1) Какой термометр наилучшим образом показывает температуру 70°?
- 2) Какой термометр наилучшим образом показывает температуру 51°?
- 3) Какой термометр наилучшим образом показывает температуру 64°?
- 4) Какой термометр наилучшим образом показывает температуру 26°?
- 5) Какой термометр наилучшим образом показывает температуру 104°?
- 6) Какой термометр наилучшим образом показывает температуру 97°?
- 7) Какой термометр наилучшим образом показывает температуру 5°?
- 8) Какой термометр наилучшим образом показывает температуру 81°?
- 9) Какой термометр наилучшим образом показывает температуру 16°?
- 10) Какой термометр наилучшим образом показывает температуру 24°?

1. I
2. C
3. B
4. E
5. J
6. H
7. D
8. F
9. A
10. G

