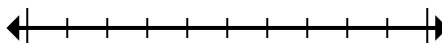




Обозначьте местоположение (приблизительное) на числовой прямой при решении.

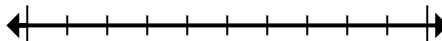
ОТВЕТЫ

1) Округлите 1 491 до ближайших тысячных.



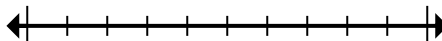
1. \_\_\_\_\_

2) Округлите 867 315 до ближайших сотых.



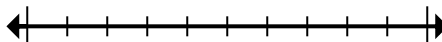
2. \_\_\_\_\_

3) Округлите 524 до ближайших сотых.



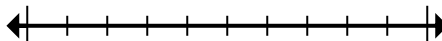
3. \_\_\_\_\_

4) Округлите 698 до ближайших сотых.



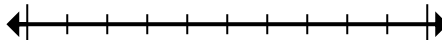
4. \_\_\_\_\_

5) Округлите 4 646 919 до ближайших сотых.



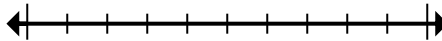
5. \_\_\_\_\_

6) Округлите 6 630 803 до ближайших тысячных.



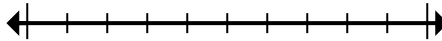
6. \_\_\_\_\_

7) Округлите 4 407 993 до ближайших ста тысячных.



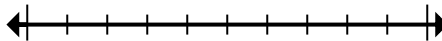
7. \_\_\_\_\_

8) Округлите 83 368 до ближайших десяти тысячных.



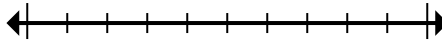
8. \_\_\_\_\_

9) Округлите 5 665 526 до ближайших десяти тысячных.



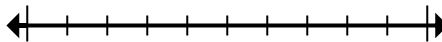
9. \_\_\_\_\_

10) Округлите 1 299 до ближайших тысячных.



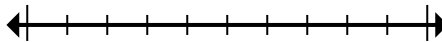
10. \_\_\_\_\_

11) Округлите 448 098 до ближайших ста тысячных.



11. \_\_\_\_\_

12) Округлите 178 876 до ближайших десяти тысячных.



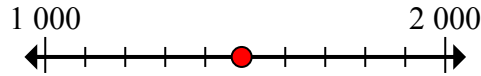
12. \_\_\_\_\_



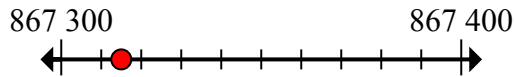
Обозначьте местоположение (приблизительное) на числовой прямой при решении.

**ОТВЕТЫ**

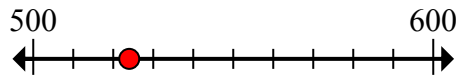
1) Округлите 1 491 до ближайших тысячных.



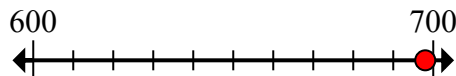
2) Округлите 867 315 до ближайших сотых.



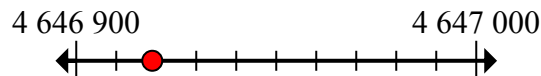
3) Округлите 524 до ближайших сотых.



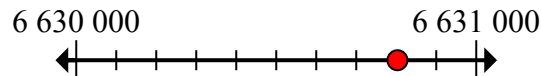
4) Округлите 698 до ближайших сотых.



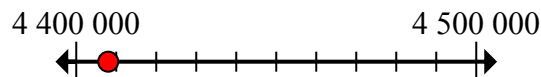
5) Округлите 4 646 919 до ближайших сотых.



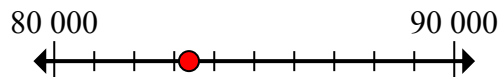
6) Округлите 6 630 803 до ближайших тысячных.



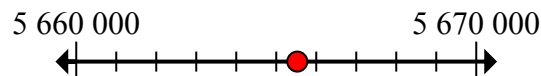
7) Округлите 4 407 993 до ближайших ста тысячных.



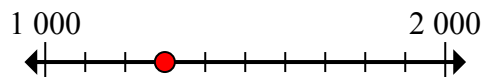
8) Округлите 83 368 до ближайших десяти тысячных.



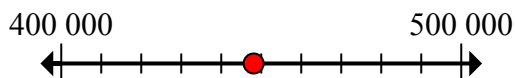
9) Округлите 5 665 526 до ближайших десяти тысячных.



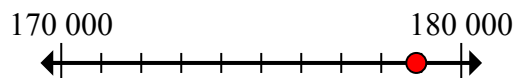
10) Округлите 1 299 до ближайших тысячных.



11) Округлите 448 098 до ближайших ста тысячных.



12) Округлите 178 876 до ближайших десяти тысячных.



- 1. 1 000
- 2. 867 300
- 3. 500
- 4. 700
- 5. 4 646 900
- 6. 6 631 000
- 7. 4 400 000
- 8. 80 000
- 9. 5 670 000
- 10. 1 000
- 11. 400 000
- 12. 180 000

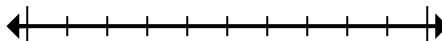


Обозначьте местоположение (приблизительное) на числовой прямой при решении.

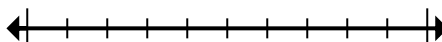
**Отвeты**

867 300	500	4 400 000	80 000
1 000	4 646 900	700	400 000
180 000	1 000	5 670 000	6 631 000

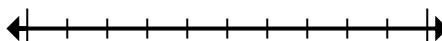
1) Округлите 1 491 до ближайших тысячных.



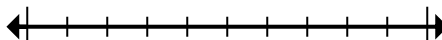
2) Округлите 867 315 до ближайших сотых.



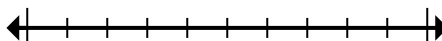
3) Округлите 524 до ближайших сотых.



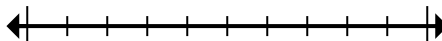
4) Округлите 698 до ближайших сотых.



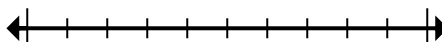
5) Округлите 4 646 919 до ближайших сотых.



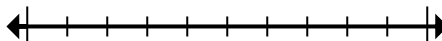
6) Округлите 6 630 803 до ближайших тысячных.



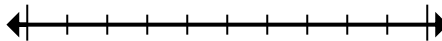
7) Округлите 4 407 993 до ближайших ста тысячных.



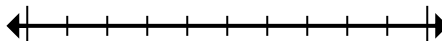
8) Округлите 83 368 до ближайших десяти тысячных.



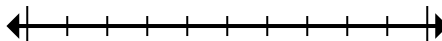
9) Округлите 5 665 526 до ближайших десяти тысячных.



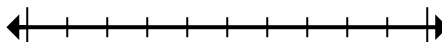
10) Округлите 1 299 до ближайших тысячных.



11) Округлите 448 098 до ближайших ста тысячных.



12) Округлите 178 876 до ближайших десяти тысячных.



1. \_\_\_\_\_
2. \_\_\_\_\_
3. \_\_\_\_\_
4. \_\_\_\_\_
5. \_\_\_\_\_
6. \_\_\_\_\_
7. \_\_\_\_\_
8. \_\_\_\_\_
9. \_\_\_\_\_
10. \_\_\_\_\_
11. \_\_\_\_\_
12. \_\_\_\_\_