



Используйте числовые прямые для округления до сотни.

Отвeты

об)

612



об. 600

1)

9 223



1. _____

2)

17 922



2. _____

3)

87 465



3. _____

4)

653



4. _____

5)

3 616



5. _____

6)

6 677



6. _____

7)

22 598



7. _____

8)

1 241



8. _____

9)

960



9. _____

10)

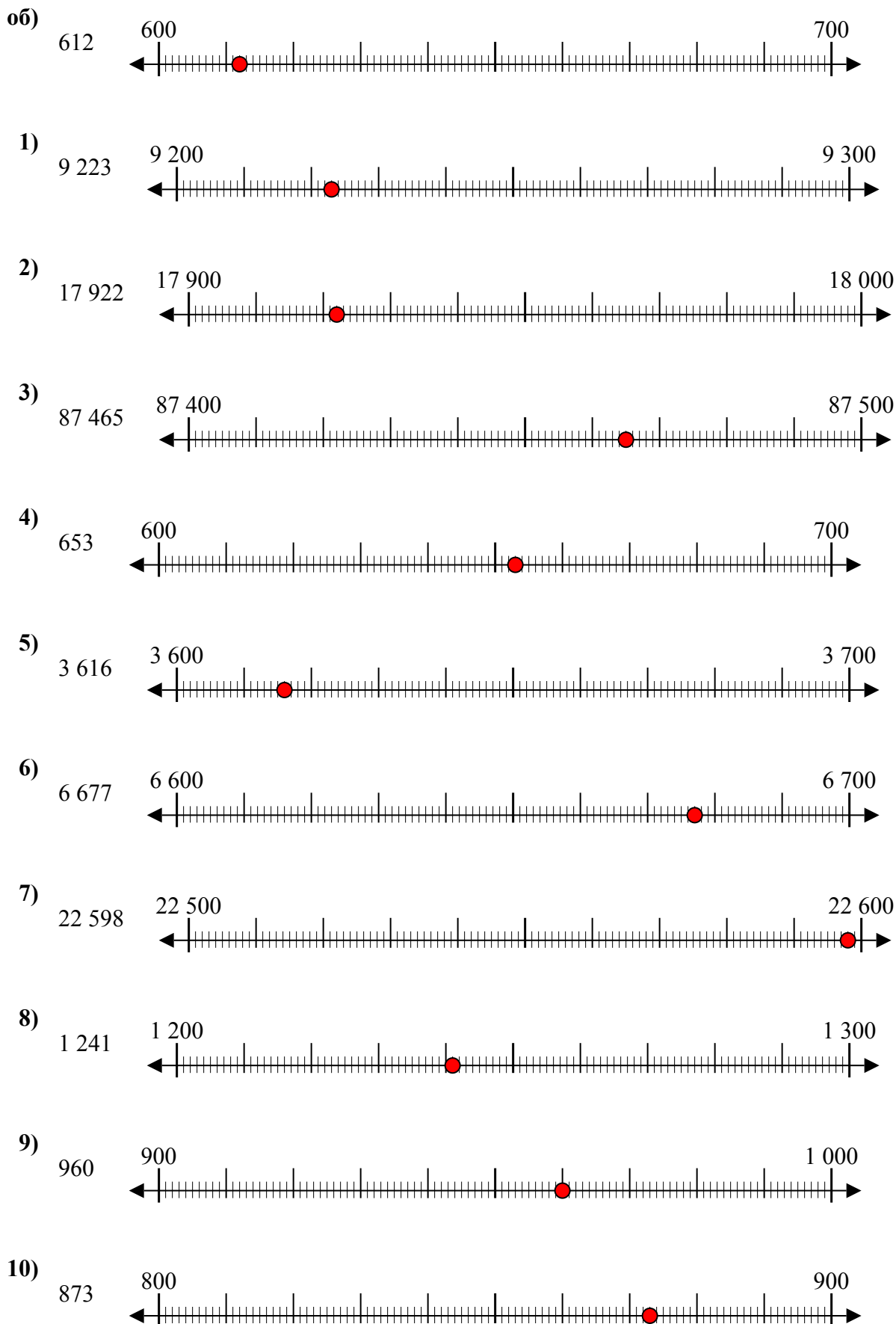
873



10. _____



Используйте числовые прямые для округления до сотни.



Ответы

- об. 600
- 1. 9 200
- 2. 17 900
- 3. 87 500
- 4. 700
- 5. 3 600
- 6. 6 700
- 7. 22 600
- 8. 1 200
- 9. 1 000
- 10. 900



Используйте числовые прямые для округления до сотни.

об)

356



1)

1 360



2)

7 216



3)

51 669



4)

670



5)

171



6)

80 458



7)

9 425



8)

616



9)

88 299



10)

5 076



Ответы

об. 400

1. _____

2. _____

3. _____

4. _____

5. _____

6. _____

7. _____

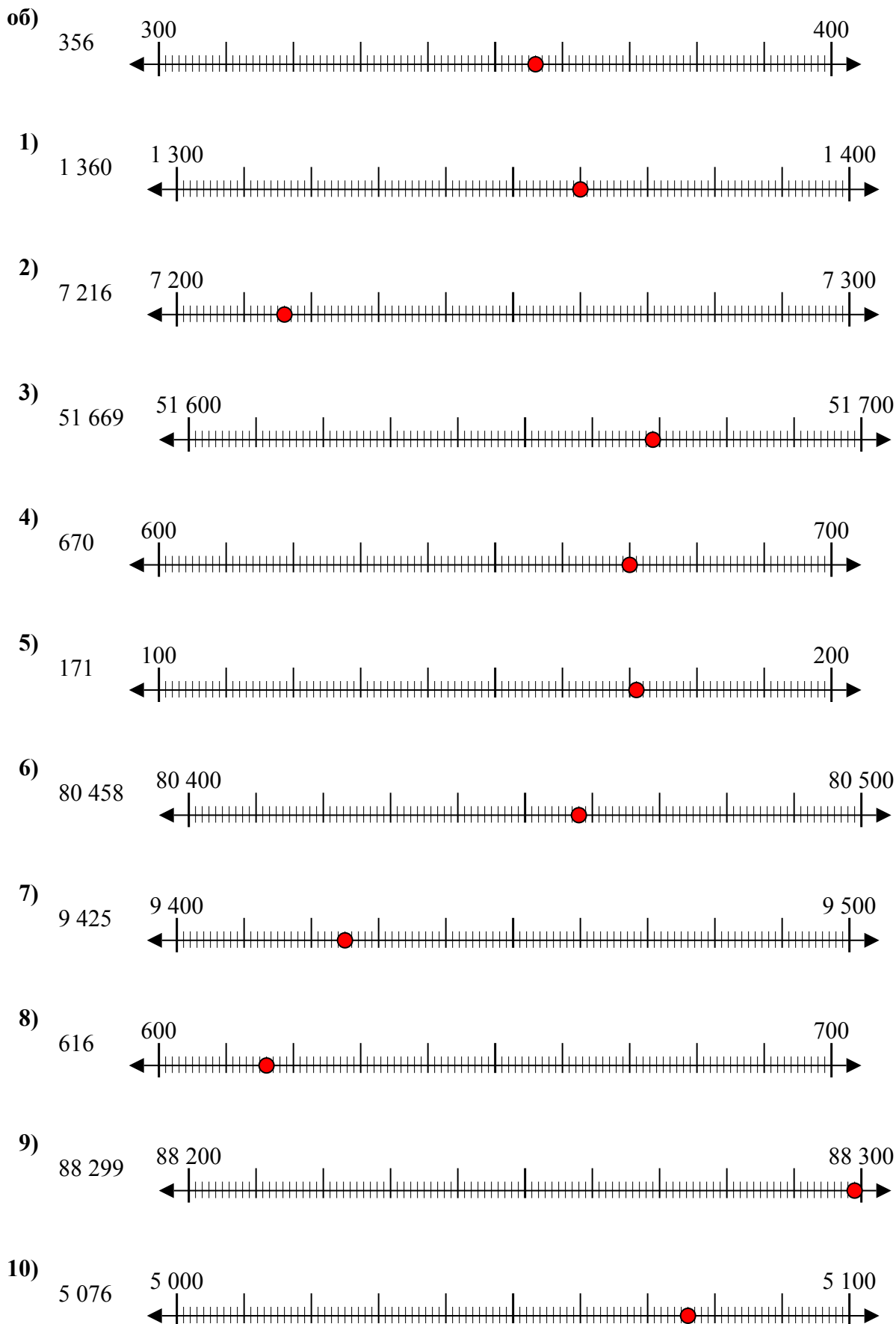
8. _____

9. _____

10. _____



Используйте числовые прямые для округления до сотни.



Ответы

- об. 400
- 1. 1 400
- 2. 7 200
- 3. 51 700
- 4. 700
- 5. 200
- 6. 80 500
- 7. 9 400
- 8. 600
- 9. 88 300
- 10. 5 100



Используйте числовые прямые для округления до сотни.

Отвѣты

об)

908



об. 900

1)

257



1. _____

2)

8 566



2. _____

3)

18 478



3. _____

4)

84 766



4. _____

5)

991



5. _____

6)

76 319



6. _____

7)

759



7. _____

8)

4 490



8. _____

9)

70 699



9. _____

10)

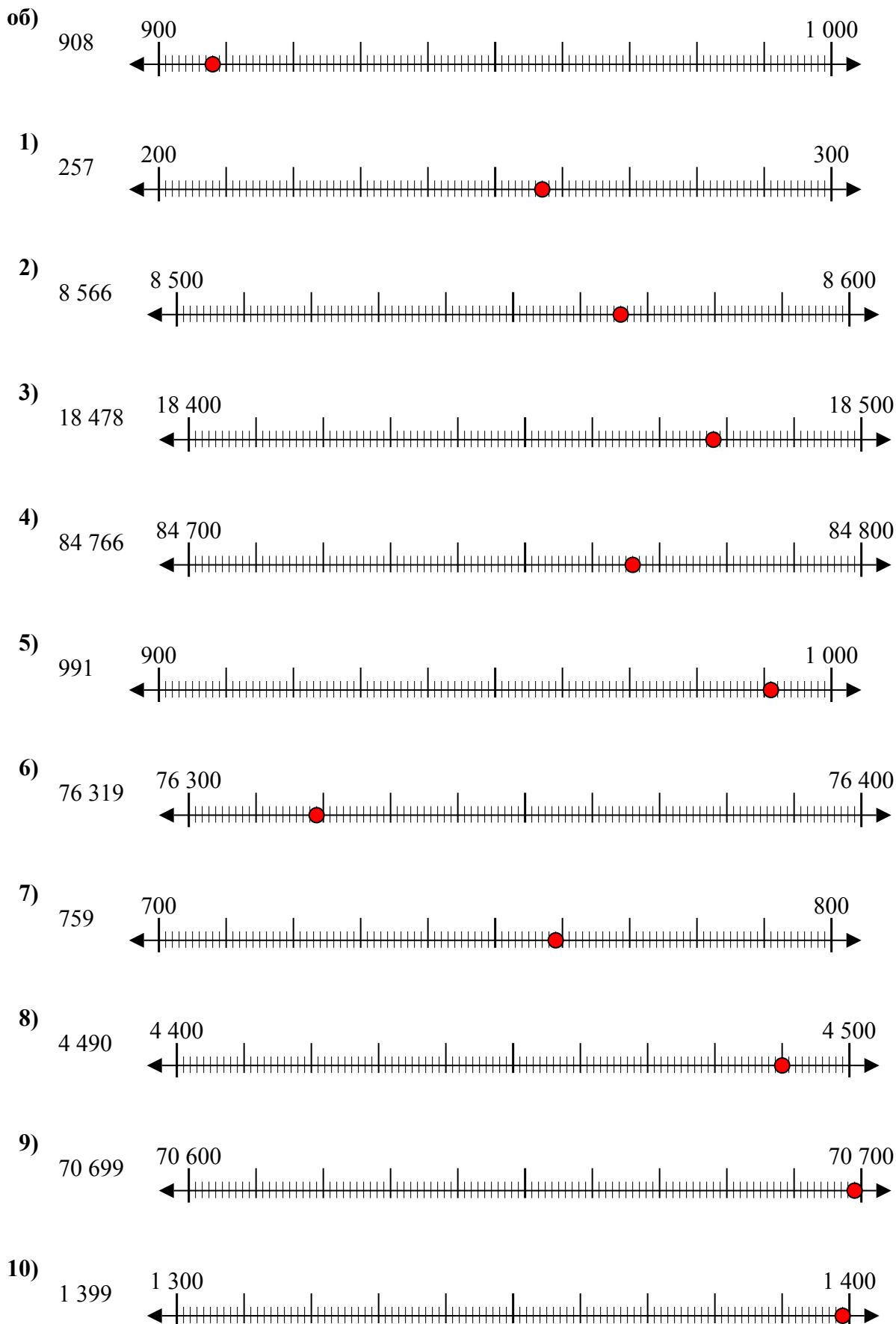
1 399



10. _____



Используйте числовые прямые для округления до сотни.



Ответы

- об. 900
- 1. 300
- 2. 8 600
- 3. 18 500
- 4. 84 800
- 5. 1 000
- 6. 76 300
- 7. 800
- 8. 4 500
- 9. 70 700
- 10. 1 400



Используйте числовые прямые для округления до сотни.

об)

4 410



1)

853



2)

783



3)

9 697



4)

8 980



5)

569



6)

9 924



7)

99 310



8)

90 005



9)

17 192



10)

60 453



Ответы

об. 4 400

1. _____

2. _____

3. _____

4. _____

5. _____

6. _____

7. _____

8. _____

9. _____

10. _____



Используйте числовые прямые для округления до сотни.



об. 4 400



1. 900



2. 800



3. 9 700



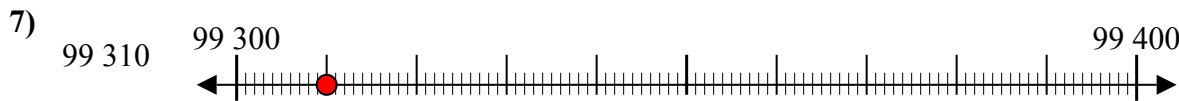
4. 9 000



5. 600



6. 9 900



7. 99 300



8. 90 000



9. 17 200



10. 60 500



Используйте числовые прямые для округления до сотни.

Отвeты

об)

1 224



об. 1 200

1)

9 937



1. _____

2)

81 895



2. _____

3)

791



3. _____

4)

3 821



4. _____

5)

216



5. _____

6)

45 078



6. _____

7)

21 436



7. _____

8)

85 063



8. _____

9)

232



9. _____

10)

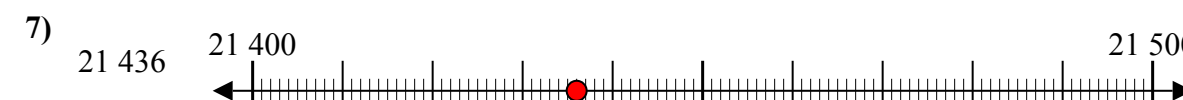
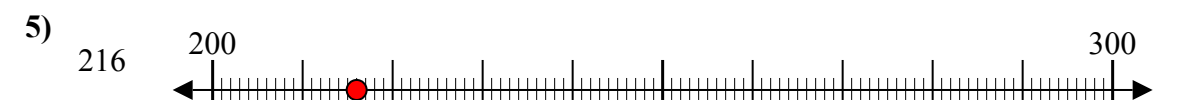
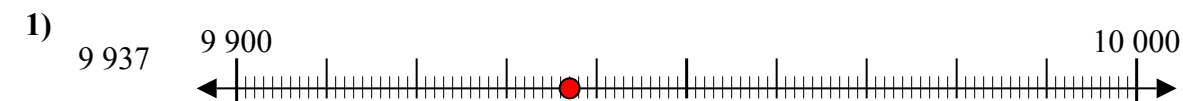
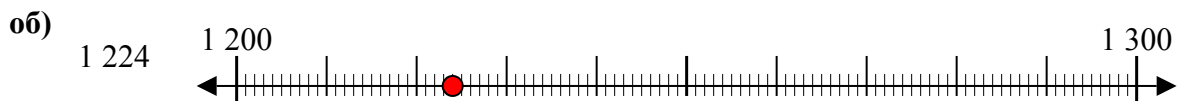
608



10. _____



Используйте числовые прямые для округления до сотни.



Ответы

об. 1 200

1. 9 900

2. 81 900

3. 800

4. 3 800

5. 200

6. 45 100

7. 21 400

8. 85 100

9. 200

10. 600



Используйте числовые прямые для округления до сотни.

об)

25 932



1)

28 551



2)

854



3)

831



4)

274



5)

12 793



6)

5 558



7)

5 688



8)

134



9)

9 335



10)

36 045



Ответы

об. 25 900

1. _____

2. _____

3. _____

4. _____

5. _____

6. _____

7. _____

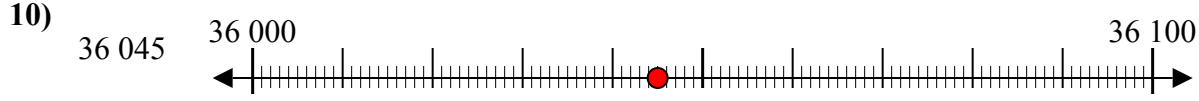
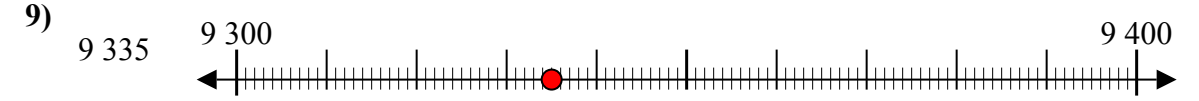
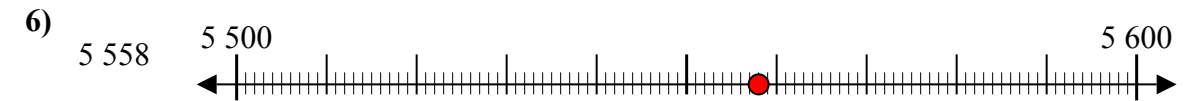
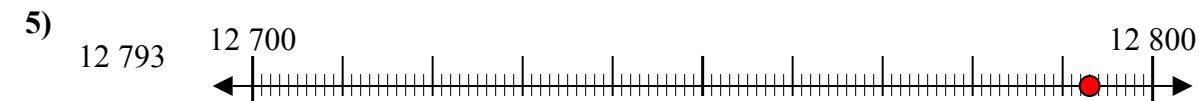
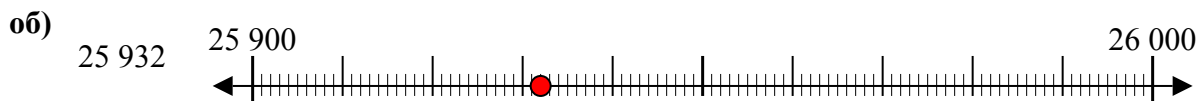
8. _____

9. _____

10. _____



Используйте числовые прямые для округления до сотни.



Ответы

об. 25 900

1. 28 600

2. 900

3. 800

4. 300

5. 12 800

6. 5 600

7. 5 700

8. 100

9. 9 300

10. 36 000



Используйте числовые прямые для округления до сотни.

Ответы

об)

803



об. 800

1)

589



1. _____

2)

35 102



2. _____

3)

6 126



3. _____

4)

5 531



4. _____

5)

5 313



5. _____

6)

951



6. _____

7)

8 816



7. _____

8)

152



8. _____

9)

62 481



9. _____

10)

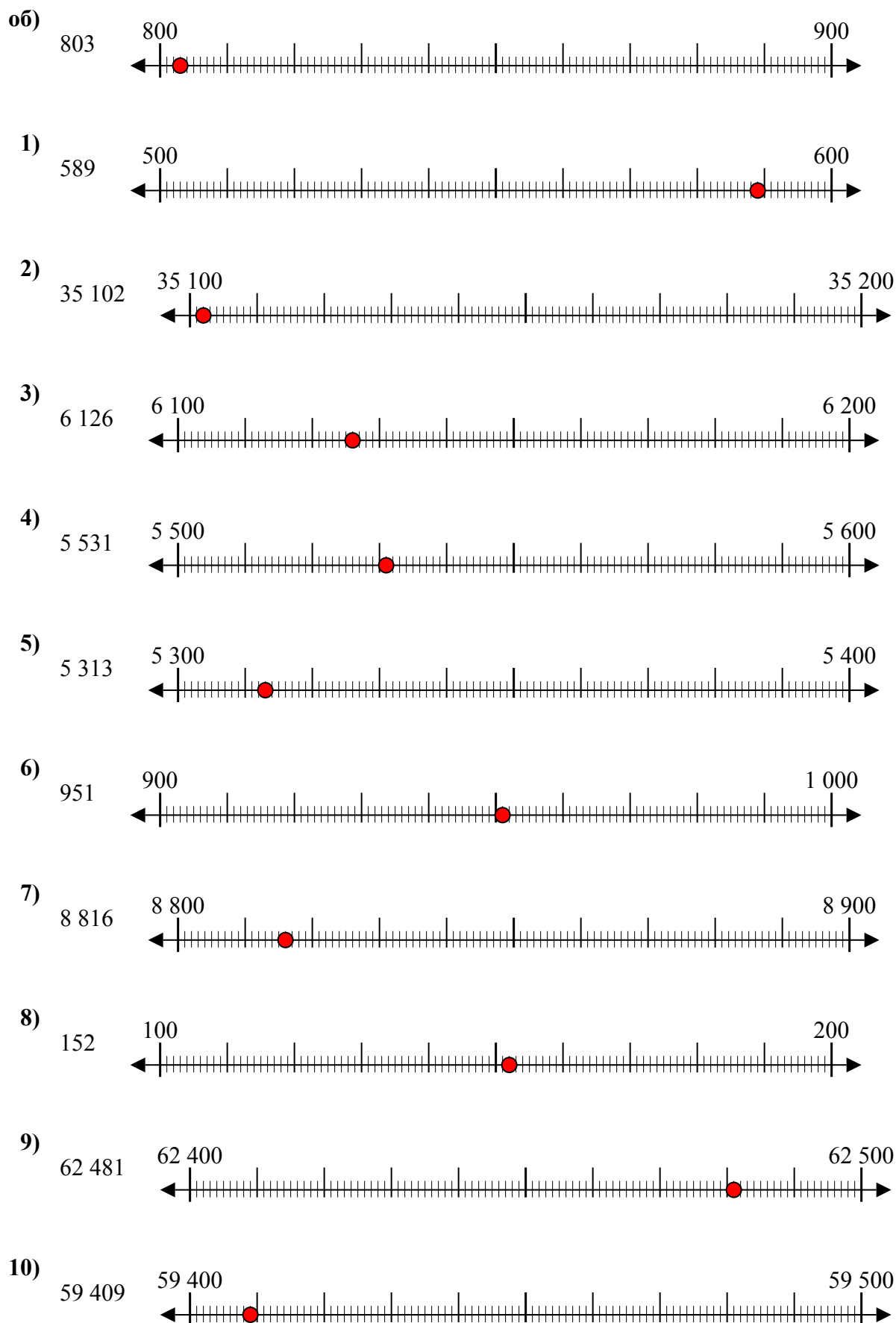
59 409



10. _____



Используйте числовые прямые для округления до сотни.



Ответы

- об. 800
- 1. 600
- 2. 35 100
- 3. 6 100
- 4. 5 500
- 5. 5 300
- 6. 1 000
- 7. 8 800
- 8. 200
- 9. 62 500
- 10. 59 400



Используйте числовые прямые для округления до сотни.

Отвeты

об)

842



об. 800

1)

777



1. _____

2)

395



2. _____

3)

856



3. _____

4)

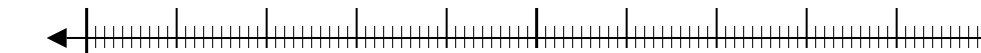
7 693



4. _____

5)

22 440



5. _____

6)

52 709



6. _____

7)

5 550



7. _____

8)

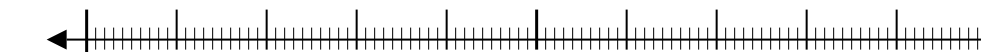
6 348



8. _____

9)

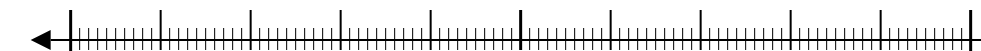
76 807



9. _____

10)

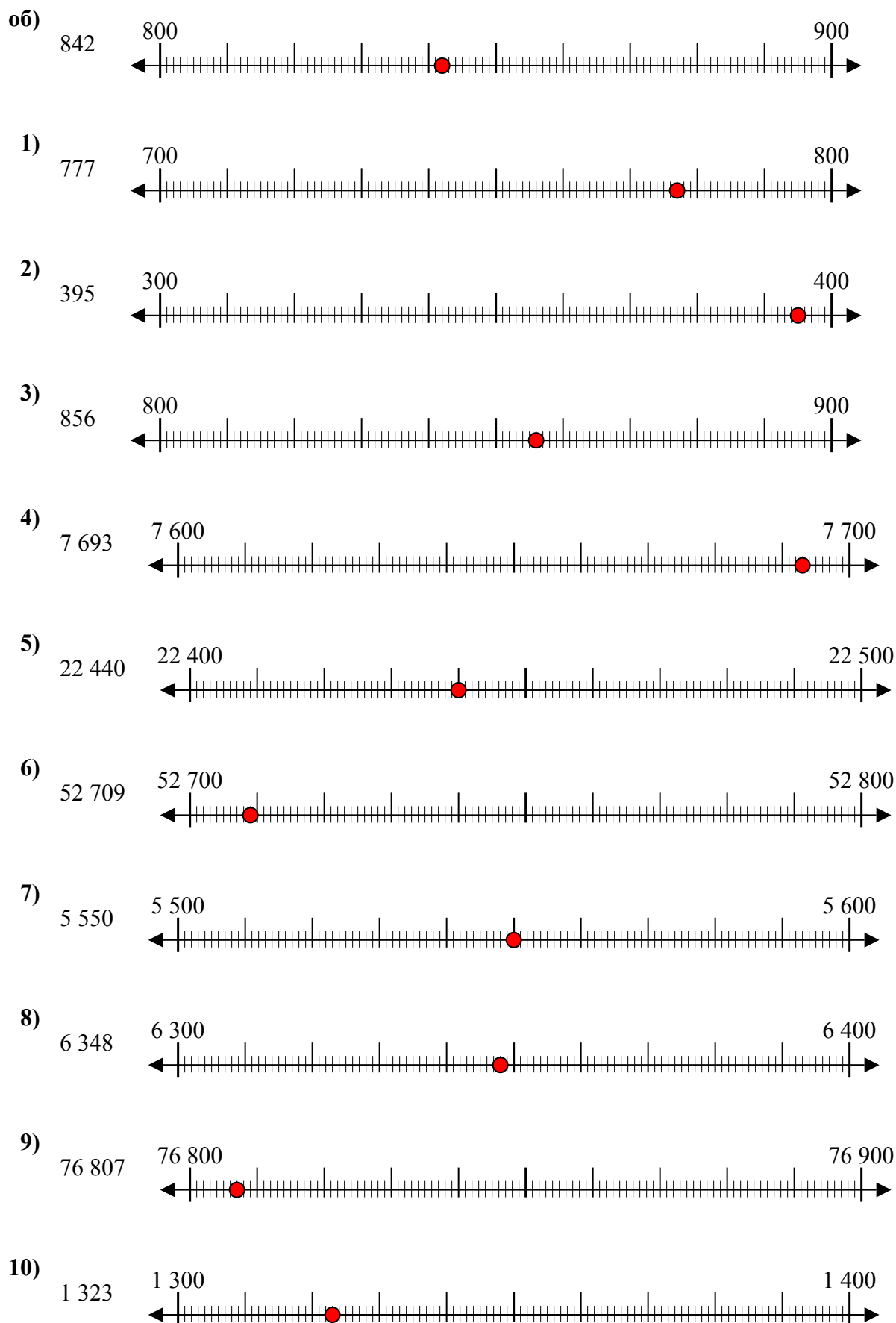
1 323



10. _____



Используйте числовые прямые для округления до сотни.



Ответы

- об. 800
- 1. 800
- 2. 400
- 3. 900
- 4. 7 700
- 5. 22 400
- 6. 52 700
- 7. 5 600
- 8. 6 300
- 9. 76 800
- 10. 1 300



Используйте числовые прямые для округления до сотни.

об)

22 128



1)

7 798



2)

73 791



3)

48 807



4)

1 381



5)

746



6)

140



7)

904



8)

93 445



9)

4 176



10)

369



Отвeты

об. 22 100

1. _____

2. _____

3. _____

4. _____

5. _____

6. _____

7. _____

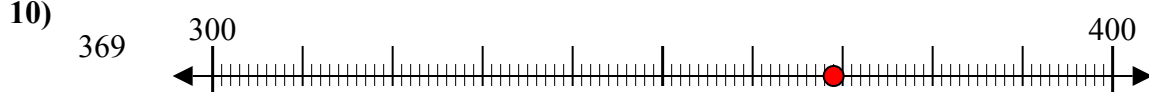
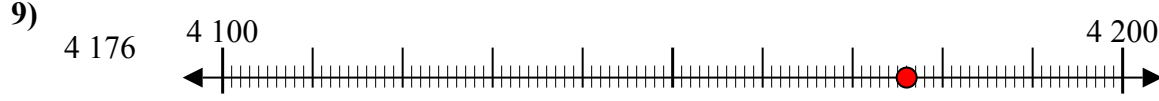
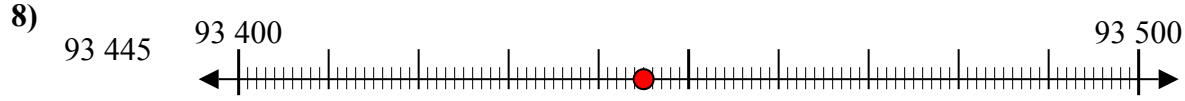
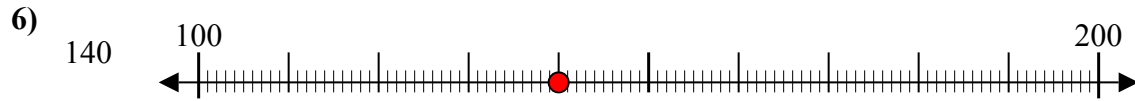
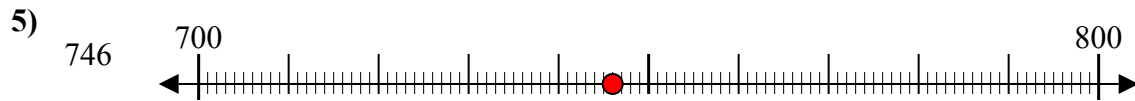
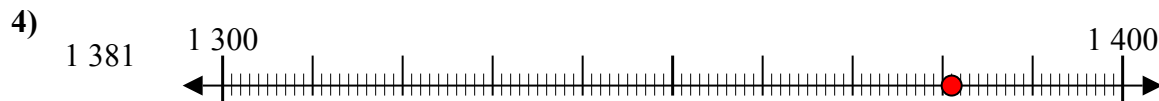
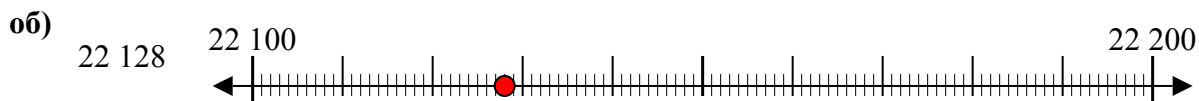
8. _____

9. _____

10. _____



Используйте числовые прямые для округления до сотни.



Ответы

об. 22 100

1. 7 800

2. 73 800

3. 48 800

4. 1 400

5. 700

6. 100

7. 900

8. 93 400

9. 4 200

10. 400



Используйте числовые прямые для округления до сотни.

об)

4 028



1)

905



2)

4 915



3)

984



4)

6 410



5)

43 902



6)

20 088



7)

59 370



8)

815



9)

38 901



10)

4 908



Ответы

об. 4 000

1. _____

2. _____

3. _____

4. _____

5. _____

6. _____

7. _____

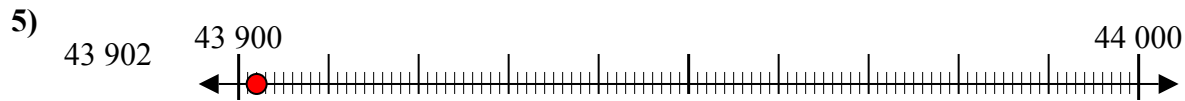
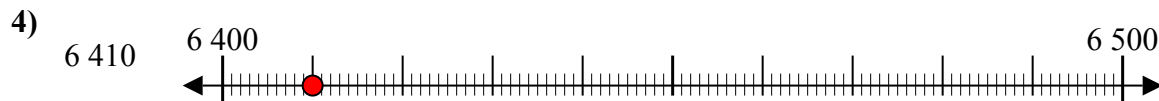
8. _____

9. _____

10. _____



Используйте числовые прямые для округления до сотни.



Ответы

об. 4 000

1. 900

2. 4 900

3. 1 000

4. 6 400

5. 43 900

6. 20 100

7. 59 400

8. 800

9. 38 900

10. 4 900