



Используйте двойные числовые прямые для решения задач.

Ответы

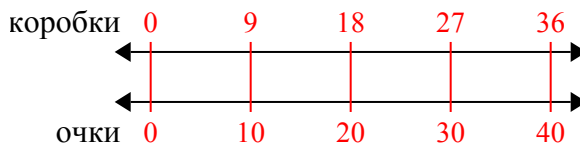
1) На школьной распродаже, за каждые 9 проданных коробок(ки) шоколада можно было заработать 10 очков(ка). Если Вы собираетесь продать 36 коробок(ки), то сколько всего очков Вы заработаете?	коробки ←————→ очки ←————→	1. _____ 2. _____
2) В своем MP3 плеере, на каждые 6 популярных песен(ни), которые были у ?, она имела по 3 песен(ни) кантри. Если у нее 36 популярных песен(ни) на MP3 плеере, то сколько песен кантри она имеет?	улярные ←————→ кантри ←————→	3. _____ 4. _____ 5. _____
3) В коробке с конфетами имеется 8 вишневых конфет(ы) на каждые 6 лимонных конфет(ы). Если коробка содержит 36 лимонных конфет(ы), то сколько вишневых там находится?	лимонные ←————→ вишневые ←————→	6. _____ 7. _____ 8. _____
4) Соотношение мальчиков и девочек в парке 9 к 5. Если там было 45 мальчиков(ка), то сколько девочек там находилось?	мальчики ←————→ девочки ←————→	
5) Строитель может достать 6 листов(та) гипсокартона за \$4. Если он купил 60 листов(та), то сколько денег он потратил?	листок ←————→ цена ←————→	
6) В видео игре за каждых 7 побежденных врагов(га), Вы получаете 6 баллов(ла). Если Вы победили 56 врагов(га), то сколько баллов Вы заработаете?	враги ←————→ баллы ←————→	
7) За каждые 9 банок(ки), которые ? собрал для переработки, он заработал 8 центов(та). Сколько денег он заработает, если соберет 18 банок?	банки ←————→ деньги ←————→	
8) В кинотеатре используют 10 чашек(ки) масла на каждые 4 партии(ий) поп-корна. Сколько масла будет использовано на приготовление 24 партий поп-корна?	п-корн ←————→ масло ←————→	



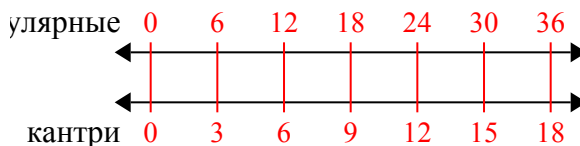
Используйте двойные числовые прямые для решения задач.

Ответы

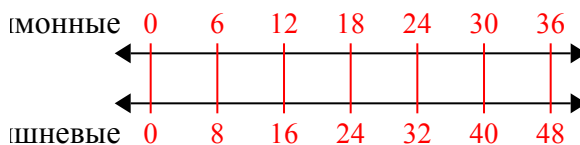
- 1) На школьной распродаже, за каждые 9 проданных коробок(ки) шоколада можно было заработать 10 очков(ка). Если Вы собираетесь продать 36 коробок(ки), то сколько всего очков Вы заработаете?

1. 40

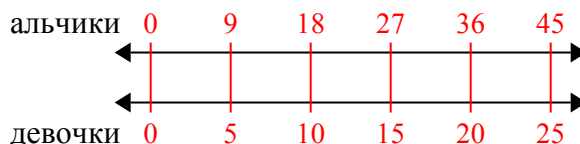
- 2) В своем MP3 плеере, на каждые 6 популярных песен(ни), которые были у ?, она имела по 3 песен(ни) кантри. Если у нее 36 популярных песен(ни) на MP3 плеере, то сколько песен кантри она имеет?

2. 18

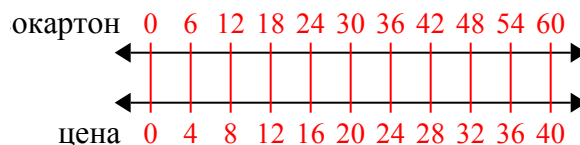
- 3) В коробке с конфетами имеется 8 вишневых конфет(ы) на каждые 6 лимонных конфет(ы). Если коробка содержит 36 лимонных конфет(ы), то сколько вишневых там находится?

3. 48

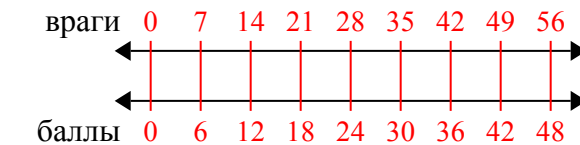
- 4) Соотношение мальчиков и девочек в парке 9 к 5. Если там было 45 мальчиков(ка), то сколько девочек там находилось?

4. 25

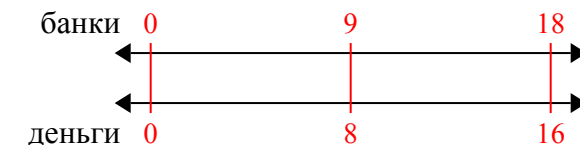
- 5) Строитель может достать 6 листов(та) гипсокартона за \$4. Если он купил 60 листов(та), то сколько денег он потратил?

5. 40

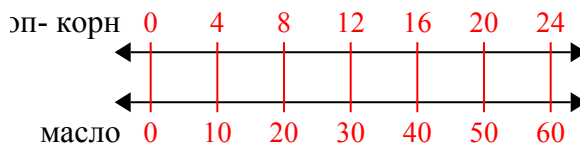
- 6) В видео игре за каждых 7 побежденных врагов(га), Вы получаете 6 баллов(ла). Если Вы победили 56 врагов(га), то сколько баллов Вы заработаете?

6. 48

- 7) За каждые 9 банок(ки), которые ? собрал для переработки, он заработал 8 центов(та). Сколько денег он заработает, если соберет 18 банок?

7. 16

- 8) В кинотеатре используют 10 чашек(ки) масла на каждые 4 партии(ий) поп-корна. Сколько масла будет использовано на приготовление 24 партий поп-корна?

8. 60