



**Используйте двойные числовые прямые для решения задач.**

**Ответы**

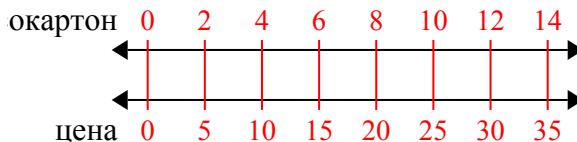
<p>1) Строитель может достать 2 листов(та) гипсокартона за \$5. Если он купил 14 листов(та), то сколько денег он потратил?</p>	<p>окартон ←————→ цена ←————→</p>	<p>1. _____ 2. _____</p>
<p>2) В кинотеатре используют 9 чашек(ки) масла на каждые 4 партии(ий) поп- корна. Сколько масла будет использовано на приготовление 36 партий поп- корна?</p>	<p>эп- корн ←————→ масло ←————→</p>	<p>3. _____ 4. _____</p>
<p>3) В своем MP3 плеере, на каждые 2 популярных песен(ни), которые были у ?, она имела по 3 песен(ни) кантри. Если у нее 14 популярных песен(ни) на MP3 плеере, то сколько песен кантри она имеет?</p>	<p>улярные ←————→ кантри ←————→</p>	<p>6. _____ 7. _____</p>
<p>4) В ресторане Джо дают по 3 салфеток(ки) за каждые 7 заказанных блюд(а). Если кто-то заказал 63 блюд(а), то сколько салфеток он получит?</p>	<p>блюдо ←————→ алфетки ←————→</p>	<p>8. _____</p>
<p>5) В видео игре за каждых 2 побежденных врагов(га), Вы получаете 3 баллов(ла). Если Вы победили 8 врагов(га), то сколько баллов Вы заработаете?</p>	<p>враги ←————→ баллы ←————→</p>	
<p>6) В коробке с конфетами имеется 9 вишневых конфет(ы) на каждые 6 лимонных конфет(ы). Если коробка содержит 60 лимонных конфет(ы), то сколько вишневых там находится?</p>	<p>имонные ←————→ шневые ←————→</p>	
<p>7) По рецепту нужно 9 чайных ложек(ки) приправы для каждых 5 партий курицы. Если у Вас 45 партий(ии), то сколько чайных ложек приправы Вам понадобится?</p>	<p>курица ←————→ риправа ←————→</p>	
<p>8) За каждые 2 банок(ки), которые ? собрал для переработки, он заработал 5 центов(та). Сколько денег он заработает, если соберет 20 банок?</p>	<p>банки ←————→ деньги ←————→</p>	



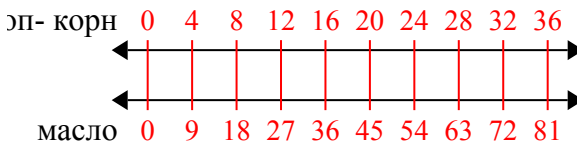
Используйте двойные числовые прямые для решения задач.

Ответы

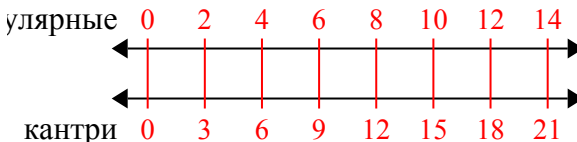
- 1) Строитель может достать 2 листов(та) гипсокартона за \$5. Если он купил 14 листов(та), то сколько денег он потратил?

1. 35

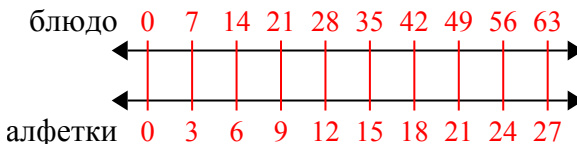
- 2) В кинотеатре используют 9 чашек(ки) масла на каждые 4 партии(ий) поп-корна. Сколько масла будет использовано на приготовление 36 партий поп-корна?

2. 81

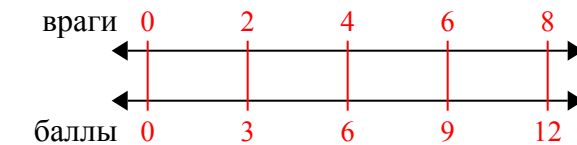
- 3) В своем MP3 плеере, на каждые 2 популярных песен(ни), которые были у ?, она имела по 3 песен(ни) кантри. Если у нее 14 популярных песен(ни) на MP3 плеере, то сколько песен кантри она имеет?

3. 21

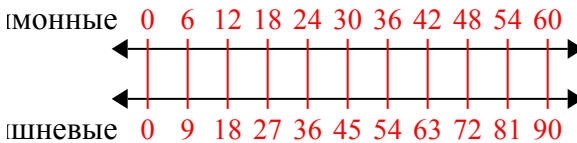
- 4) В ресторане Джо дают по 3 салфеток(ки) за каждые 7 заказанных блюд(а). Если кто-то заказал 63 блюд(а), то сколько салфеток он получит?

4. 27

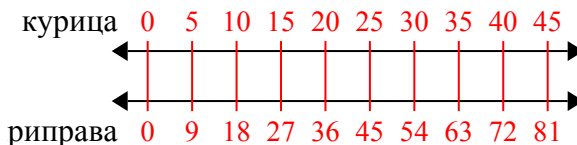
- 5) В видео игре за каждых 2 побежденных врагов(га), Вы получаете 3 баллов(ла). Если Вы победили 8 врагов(га), то сколько баллов Вы заработаете?

5. 12

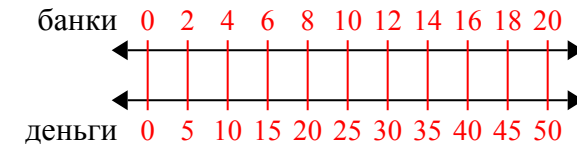
- 6) В коробке с конфетами имеется 9 вишневых конфет(ы) на каждые 6 лимонных конфет(ы). Если коробка содержит 60 лимонных конфет(ы), то сколько вишневых там находится?

6. 90

- 7) По рецепту нужно 9 чайных ложек(ки) приправы для каждых 5 партий курицы. Если у Вас 45 партий(ии), то сколько чайных ложек приправы Вам понадобится?

7. 81

- 8) За каждые 2 банок(ки), которые ? собрал для переработки, он заработал 5 центов(та). Сколько денег он заработает, если соберет 20 банок?

8. 50