



Используйте двойные числовые прямые для решения задач.

Ответы

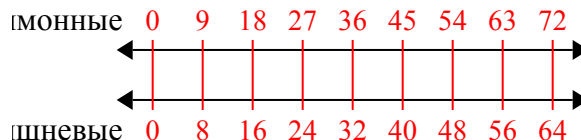
| | | |
|--|--|----------------------------------|
| 1) В коробке с конфетами имеется 8 вишневых конфет(ы) на каждые 9 лимонных конфет(ы). Если коробка содержит 72 лимонных конфет(ы), то сколько вишневых там находится? | лимонные ←————→ вишневые ←————→ | 1. _____ 2. _____ |
| 2) Строитель может достать 9 листов(та) гипсокартона за \$5. Если он купил 90 листов(та), то сколько денег он потратил? | гипсокартон ←————→ цена ←————→ | 3. _____ 4. _____ 5. _____ |
| 3) По рецепту нужно 8 чайных ложек(ки) приправы для каждой 5 партий курицы. Если у Вас 10 партий(ии), то сколько чайных ложек приправы Вам понадобится? | курица ←————→ приправа ←————→ | 6. _____ 7. _____ |
| 4) За каждые 7 банок(ки), которые ? собрал для переработки, он заработал 9 центов(та). Сколько денег он заработает, если соберет 14 банок? | банки ←————→ деньги ←————→ | 8. _____ |
| 5) В видео игре за каждые 3 побежденных врагов(га), Вы получаете 6 баллов(ла). Если Вы победили 24 врагов(га), то сколько баллов Вы заработаете? | враги ←————→ баллы ←————→ | |
| 6) Соотношение мальчиков и девочек в парке 9 к 5. Если там было 18 мальчиков(ка), то сколько девочек там находилось? | мальчики ←————→ девочки ←————→ | |
| 7) В своем MP3 плеере, на каждые 7 популярных песен(ни), которые были у ?, она имела по 8 песен(ни) кантри. Если у нее 49 популярных песен(ни) на MP3 плеере, то сколько песен кантри она имеет? | популярные ←————→ кантри ←————→ | |
| 8) В ресторане Джо дают по 8 салфеток(ки) за каждые 9 заказанных блюд(а). Если кто-то заказал 90 блюд(а), то сколько салфеток он получит? | блюдо ←————→ салфетки ←————→ | |



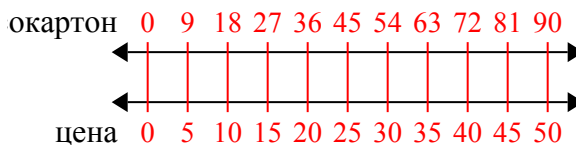
Используйте двойные числовые прямые для решения задач.

Ответы

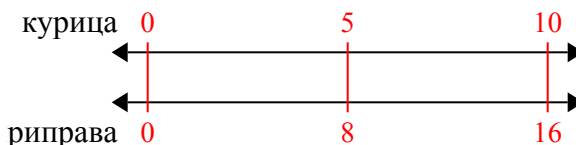
- 1) В коробке с конфетами имеется 8 вишневых конфет(ы) на каждые 9 лимонных конфет(ы). Если коробка содержит 72 лимонных конфет(ы), то сколько вишневых там находится?

1. 64

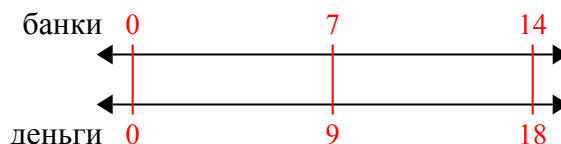
- 2) Строитель может достать 9 листов(та) гипсокартона за \$5. Если он купил 90 листов(та), то сколько денег он потратил?

2. 50

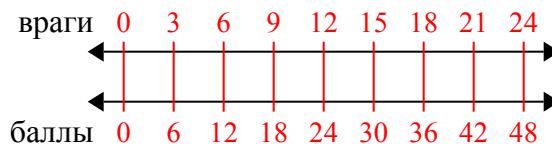
- 3) По рецепту нужно 8 чайных ложек(ки) приправы для каждой 5 партий курицы. Если у Вас 10 партий(ии), то сколько чайных ложек приправы Вам понадобится?

3. 16

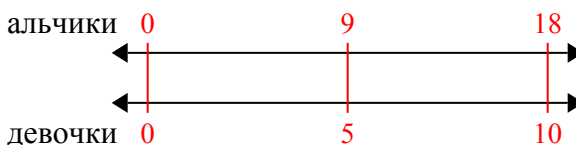
- 4) За каждые 7 банок(ки), которые ? собрал для переработки, он заработал 9 центов(та). Сколько денег он заработает, если соберет 14 банок?

4. 18

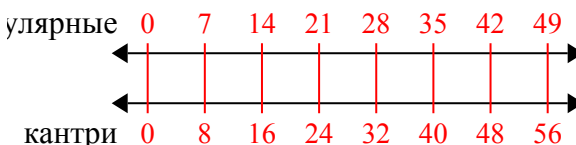
- 5) В видео игре за каждые 3 побежденных врагов(га), Вы получаете 6 баллов(ла). Если Вы победили 24 врагов(га), то сколько баллов Вы заработаете?

5. 48

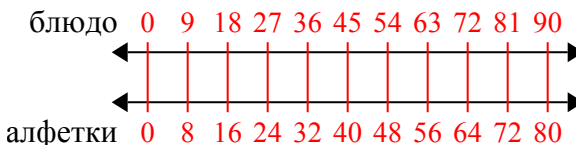
- 6) Соотношение мальчиков и девочек в парке 9 к 5. Если там было 18 мальчиков(ка), то сколько девочек там находилось?

6. 10

- 7) В своем MP3 плеере, на каждые 7 популярных песен(ни), которые были у ?, она имела по 8 песен(ни) кантри. Если у нее 49 популярных песен(ни) на MP3 плеере, то сколько песен кантри она имеет?

7. 56

- 8) В ресторане Джо дают по 8 салфеток(ки) за каждые 9 заказанных блюд(а). Если кто-то заказал 90 блюд(а), то сколько салфеток он получит?

8. 80