



Используйте двойные числовые прямые для решения задач.

Ответы

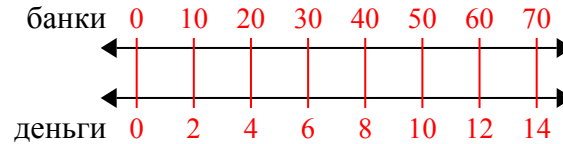
<p>1) За каждые 10 банок(ки), которые ? собрал для переработки, он заработал 2 центов(та). Сколько денег он заработает, если соберет 70 банок?</p>	<p>банки ←————→ денеги ←————→</p>	<p>1. _____ 2. _____</p>
<p>2) Соотношение мальчиков и девочек в парке 6 к 4. Если там было 30 мальчиков(ка), то сколько девочек там находилось?</p>	<p>альчики ←————→ девочки ←————→</p>	<p>3. _____ 4. _____</p>
<p>3) В видео игре за каждые 7 побежденных врагов(га), Вы получаете 2 баллов(ла). Если Вы победили 56 врагов(га), то сколько баллов Вы заработаете?</p>	<p>враги ←————→ баллы ←————→</p>	<p>6. _____ 7. _____</p>
<p>4) В коробке с конфетами имеется 8 вишневых конфет(ы) на каждые 10 лимонных конфет(ы). Если коробка содержит 20 лимонных конфет(ы), то сколько вишневых там находится?</p>	<p>лимонные ←————→ вишневые ←————→</p>	<p>8. _____</p>
<p>5) Строитель может достать 7 листов(та) гипсокартона за \$5. Если он купил 42 листов(та), то сколько денег он потратил?</p>	<p>гипсокартон ←————→ цена ←————→</p>	
<p>6) По рецепту нужно 8 чайных ложек(ки) приправы для каждые 3 партий курицы. Если у Вас 15 партий(ий), то сколько чайных ложек приправы Вам понадобится?</p>	<p>курица ←————→ приправа ←————→</p>	
<p>7) В кинотеатре используют 5 чашек(ки) масла на каждые 6 партии(ий) поп-корна. Сколько масла будет использовано на приготовление 12 партий поп-корна?</p>	<p>поп-корн ←————→ масло ←————→</p>	
<p>8) В ресторане Джо дают по 5 салфеток(ки) за каждые 7 заказанных блюд(а). Если кто-то заказал 70 блюд(а), то сколько салфеток он получит?</p>	<p>блюдо ←————→ салфетки ←————→</p>	



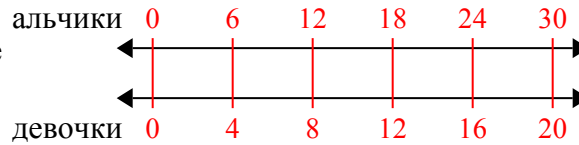
Используйте двойные числовые прямые для решения задач.

Ответы

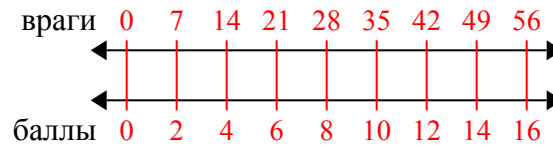
- 1) За каждые 10 банок(ки), которые ? собрал для переработки, он заработал 2 центов(та). Сколько денег он заработает, если соберет 70 банок?

1. 14

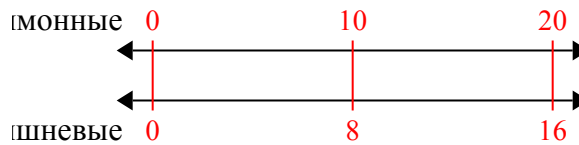
- 2) Соотношение мальчиков и девочек в парке 6 к 4. Если там было 30 мальчиков(ка), то сколько девочек там находилось?

3. 16

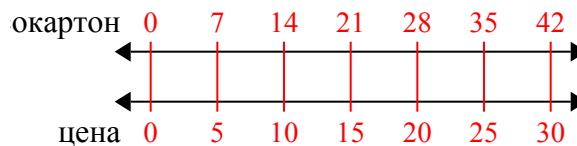
- 3) В видео игре за каждых 7 побежденных врагов(га), Вы получаете 2 баллов(ла). Если Вы победили 56 врагов(га), то сколько баллов Вы заработаете?

6. 40

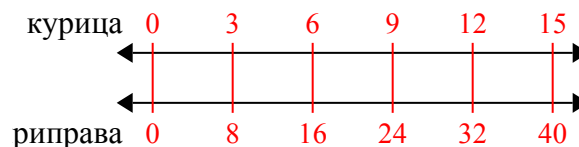
- 4) В коробке с конфетами имеется 8 вишневых конфет(ы) на каждые 10 лимонных конфет(ы). Если коробка содержит 20 лимонных конфет(ы), то сколько вишневых там находится?

8. 50

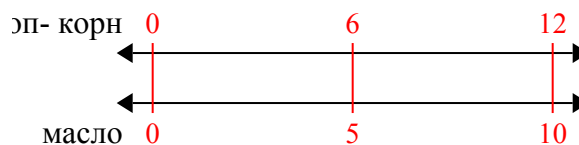
- 5) Строитель может достать 7 листов(та) гипсокартона за \$5. Если он купил 42 листов(та), то сколько денег он потратил?



- 6) По рецепту нужно 8 чайных ложек(ки) приправы для каждых 3 партий курицы. Если у Вас 15 партий(ий), то сколько чайных ложек приправы Вам понадобится?



- 7) В кинотеатре используют 5 чашек(ки) масла на каждые 6 партии(ий) поп-корна. Сколько масла будет использовано на приготовление 12 партий поп-корна?



- 8) В ресторане Джо дают по 5 салфеток(ки) за каждые 7 заказанных блюд(а). Если кто-то заказал 70 блюд(а), то сколько салфеток он получит?

