




**Используйте двойные числовые прямые для решения задач.**

**Ответы**

1) В своем MP3 плеере, на каждые 5 популярных песен(ни), которые были у ?, она имела по 6 песен(ни) кантри. Если у нее 40 популярных песен(ни) на MP3 плеере, то сколько песен кантри она имеет?

улярные





кантри

1. \_\_\_\_\_

2) За каждые 2 банок(ки), которые ? собрал для переработки, он заработал 7 центов(та). Сколько денег он заработает, если соберет 10 банок?

банки





деньги

2. \_\_\_\_\_

3. \_\_\_\_\_

3) В кинотеатре используют 3 чашек(ки) масла на каждые 7 партии(ий) поп-корна. Сколько масла будет использовано на приготовление 14 партий поп-корна?

оп-корн




масло

6. \_\_\_\_\_

7. \_\_\_\_\_

4) Соотношение мальчиков и девочек в парке 6 к 7. Если там было 24 мальчиков(ка), то сколько девочек там находилось?

альчики





девочки

8. \_\_\_\_\_

5) По рецепту нужно 10 чайных ложек(ки) приправы для каждых 5 партий курицы. Если у Вас 50 партий(ии), то сколько чайных ложек приправы Вам понадобится?



курица



риправа

6) Строитель может достать 4 листов(та) гипсокартона за \$2. Если он купил 12 листов(та), то сколько денег он потратил?


окартон



цена

7) В коробке с конфетами имеется 7 вишневых конфет(ы) на каждые 8 лимонных конфет(ы). Если коробка содержит 72 лимонных конфет(ы), то сколько вишневых там находится?


имонные



ишневые

8) В магазине была распродажа, где можно купить 9 пакетика(ков) кешью за \$10. Если Вы хотите купить 27 пакетика(ов), то сколько это будет стоить?

кешью



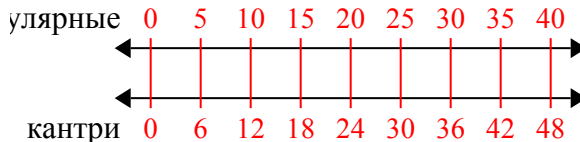
цена



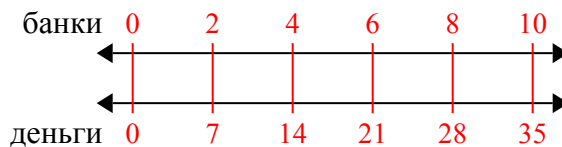
Используйте двойные числовые прямые для решения задач.

Ответы

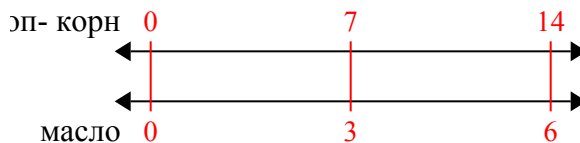
- 1) В своем MP3 плеере, на каждые 5 популярных песен(ни), которые были у ?, она имела по 6 песен(ни) кантри. Если у нее 40 популярных песен(ни) на MP3 плеере, то сколько песен кантри она имеет?

1. 48

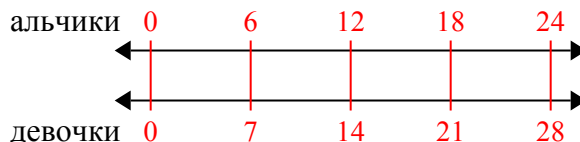
- 2) За каждые 2 банок(ки), которые ? собрал для переработки, он заработал 7 центов(та). Сколько денег он заработает, если соберет 10 банок?

2. 35

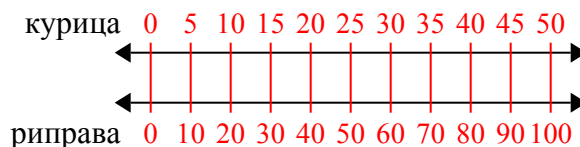
- 3) В кинотеатре используют 3 чашек(ки) масла на каждые 7 партий(ий) поп-корна. Сколько масла будет использовано на приготовление 14 партий поп-корна?

3. 6

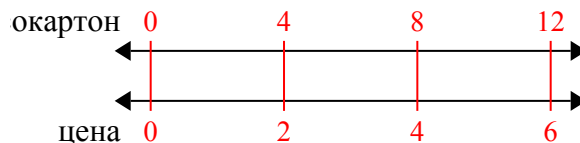
- 4) Соотношение мальчиков и девочек в парке 6 к 7. Если там было 24 мальчиков(ка), то сколько девочек там находилось?

4. 28

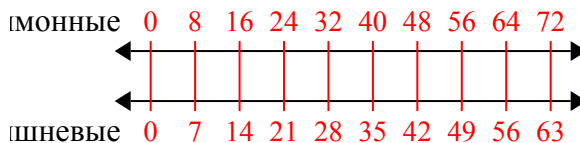
- 5) По рецепту нужно 10 чайных ложек(ки) приправы для каждых 5 партий курицы. Если у Вас 50 партий(ий), то сколько чайных ложек приправы Вам понадобится?

5. 100

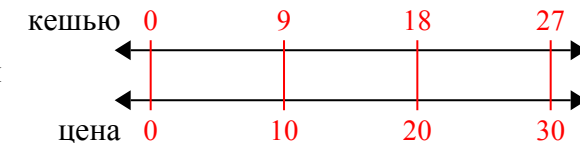
- 6) Строитель может достать 4 листов(та) гипсокартона за \$2. Если он купил 12 листов(та), то сколько денег он потратил?

6. 6

- 7) В коробке с конфетами имеется 7 вишневых конфет(ы) на каждые 8 лимонных конфет(ы). Если коробка содержит 72 лимонных конфет(ы), то сколько вишневых там находится?

7. 63

- 8) В магазине была распродажа, где можно купить 9 пакетика(ков) кешью за \$10. Если Вы хотите купить 27 пакетика(ов), то сколько это будет стоить?

8. 30