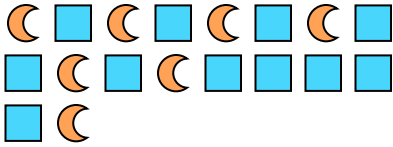




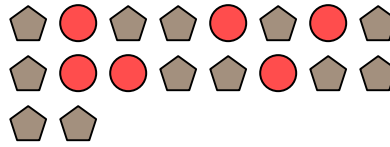
Решите каждую задачу.

Отвeты

об) Каково соотношение квадратов(та) и луны ?



1) Каково соотношение кругов(га) и пятиугольников(ка)?



об. **11:7**

2) Каково соотношение кругов(га) и луны ?




3) Каково соотношение звезд(ы) и кругов(га)?



1. _____

2. _____

4) Каково соотношение луны и кругов(га)?



5) Каково соотношение луны и звезд(ы)?

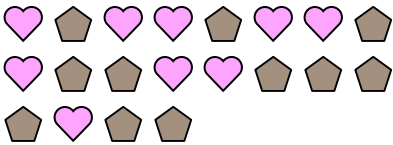


3. _____

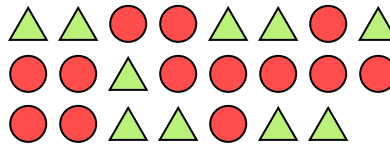
4. _____

5. _____

6) Каково соотношение пятиугольников(ка) и сердца ?



7) Каково соотношение кругов(га) и треугольников(ка)?



6. _____

7. _____

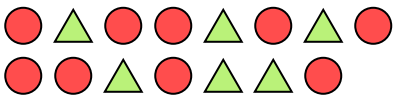
8. _____

9. _____

10. _____

11. _____

8) Каково соотношение кругов(га) и треугольников(ка)?



9) Каково соотношение звезд(ы) и луны ?



10) Каково соотношение звезд(ы) и сердца ?



11) Каково соотношение луны и квадратов(та)?

