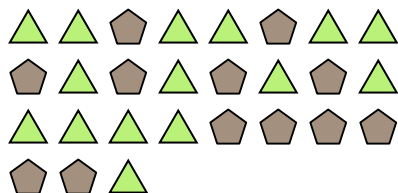




Решите каждую задачу.

об) Каково соотношение пятиугольников(ка) и треугольников(ка)?



2) Каково соотношение звезд(ы) и квадратов(та)?



4) Каково соотношение сердца и луны ?



6) Каково соотношение луны и звезд(ы)?




8) Каково соотношение пятиугольников(ка) и звезд(ы)?




10) Каково соотношение звезд(ы) и луны ?



1) Каково соотношение кругов(га) и луны ?




3) Каково соотношение луны и пятиугольников(ка)?




5) Каково соотношение звезд(ы) и треугольников(ка)?



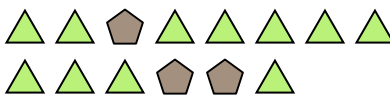
7) Каково соотношение пятиугольников(ка) и сердца ?



9) Каково соотношение кругов(га) и луны ?



11) Каково соотношение треугольников(ка) и пятиугольников(ка)?



ОТВЕТЫ

об. 12:15

1. 11:11

2. 7:9

3. 3:15

4. 9:2

5. 4:11

6. 12:8

7. 8:10

8. 11:2

9. 15:11

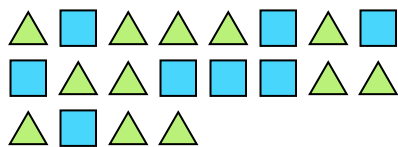
10. 4:5

11. 11:3




Решите каждую задачу.

об) Каково соотношение треугольников(ка) и квадратов(та)?



1) Каково соотношение звезд(ы) и квадратов(та)?



Ответы

12:8


2) Каково соотношение луны и звезд(ы)?



3) Каково соотношение луны и звезд(ы)?



4) Каково соотношение звезд(ы) и сердца ?



5) Каково соотношение треугольников(ка) и сердца ?



6) Каково соотношение сердца и луны ?



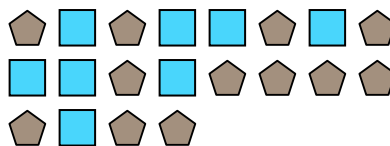
7) Каково соотношение сердца и звезд(ы)?



8) Каково соотношение сердца и кругов(га)?




9) Каково соотношение квадратов(та) и пятиугольников(ка)?



10) Каково соотношение сердца и пятиугольников(ка)?



11) Каково соотношение квадратов(та) и звезд(ы)?

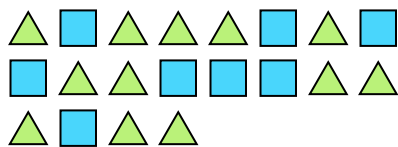


- об. 12:8
1.
2.
3.
4.
5.
6.
7.
8.
9.
10.
11.




Решите каждую задачу.

об) Каково соотношение треугольников(ка) и квадратов(та)?



1) Каково соотношение звезд(ы) и квадратов(та)?




2) Каково соотношение луны и звезд(ы)?



3) Каково соотношение луны и звезд(ы)?



4) Каково соотношение звезд(ы) и сердца ?



5) Каково соотношение треугольников(ка) и сердца ?



6) Каково соотношение сердца и луны ?



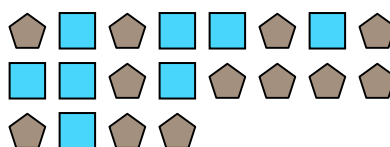
7) Каково соотношение сердца и звезд(ы)?



8) Каково соотношение сердца и кругов(га)?




9) Каково соотношение квадратов(та) и пятиугольников(ка)?



10) Каково соотношение сердца и пятиугольников(ка)?



11) Каково соотношение квадратов(та) и звезд(ы)?



ОТВЕТЫ

об. 12:8

1. 3:9

2. 11:2

3. 10:4

4. 8:11

5. 8:6

6. 2:10

7. 9:13

8. 9:7

9. 8:12

10. 4:2

11. 13:14



Решите каждую задачу.

Ответы

об) Каково соотношение луны и сердца ?

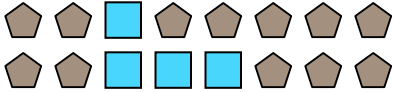


1) Каково соотношение звезд(ы) и сердца ?




об. **15:7**

2) Каково соотношение квадратов(та) и пятиугольников(ка)?



3) Каково соотношение сердца и квадратов(та)?



1. _____


2. _____

3. _____


4. _____

5. _____

4) Каково соотношение звезд(ы) и кругов(га)?



5) Каково соотношение сердца и луны ?



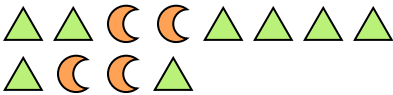
6. _____

7. _____

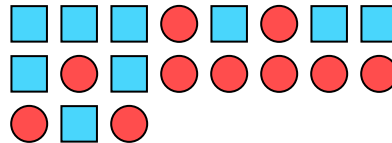
8. _____

9. _____

6) Каково соотношение луны и треугольников(ка)?



7) Каково соотношение квадратов(та) и кругов(га)?



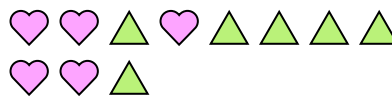
10. _____

11. _____

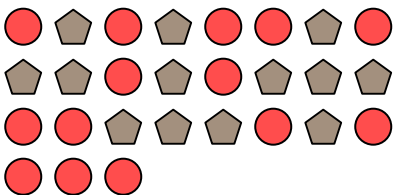
8) Каково соотношение звезд(ы) и сердца ?




9) Каково соотношение треугольников(ка) и сердца ?



10) Каково соотношение кругов(га) и пятиугольников(ка)?



11) Каково соотношение звезд(ы) и квадратов(та)?





Решите каждую задачу.

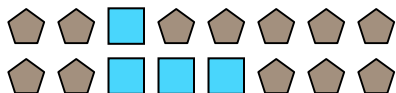
об) Каково соотношение луны и сердца ?




1) Каково соотношение звезд(ы) и сердца ?




2) Каково соотношение квадратов(та) и пятиугольников(ка)?




3) Каково соотношение сердца и квадратов(та)?



4) Каково соотношение звезд(ы) и кругов(га)?



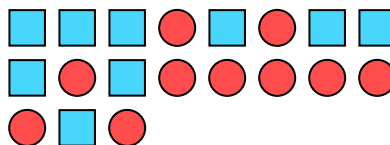
5) Каково соотношение сердца и луны ?



6) Каково соотношение луны и треугольников(ка)?



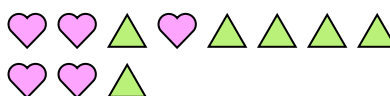
7) Каково соотношение квадратов(та) и кругов(га)?



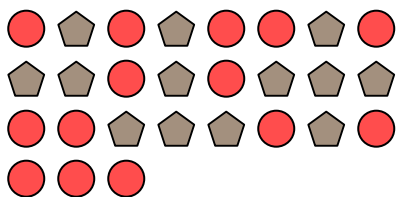
8) Каково соотношение звезд(ы) и сердца ?




9) Каково соотношение треугольников(ка) и сердца ?



10) Каково соотношение кругов(га) и пятиугольников(ка)?



11) Каково соотношение звезд(ы) и квадратов(та)?



ОТВЕТЫ

об. 15:7

1. 3:10

2. 4:12

3. 6:3

4. 2:15

5. 9:10

6. 4:8

7. 9:10

8. 2:8

9. 6:5

10. 14:13

11. 7:10



Решите каждую задачу.

об) Каково соотношение треугольников(ка) и звезд(ы)?



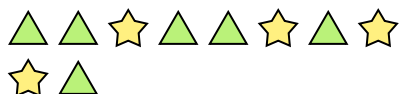
2) Каково соотношение пятиугольников(ка) и луны ?




4) Каково соотношение луны и сердца ?




6) Каково соотношение треугольников(ка) и звезд(ы)?



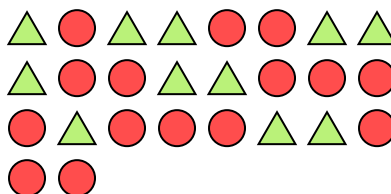
8) Каково соотношение сердца и кругов(га)?



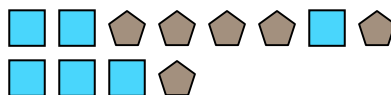
10) Каково соотношение квадратов(та) и луны ?



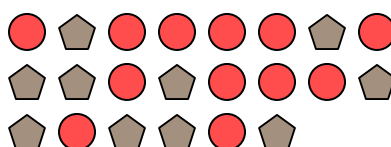
1) Каково соотношение кругов(га) и треугольников(ка)?




3) Каково соотношение квадратов(та) и пятиугольников(ка)?




5) Каково соотношение кругов(га) и пятиугольников(ка)?



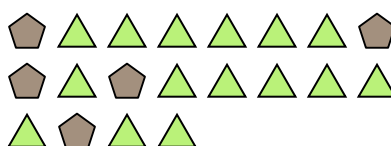
7) Каково соотношение сердца и кругов(га)?



9) Каково соотношение сердца и кругов(га)?



11) Каково соотношение треугольников(ка) и пятиугольников(ка)?



Ответы

об. 3:9

1. _____

2. _____

3. _____

4. _____

5. _____

6. _____

7. _____

8. _____

9. _____

10. _____

11. _____



Решите каждую задачу.

об) Каково соотношение треугольников(ка) и звезд(ы)?



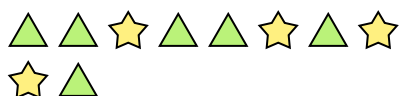
2) Каково соотношение пятиугольников(ка) и луны ?




4) Каково соотношение луны и сердца ?




6) Каково соотношение треугольников(ка) и звезд(ы)?



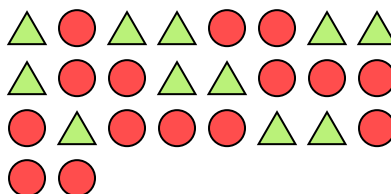
8) Каково соотношение сердца и кругов(га)?



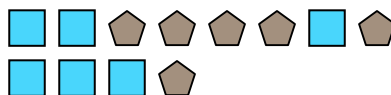
10) Каково соотношение квадратов(та) и луны ?



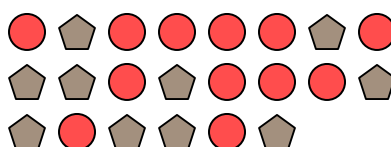
1) Каково соотношение кругов(га) и треугольников(ка)?




3) Каково соотношение квадратов(та) и пятиугольников(ка)?




5) Каково соотношение кругов(га) и пятиугольников(ка)?



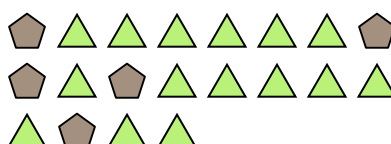
7) Каково соотношение сердца и кругов(га)?



9) Каково соотношение сердца и кругов(га)?



11) Каково соотношение треугольников(ка) и пятиугольников(ка)?



ОТВЕТЫ

об. 3:9

1. 15:11

2. 4:11

3. 6:6

4. 8:14

5. 12:10

6. 6:4

7. 8:11

8. 15:8

9. 5:9

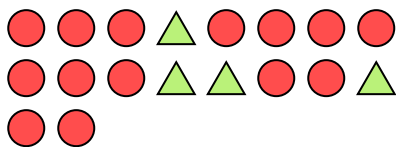
10. 6:13

11. 15:5



Решите каждую задачу.

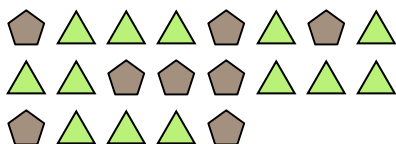
об) Каково соотношение треугольников(ка) и кругов(га)?



2) Каково соотношение кругов(га) и звезд(ы)?



4) Каково соотношение треугольников(ка) и пятиугольников(ка)?




6) Каково соотношение луны и кругов(га)?




8) Каково соотношение луны и звезд(ы)?



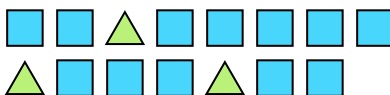
10) Каково соотношение кругов(га) и луны ?



1) Каково соотношение луны и пятиугольников(ка)?




3) Каково соотношение квадратов(га) и треугольников(ка)?




5) Каково соотношение треугольников(ка) и сердца ?



7) Каково соотношение кругов(га) и луны ?



9) Каково соотношение звезд(ы) и пятиугольников(ка)?



11) Каково соотношение пятиугольников(ка) и луны ?



Ответы

об. 4:14

1. _____

2. _____

3. _____

4. _____

5. _____

6. _____

7. _____

8. _____

9. _____

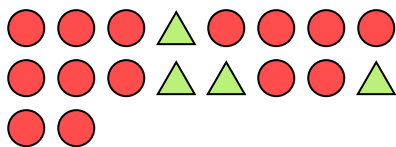
10. _____

11. _____




Решите каждую задачу.

об) Каково соотношение треугольников(ка) и кругов(га)?



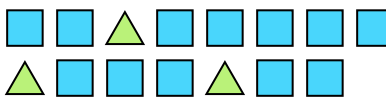
1) Каково соотношение луны и пятиугольников(ка)?



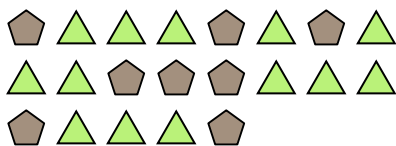
2) Каково соотношение кругов(га) и звезд(ы)?




3) Каково соотношение квадратов(га) и треугольников(ка)?



4) Каково соотношение треугольников(ка) и пятиугольников(ка)?




5) Каково соотношение треугольников(ка) и сердца ?



6) Каково соотношение луны и кругов(га)?




7) Каково соотношение кругов(га) и луны ?




8) Каково соотношение луны и звезд(ы)?



9) Каково соотношение звезд(ы) и пятиугольников(ка)?



10) Каково соотношение кругов(га) и луны ?



11) Каково соотношение пятиугольников(ка) и луны ?



Ответы

об. 4:14

1. 15:8

2. 9:7

3. 12:3

4. 13:8

5. 4:10

6. 5:4

7. 11:12

8. 7:5

9. 6:13

10. 8:15

11. 2:3

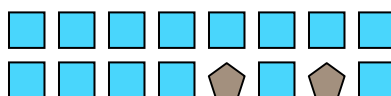


Решите каждую задачу.

об) Каково соотношение луны и квадратов(та)?




1) Каково соотношение квадратов(та) и пятиугольников(ка)?




2) Каково соотношение звезд(ы) и треугольников(ка)?



3) Каково соотношение звезд(ы) и треугольников(ка)?



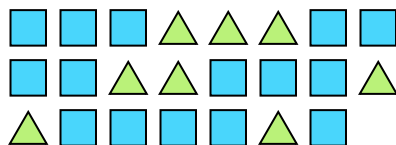
4) Каково соотношение луны и кругов(га)?




5) Каково соотношение квадратов(та) и пятиугольников(ка)?



6) Каково соотношение треугольников(ка) и квадратов(та)?



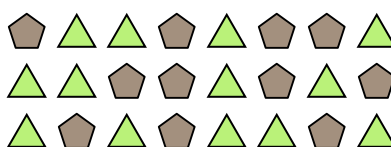
7) Каково соотношение звезд(ы) и кругов(га)?



8) Каково соотношение звезд(ы) и сердца ?



9) Каково соотношение треугольников(ка) и пятиугольников(ка)?



10) Каково соотношение кругов(га) и луны ?



11) Каково соотношение сердца и звезд(ы)?



Ответы

об. **6:2**

1. _____

2. _____

3. _____

4. _____

5. _____

6. _____

7. _____

8. _____

9. _____

10. _____

11. _____

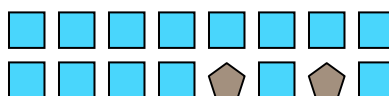


Решите каждую задачу.

об) Каково соотношение луны и квадратов(та)?




1) Каково соотношение квадратов(та) и пятиугольников(ка)?




2) Каково соотношение звезд(ы) и треугольников(ка)?



3) Каково соотношение звезд(ы) и треугольников(ка)?



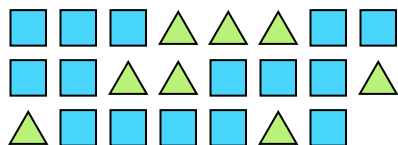
4) Каково соотношение луны и кругов(га)?




5) Каково соотношение квадратов(та) и пятиугольников(ка)?



6) Каково соотношение треугольников(ка) и квадратов(та)?



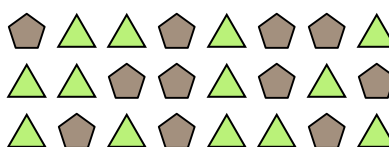
7) Каково соотношение звезд(ы) и кругов(га)?



8) Каково соотношение звезд(ы) и сердца ?



9) Каково соотношение треугольников(ка) и пятиугольников(ка)?



10) Каково соотношение кругов(га) и луны ?



11) Каково соотношение сердца и звезд(ы)?



ОТВЕТЫ

об. 6:2

1. 14:2

2. 11:8

3. 13:12

4. 5:9

5. 4:3

6. 8:15

7. 9:15

8. 6:7

9. 13:11


10. 3:2

11. 3:9



Решите каждую задачу.


об) Каково соотношение звезд(ы) и пятиугольников(ка)?




2) Каково соотношение сердца и квадратов(та)?



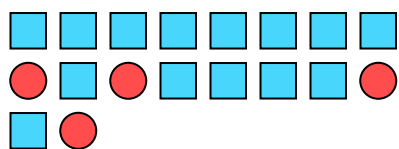
4) Каково соотношение звезд(ы) и кругов(га)?



6) Каково соотношение пятиугольников(ка) и сердца ?



8) Каково соотношение квадратов(та) и кругов(га)?



10) Каково соотношение луны и сердца ?



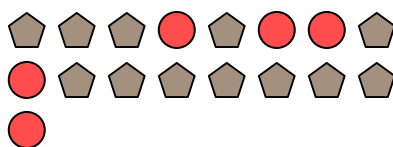
1) Каково соотношение пятиугольников(ка) и звезд(ы)?



3) Каково соотношение пятиугольников(ка) и звезд(ы)?



5) Каково соотношение кругов(га) и пятиугольников(ка)?



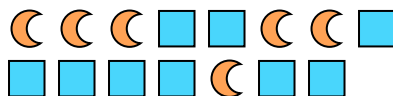
7) Каково соотношение треугольников(ка) и пятиугольников(ка)?



9) Каково соотношение звезд(ы) и пятиугольников(ка)?



11) Каково соотношение луны и квадратов(та)?



Ответы

об. 15:10

1. _____

2. _____

3. _____

4. _____

5. _____

6. _____

7. _____

8. _____

9. _____

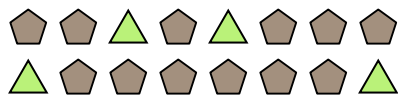
10. _____

11. _____

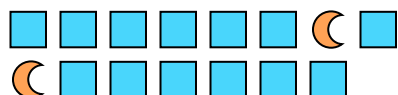


Решите каждую задачу.

об) Каково соотношение треугольников(ка) и пятиугольников(ка)?



2) Каково соотношение луны и квадратов(та)?




4) Каково соотношение звезд(ы) и пятиугольников(ка)?



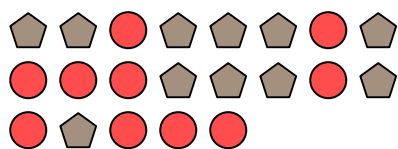
6) Каково соотношение звезд(ы) и кругов(га)?



8) Каково соотношение кругов(га) и луны ?



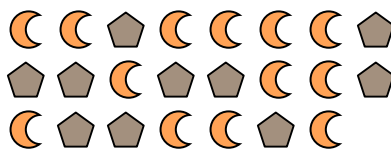
10) Каково соотношение пятиугольников(ка) и кругов(га)?




1) Каково соотношение звезд(ы) и луны ?




3) Каково соотношение пятиугольников(ка) и луны ?



5) Каково соотношение луны и квадратов(та)?




7) Каково соотношение кругов(га) и звезд(ы)?



9) Каково соотношение пятиугольников(ка) и звезд(ы)?



11) Каково соотношение квадратов(та) и сердца ?



Ответы

об. 4:12

1. _____

2. _____

3. _____

4. _____

5. _____

6. _____

7. _____

8. _____

9. _____

10. _____

11. _____

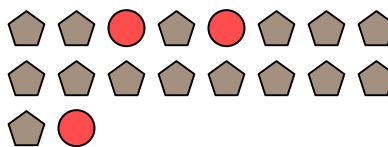


Решите каждую задачу.

об) Каково соотношение звезд(ы) и пятиугольников(ка)?



1) Каково соотношение кругов(га) и пятиугольников(ка)?




Ответы

об. **6:3**

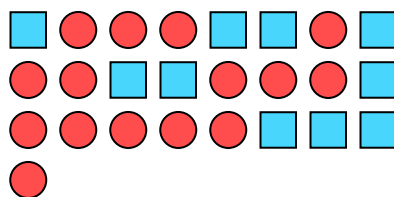
2) Каково соотношение кругов(га) и луны ?



3) Каково соотношение треугольников(ка) и луны ?



4) Каково соотношение кругов(га) и квадратов(та)?



5) Каково соотношение сердца и звезд(ы)?



6) Каково соотношение кругов(га) и треугольников(ка)?




7) Каково соотношение сердца и пятиугольников(ка)?




8) Каково соотношение пятиугольников(ка) и звезд(ы)?




9) Каково соотношение звезд(ы) и треугольников(ка)?



10) Каково соотношение квадратов(та) и луны ?



11) Каково соотношение звезд(ы) и кругов(га)?

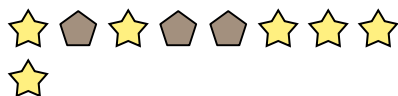


- 1. _____
- 2. _____
- 3. _____
- 4. _____
- 5. _____
- 6. _____
- 7. _____
- 8. _____
- 9. _____
- 10. _____
- 11. _____

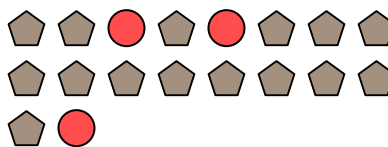


Решите каждую задачу.


об) Каково соотношение звезд(ы) и пятиугольников(ка)?




1) Каково соотношение кругов(га) и пятиугольников(ка)?



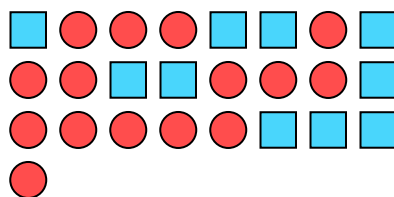
2) Каково соотношение кругов(га) и луны ?



3) Каково соотношение треугольников(ка) и луны ?



4) Каково соотношение кругов(га) и квадратов(та)?



5) Каково соотношение сердца и звезд(ы)?



6) Каково соотношение кругов(га) и треугольников(ка)?




7) Каково соотношение сердца и пятиугольников(ка)?




8) Каково соотношение пятиугольников(ка) и звезд(ы)?




9) Каково соотношение звезд(ы) и треугольников(ка)?



10) Каково соотношение квадратов(та) и луны ?



11) Каково соотношение звезд(ы) и кругов(га)?



Ответы

об. 6:3

1. 3:15

2. 4:5

3. 4:13

4. 15:10

5. 2:13

6. 3:4

7. 5:6

8. 5:4

9. 5:15

10. 8:15

11. 13:6




Решите каждую задачу.

Ответы


об) Каково соотношение луны и звезд(ы)?




1) Каково соотношение луны и треугольников(ка)?



2) Каково соотношение сердца и квадратов(та)?



3) Каково соотношение треугольников(ка) и сердца ?



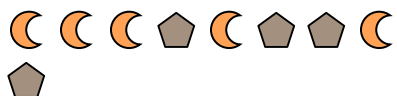
4) Каково соотношение звезд(ы) и сердца ?



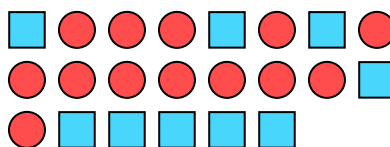
5) Каково соотношение звезд(ы) и треугольников(ка)?



6) Каково соотношение пятиугольников(ка) и луны ?



7) Каково соотношение кругов(га) и квадратов(та)?



8) Каково соотношение звезд(ы) и пятиугольников(ка)?



9) Каково соотношение треугольников(ка) и звезд(ы)?



10) Каково соотношение звезд(ы) и кругов(га)?



11) Каково соотношение звезд(ы) и сердца ?



об. **5:10**

1. _____

2. _____

3. _____

4. _____

5. _____

6. _____

7. _____

8. _____

9. _____

10. _____

11. _____

