

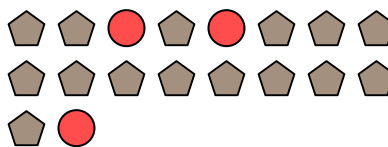


Решите каждую задачу.

об) Каково соотношение звезд(ы) и пятиугольников(ка)?




1) Каково соотношение кругов(га) и пятиугольников(ка)?



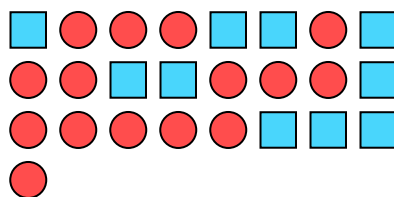
2) Каково соотношение кругов(га) и луны ?



3) Каково соотношение треугольников(ка) и луны ?



4) Каково соотношение кругов(га) и квадратов(та)?



5) Каково соотношение сердца и звезд(ы)?



6) Каково соотношение кругов(га) и треугольников(ка)?




7) Каково соотношение сердца и пятиугольников(ка)?




8) Каково соотношение пятиугольников(ка) и звезд(ы)?




9) Каково соотношение звезд(ы) и треугольников(ка)?



10) Каково соотношение квадратов(та) и луны ?



11) Каково соотношение звезд(ы) и кругов(га)?



Ответы

об. 6:3

1. _____

2. _____

3. _____

4. _____

5. _____

6. _____

7. _____

8. _____

9. _____

10. _____

11. _____

