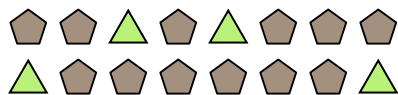


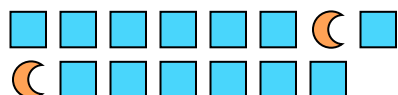


Решите каждую задачу.

об) Каково соотношение треугольников(ка) и пятиугольников(ка)?



2) Каково соотношение луны и квадратов(та)?




4) Каково соотношение звезд(ы) и пятиугольников(ка)?



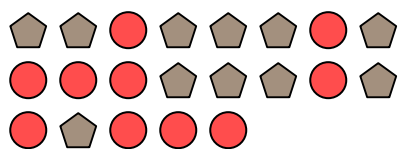
6) Каково соотношение звезд(ы) и кругов(га)?



8) Каково соотношение кругов(га) и луны ?



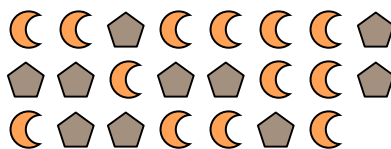
10) Каково соотношение пятиугольников(ка) и кругов(га)?




1) Каково соотношение звезд(ы) и луны ?




3) Каково соотношение пятиугольников(ка) и луны ?



5) Каково соотношение луны и квадратов(та)?




7) Каково соотношение кругов(га) и звезд(ы)?



9) Каково соотношение пятиугольников(ка) и звезд(ы)?



11) Каково соотношение квадратов(та) и сердца ?



Ответы

об. 4:12

1. _____

2. _____

3. _____

4. _____

5. _____

6. _____

7. _____

8. _____

9. _____

10. _____

11. _____

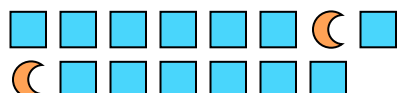


Решите каждую задачу.

об) Каково соотношение треугольников(ка) и пятиугольников(ка)?



2) Каково соотношение луны и квадратов(та)?




4) Каково соотношение звезд(ы) и пятиугольников(ка)?



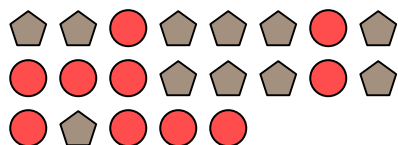
6) Каково соотношение звезд(ы) и кругов(га)?



8) Каково соотношение кругов(га) и луны ?




10) Каково соотношение пятиугольников(ка) и кругов(га)?



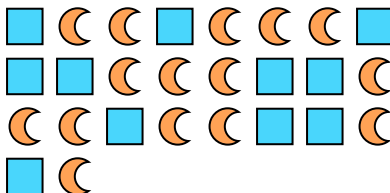
1) Каково соотношение звезд(ы) и луны ?




3) Каково соотношение пятиугольников(ка) и луны ?



5) Каково соотношение луны и квадратов(та)?




7) Каково соотношение кругов(га) и звезд(ы)?



9) Каково соотношение пятиугольников(ка) и звезд(ы)?



11) Каково соотношение квадратов(та) и сердца ?



ОТВЕТЫ

об. 4:12

1. 9:12

2. 2:13

3. 10:13

4. 12:5

5. 15:11

6. 7:9

7. 12:7

8. 8:15

9. 7:4

10. 11:10

11. 4:6