




Решите каждую задачу.


об) Каково соотношение звезд(ы) и пятиугольников(ка)?




2) Каково соотношение сердца и квадратов(та)?



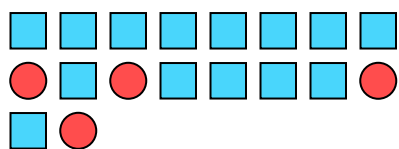
4) Каково соотношение звезд(ы) и кругов(га)?



6) Каково соотношение пятиугольников(ка) и сердца ?



8) Каково соотношение квадратов(та) и кругов(га)?



10) Каково соотношение луны и сердца ?



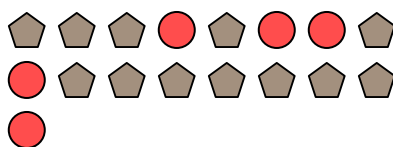
1) Каково соотношение пятиугольников(ка) и звезд(ы)?



3) Каково соотношение пятиугольников(ка) и звезд(ы)?



5) Каково соотношение кругов(га) и пятиугольников(ка)?



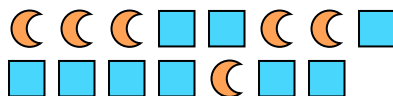
7) Каково соотношение треугольников(ка) и пятиугольников(ка)?



9) Каково соотношение звезд(ы) и пятиугольников(ка)?



11) Каково соотношение луны и квадратов(та)?



Ответы

об. 15:10

1. _____

2. _____

3. _____

4. _____

5. _____

6. _____

7. _____

8. _____

9. _____


10. _____

11. _____



Решите каждую задачу.


об) Каково соотношение звезд(ы) и пятиугольников(ка)?




2) Каково соотношение сердца и квадратов(та)?



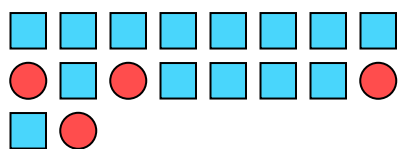
4) Каково соотношение звезд(ы) и кругов(га)?



6) Каково соотношение пятиугольников(ка) и сердца ?



8) Каково соотношение квадратов(та) и кругов(га)?



10) Каково соотношение луны и сердца ?



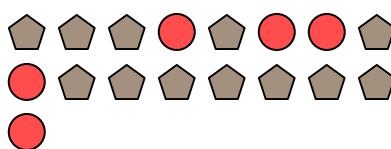
1) Каково соотношение пятиугольников(ка) и звезд(ы)?



3) Каково соотношение пятиугольников(ка) и звезд(ы)?



5) Каково соотношение кругов(га) и пятиугольников(ка)?



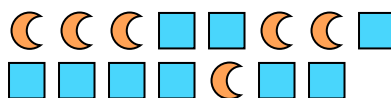
7) Каково соотношение треугольников(ка) и пятиугольников(ка)?



9) Каково соотношение звезд(ы) и пятиугольников(ка)?



11) Каково соотношение луны и квадратов(та)?



ОТВЕТЫ

об. 15:10

1. 8:12

2. 10:2

3. 11:5

4. 3:10

5. 5:12

6. 14:15

7. 8:6

8. 14:4

9. 7:5

10. 8:5

11. 6:9