

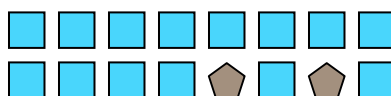


Решите каждую задачу.

об) Каково соотношение луны и квадратов(та)?




1) Каково соотношение квадратов(та) и пятиугольников(ка)?




2) Каково соотношение звезд(ы) и треугольников(ка)?



3) Каково соотношение звезд(ы) и треугольников(ка)?



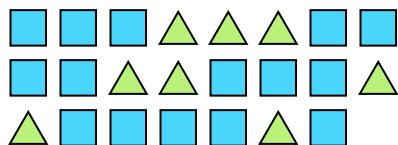
4) Каково соотношение луны и кругов(га)?




5) Каково соотношение квадратов(та) и пятиугольников(ка)?



6) Каково соотношение треугольников(ка) и квадратов(та)?



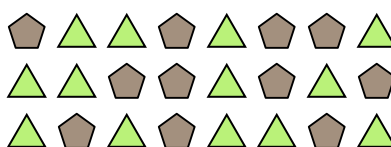
7) Каково соотношение звезд(ы) и кругов(га)?



8) Каково соотношение звезд(ы) и сердца ?



9) Каково соотношение треугольников(ка) и пятиугольников(ка)?



10) Каково соотношение кругов(га) и луны ?



11) Каково соотношение сердца и звезд(ы)?



Ответы

об. 6:2

1. _____

2. _____

3. _____

4. _____

5. _____

6. _____

7. _____

8. _____

9. _____

10. _____

11. _____

