



Решите каждую задачу.

об) Каково соотношение треугольников(ка) и звезд(ы)?



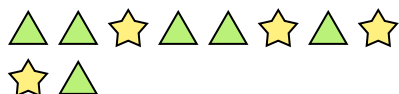
2) Каково соотношение пятиугольников(ка) и луны ?




4) Каково соотношение луны и сердца ?




6) Каково соотношение треугольников(ка) и звезд(ы)?



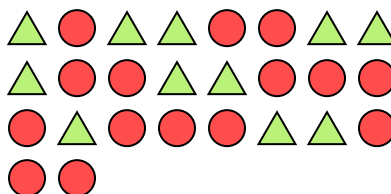
8) Каково соотношение сердца и кругов(га)?



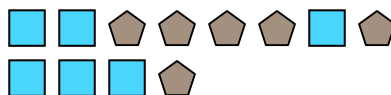
10) Каково соотношение квадратов(та) и луны ?



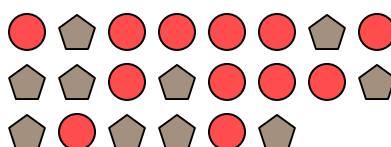
1) Каково соотношение кругов(га) и треугольников(ка)?




3) Каково соотношение квадратов(та) и пятиугольников(ка)?




5) Каково соотношение кругов(га) и пятиугольников(ка)?



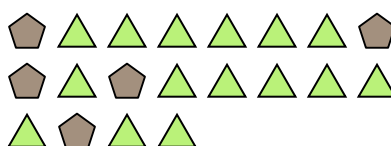
7) Каково соотношение сердца и кругов(га)?



9) Каково соотношение сердца и кругов(га)?



11) Каково соотношение треугольников(ка) и пятиугольников(ка)?



Ответы

об. 3:9

1. \_\_\_\_\_

2. \_\_\_\_\_

3. \_\_\_\_\_

4. \_\_\_\_\_

5. \_\_\_\_\_

6. \_\_\_\_\_

7. \_\_\_\_\_

8. \_\_\_\_\_

9. \_\_\_\_\_

10. \_\_\_\_\_

11. \_\_\_\_\_



Решите каждую задачу.

об) Каково соотношение треугольников(ка) и звезд(ы)?



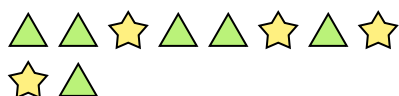
2) Каково соотношение пятиугольников(ка) и луны ?




4) Каково соотношение луны и сердца ?




6) Каково соотношение треугольников(ка) и звезд(ы)?



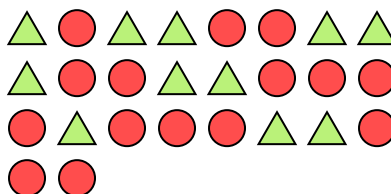
8) Каково соотношение сердца и кругов(га)?



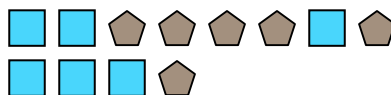
10) Каково соотношение квадратов(та) и луны ?



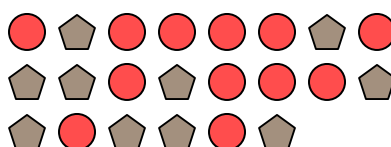
1) Каково соотношение кругов(га) и треугольников(ка)?




3) Каково соотношение квадратов(та) и пятиугольников(ка)?




5) Каково соотношение кругов(га) и пятиугольников(ка)?



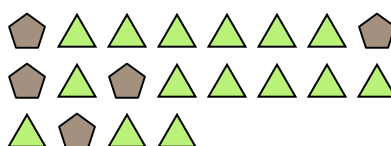
7) Каково соотношение сердца и кругов(га)?



9) Каково соотношение сердца и кругов(га)?



11) Каково соотношение треугольников(ка) и пятиугольников(ка)?



**Ответы**

об. 3:9

1. 15:11

2. 4:11

3. 6:6

4. 8:14

5. 12:10

6. 6:4

7. 8:11

8. 15:8

9. 5:9

10. 6:13

11. 15:5