



Решите каждую задачу.

**Ответы**

об) Каково соотношение луны и сердца ?

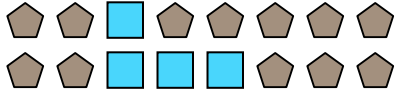


1) Каково соотношение звезд(ы) и сердца ?




об. **15:7**

2) Каково соотношение квадратов(та) и пятиугольников(ка)?



3) Каково соотношение сердца и квадратов(та)?



1. \_\_\_\_\_


2. \_\_\_\_\_

3. \_\_\_\_\_


4. \_\_\_\_\_

5. \_\_\_\_\_

4) Каково соотношение звезд(ы) и кругов(га)?



5) Каково соотношение сердца и луны ?



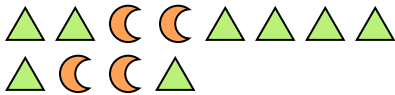
6. \_\_\_\_\_

7. \_\_\_\_\_

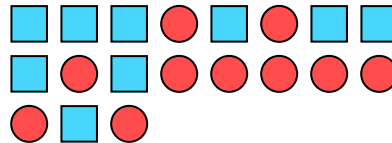
8. \_\_\_\_\_

9. \_\_\_\_\_

6) Каково соотношение луны и треугольников(ка)?



7) Каково соотношение квадратов(та) и кругов(га)?



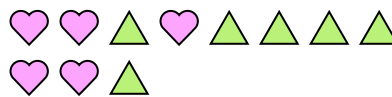
10. \_\_\_\_\_

11. \_\_\_\_\_

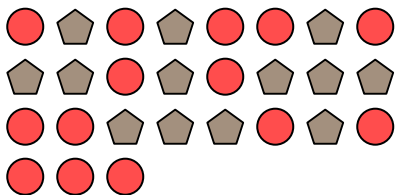
8) Каково соотношение звезд(ы) и сердца ?




9) Каково соотношение треугольников(ка) и сердца ?



10) Каково соотношение кругов(га) и пятиугольников(ка)?



11) Каково соотношение звезд(ы) и квадратов(та)?





Решите каждую задачу.

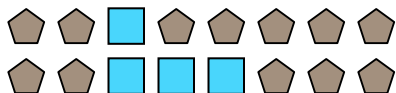
об) Каково соотношение луны и сердца ?




1) Каково соотношение звезд(ы) и сердца ?




2) Каково соотношение квадратов(та) и пятиугольников(ка)?




3) Каково соотношение сердца и квадратов(та)?



4) Каково соотношение звезд(ы) и кругов(га)?



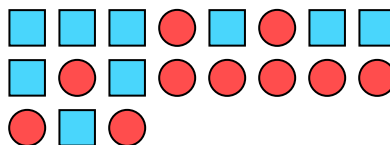
5) Каково соотношение сердца и луны ?



6) Каково соотношение луны и треугольников(ка)?



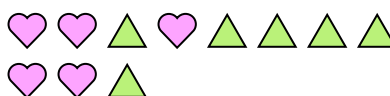
7) Каково соотношение квадратов(та) и кругов(га)?



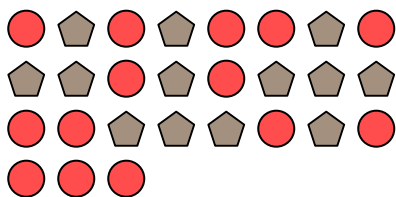
8) Каково соотношение звезд(ы) и сердца ?




9) Каково соотношение треугольников(ка) и сердца ?



10) Каково соотношение кругов(га) и пятиугольников(ка)?



11) Каково соотношение звезд(ы) и квадратов(та)?



**ОТВЕТЫ**

об. 15:7

1. 3:10

2. 4:12

3. 6:3

4. 2:15

5. 9:10

6. 4:8

7. 9:10

8. 2:8

9. 6:5

10. 14:13

11. 7:10