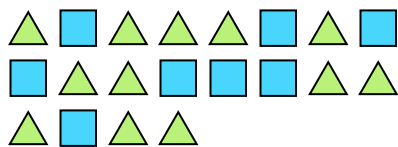





Решите каждую задачу.

об) Каково соотношение треугольников(ка) и квадратов(та)?



1) Каково соотношение звезд(ы) и квадратов(та)?



Ответы

12:8


2) Каково соотношение луны и звезд(ы)?



3) Каково соотношение луны и звезд(ы)?



4) Каково соотношение звезд(ы) и сердца ?



5) Каково соотношение треугольников(ка) и сердца ?



6) Каково соотношение сердца и луны ?



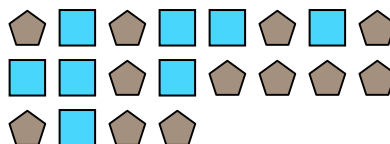
7) Каково соотношение сердца и звезд(ы)?



8) Каково соотношение сердца и кругов(га)?




9) Каково соотношение квадратов(та) и пятиугольников(ка)?



10) Каково соотношение сердца и пятиугольников(ка)?



11) Каково соотношение квадратов(та) и звезд(ы)?

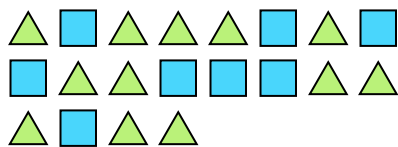


- об. 12:8
1.
2.
3.
4.
5.
6.
7.
8.
9.
10.
11.




Решите каждую задачу.

об) Каково соотношение треугольников(ка) и квадратов(та)?



1) Каково соотношение звезд(ы) и квадратов(та)?




2) Каково соотношение луны и звезд(ы)?



3) Каково соотношение луны и звезд(ы)?



4) Каково соотношение звезд(ы) и сердца ?



5) Каково соотношение треугольников(ка) и сердца ?



6) Каково соотношение сердца и луны ?



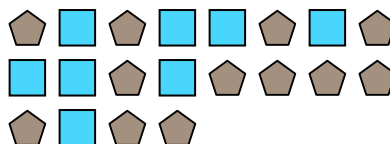
7) Каково соотношение сердца и звезд(ы)?



8) Каково соотношение сердца и кругов(га)?




9) Каково соотношение квадратов(та) и пятиугольников(ка)?



10) Каково соотношение сердца и пятиугольников(ка)?



11) Каково соотношение квадратов(та) и звезд(ы)?



ОТВЕТЫ

об. 12:8

1. 3:9

2. 11:2

3. 10:4

4. 8:11

5. 8:6

6. 2:10

7. 9:13

8. 9:7

9. 8:12

10. 4:2

11. 13:14