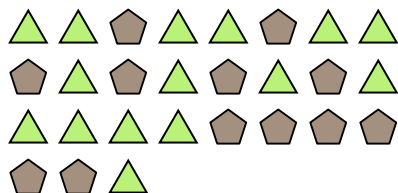




Решите каждую задачу.

об) Каково соотношение пятиугольников(ка) и треугольников(ка)?



2) Каково соотношение звезд(ы) и квадратов(та)?



4) Каково соотношение сердца и луны ?



6) Каково соотношение луны и звезд(ы)?




8) Каково соотношение пятиугольников(ка) и звезд(ы)?




10) Каково соотношение звезд(ы) и луны ?



1) Каково соотношение кругов(га) и луны ?




3) Каково соотношение луны и пятиугольников(ка)?




5) Каково соотношение звезд(ы) и треугольников(ка)?



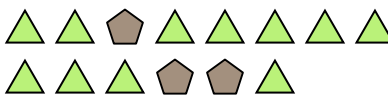
7) Каково соотношение пятиугольников(ка) и сердца ?



9) Каково соотношение кругов(га) и луны ?



11) Каково соотношение треугольников(ка) и пятиугольников(ка)?



ОТВЕТЫ

об. 12:15

1. 11:11

2. 7:9

3. 3:15

4. 9:2

5. 4:11

6. 12:8

7. 8:10

8. 11:2

9. 15:11

10. 4:5

11. 11:3