


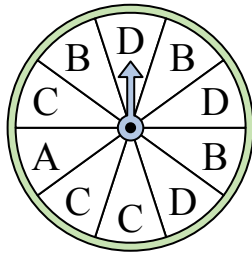


Решите каждую задачу.


- 1) На какое число с наибольшей вероятностью попадет спиннер?



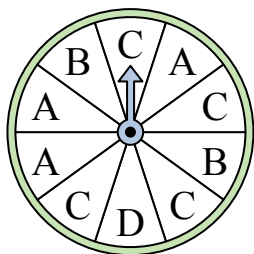
- 2) На какую букву тот с наименьшей вероятностью попадет?




- 3) На какое число прядильщик с наименьшей вероятностью попадет?



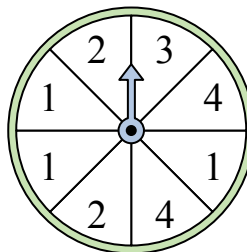
- 4) На какую букву тот с наименьшей вероятностью попадет?



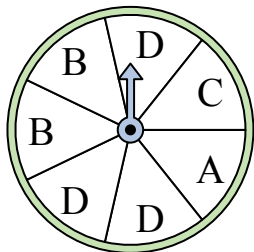
- 5) На какое число прядильщик с наименьшей вероятностью попадет?



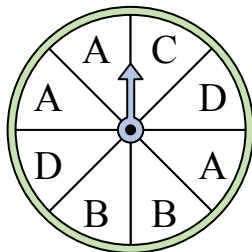
- 6) На какое число с наибольшей вероятностью попадет спиннер?




- 7) На какие две буквы с одинаковой вероятностью попадет спиннер?



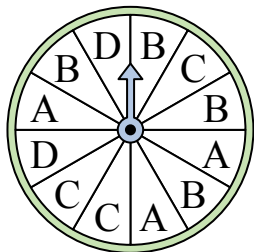
- 8) На какие две буквы с одинаковой вероятностью попадет спиннер?




- 9) На какое число с наибольшей вероятностью попадет спиннер?



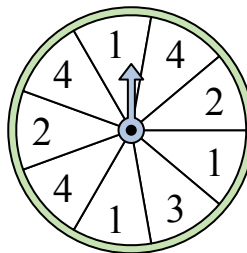
- 10) На какую букву тот с наименьшей вероятностью попадет?



- 11) На какое число с наибольшей вероятностью попадет спиннер?



- 12) На какие два числа с одинаковой вероятностью попадет спиннер?




**Ответы**

1. \_\_\_\_\_
2. \_\_\_\_\_
3. \_\_\_\_\_
4. \_\_\_\_\_
5. \_\_\_\_\_
6. \_\_\_\_\_
7. \_\_\_\_\_
8. \_\_\_\_\_
9. \_\_\_\_\_
10. \_\_\_\_\_
11. \_\_\_\_\_
12. \_\_\_\_\_

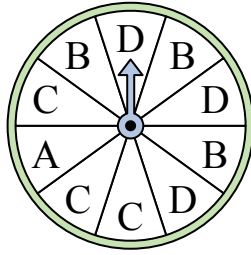


Решите каждую задачу.

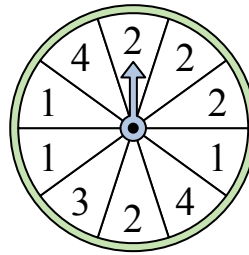
- 1) На какое число с наибольшей вероятностью попадет спиннер?



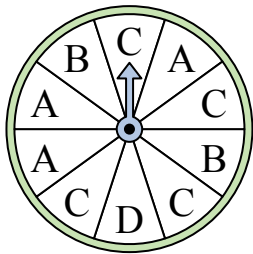
- 2) На какую букву тот с наименьшей вероятностью попадет?




- 3) На какое число прядильщик с наименьшей вероятностью попадет?



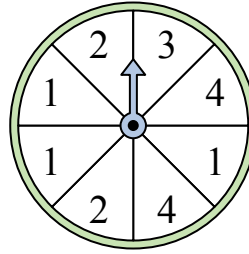
- 4) На какую букву тот с наименьшей вероятностью попадет?



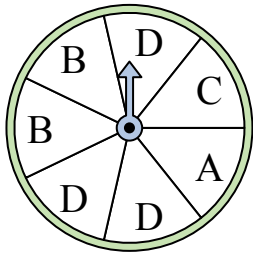
- 5) На какое число прядильщик с наименьшей вероятностью попадет?



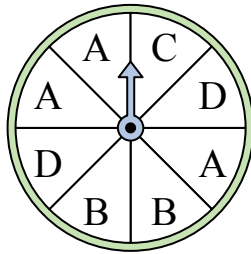
- 6) На какое число с наибольшей вероятностью попадет спиннер?



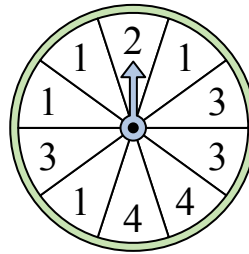
- 7) На какие две буквы с одинаковой вероятностью попадет спиннер?



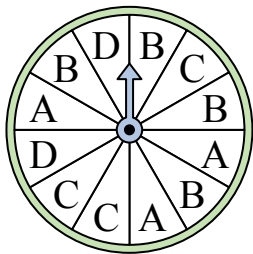
- 8) На какие две буквы с одинаковой вероятностью попадет спиннер?




- 9) На какое число с наибольшей вероятностью попадет спиннер?




- 10) На какую букву тот с наименьшей вероятностью попадет?



- 11) На какое число с наибольшей вероятностью попадет спиннер?



- 12) На какие два числа с одинаковой вероятностью попадет спиннер?



**ОТВЕТЫ**

1. 3
2. A
3. 3
4. D
5. 2
6. 1
7. A & C
8. B & D
9. 1
10. D
11. 1
12. 1 & 4