





Решите каждую задачу.

Ответы

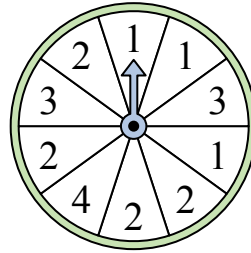
- 1) На какое число прядильщик с наименьшей вероятностью попадет?



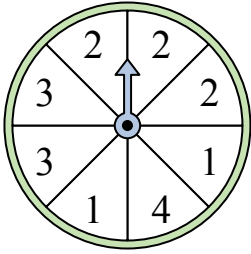
- 2) На какое число с наибольшей вероятностью попадет спиннер?



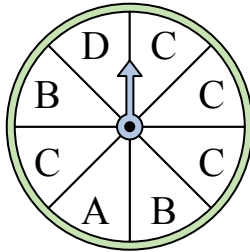
- 3) На какое число прядильщик с наименьшей вероятностью попадет?



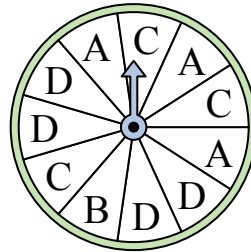
- 4) На какие два числа с одинаковой вероятностью попадет спиннер?



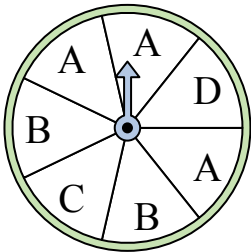
- 5) На какую букву чаще всего попадет спиннер?




- 6) На какую букву тот с наименьшей вероятностью попадет?



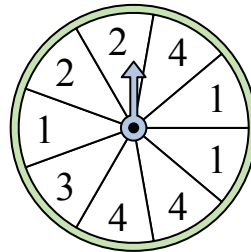
- 7) На какие две буквы с одинаковой вероятностью попадет спиннер?



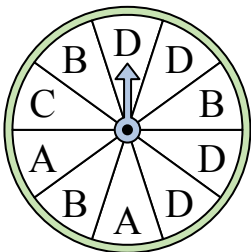
- 8) На какое число с наибольшей вероятностью попадет спиннер?



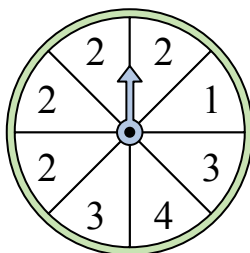
- 9) На какие два числа с одинаковой вероятностью попадет спиннер?



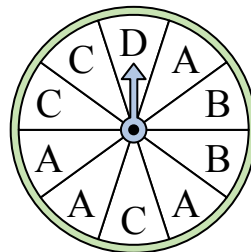
- 10) На какую букву тот с наименьшей вероятностью попадет?



- 11) На какое число с наибольшей вероятностью попадет спиннер?



- 12) На какую букву тот с наименьшей вероятностью попадет?



1. _____

2. _____

3. _____

4. _____

5. _____

6. _____

7. _____

8. _____

9. _____

10. _____


11. _____

12. _____




Решите каждую задачу.


- 1) На какое число прядильщик с наименьшей вероятностью попадет?



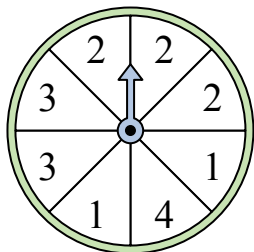
- 2) На какое число с наибольшей вероятностью попадет спиннер?



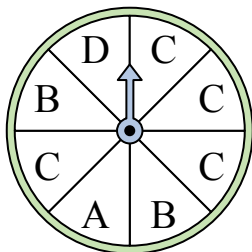
- 3) На какое число прядильщик с наименьшей вероятностью попадет?



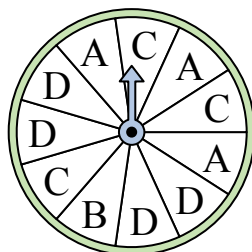
- 4) На какие два числа с одинаковой вероятностью попадет спиннер?



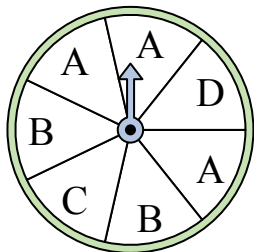
- 5) На какую букву чаще всего попадет спиннер?




- 6) На какую букву тот с наименьшей вероятностью попадет?




- 7) На какие две буквы с одинаковой вероятностью попадет спиннер?



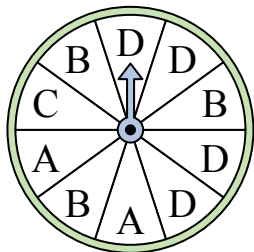
- 8) На какое число с наибольшей вероятностью попадет спиннер?



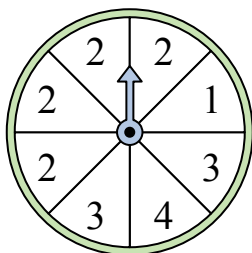
- 9) На какие два числа с одинаковой вероятностью попадет спиннер?



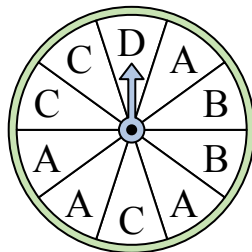
- 10) На какую букву тот с наименьшей вероятностью попадет?



- 11) На какое число с наибольшей вероятностью попадет спиннер?



- 12) На какую букву тот с наименьшей вероятностью попадет?




ОТВЕТЫ

1. 2
2. 2
3. 4
4. 1 & 3
5. C
6. B
7. C & D
8. 3
9. 1 & 4
10. C
11. 2
12. D




Решите каждую задачу.

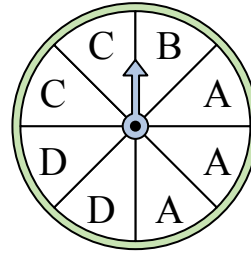
- 1) На какое число с наибольшей вероятностью попадет спиннер?



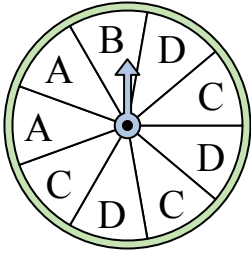
- 2) На какое число прядильщик с наименьшей вероятностью попадет?



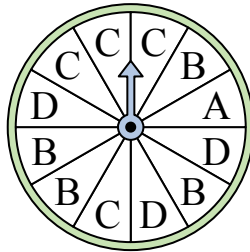
- 3) На какие две буквы с одинаковой вероятностью попадет спиннер?



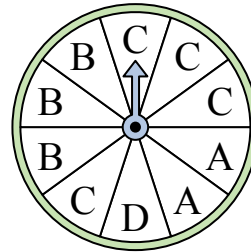
- 4) На какие две буквы с одинаковой вероятностью попадет спиннер?




- 5) На какую букву тот с наименьшей вероятностью попадет?



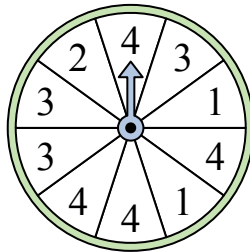
- 6) На какую букву тот с наименьшей вероятностью попадет?



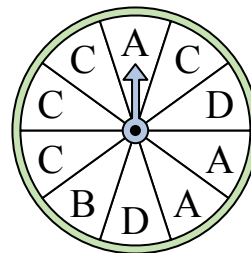
- 7) На какое число с наибольшей вероятностью попадет спиннер?



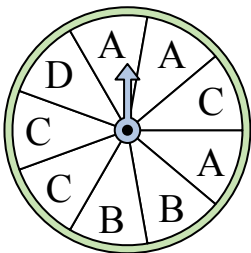
- 8) На какое число с наибольшей вероятностью попадет спиннер?




- 9) На какую букву тот с наименьшей вероятностью попадет?



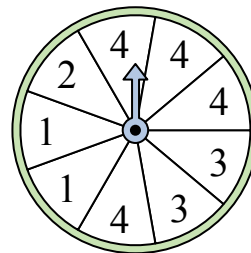
- 10) На какие две буквы с одинаковой вероятностью попадет спиннер?



- 11) На какое число прядильщик с наименьшей вероятностью попадет?



- 12) На какое число с наибольшей вероятностью попадет спиннер?




Ответы

1. _____
2. _____
3. _____
4. _____
5. _____
6. _____
7. _____
8. _____
9. _____
10. _____
11. _____
12. _____




Решите каждую задачу.

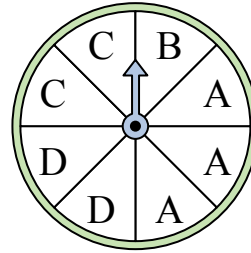
- 1) На какое число с наибольшей вероятностью попадет спиннер?



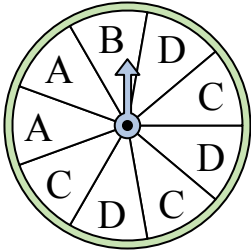
- 2) На какое число прядильщик с наименьшей вероятностью попадет?



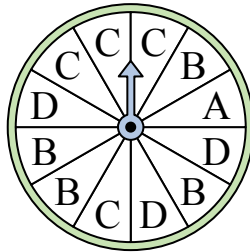
- 3) На какие две буквы с одинаковой вероятностью попадет спиннер?



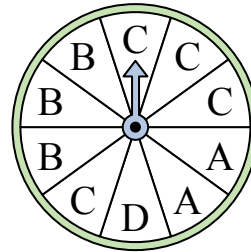
- 4) На какие две буквы с одинаковой вероятностью попадет спиннер?




- 5) На какую букву тот с наименьшей вероятностью попадет?



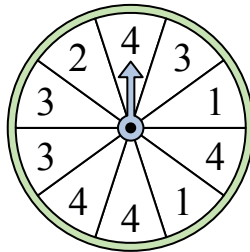
- 6) На какую букву тот с наименьшей вероятностью попадет?



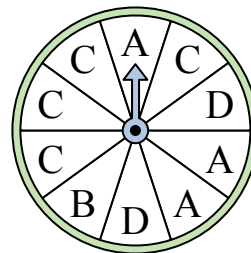
- 7) На какое число с наибольшей вероятностью попадет спиннер?



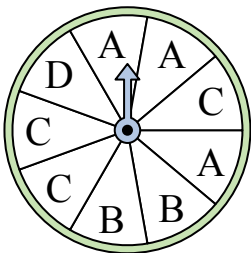
- 8) На какое число с наибольшей вероятностью попадет спиннер?




- 9) На какую букву тот с наименьшей вероятностью попадет?



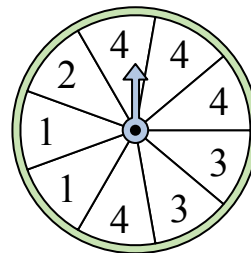
- 10) На какие две буквы с одинаковой вероятностью попадет спиннер?



- 11) На какое число прядильщик с наименьшей вероятностью попадет?



- 12) На какое число с наибольшей вероятностью попадет спиннер?



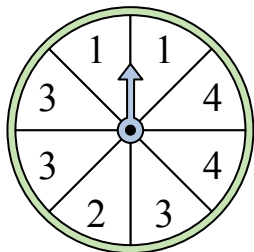
Ответы

1. 2
2. 1
3. C & D
4. C & D
5. A
6. D
7. 4
8. 4
9. B
10. A & C
11. 2
12. 4

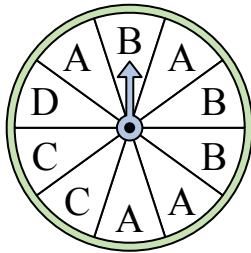


Решите каждую задачу.

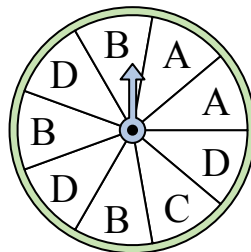
- 1) На какие два числа с одинаковой вероятностью попадет спиннер?



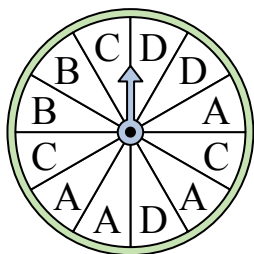
- 2) На какую букву тот с наименьшей вероятностью попадет?




- 3) На какие две буквы с одинаковой вероятностью попадет спиннер?



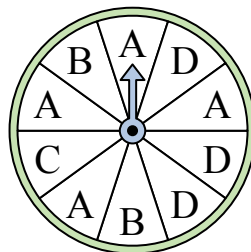
- 4) На какую букву тот с наименьшей вероятностью попадет?




- 5) На какое число прядильщик с наименьшей вероятностью попадет?



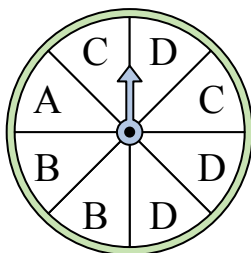
- 6) На какую букву чаще всего попадет спиннер?



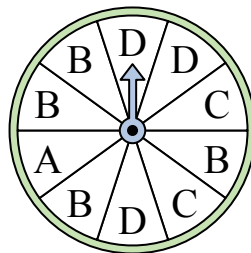
- 7) На какое число прядильщик с наименьшей вероятностью попадет?



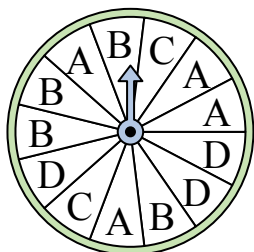
- 8) На какую букву чаще всего попадет спиннер?




- 9) На какую букву тот с наименьшей вероятностью попадет?



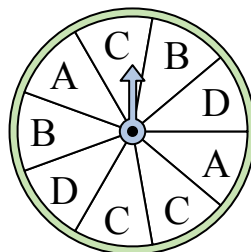
- 10) На какую букву тот с наименьшей вероятностью попадет?



- 11) На какие два числа с одинаковой вероятностью попадет спиннер?



- 12) На какую букву чаще всего попадет спиннер?



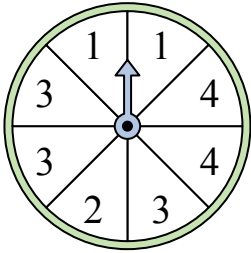
Отвeты

1. _____
2. _____
3. _____
4. _____
5. _____
6. _____
7. _____
8. _____
9. _____
10. _____
11. _____
12. _____

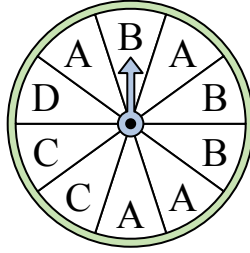


Решите каждую задачу.

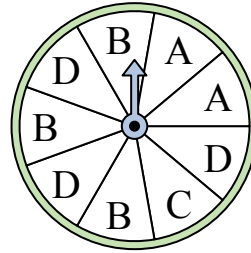
- 1) На какие два числа с одинаковой вероятностью попадет спиннер?



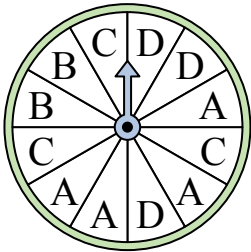
- 2) На какую букву тот с наименьшей вероятностью попадет?




- 3) На какие две буквы с одинаковой вероятностью попадет спиннер?



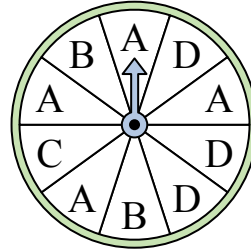
- 4) На какую букву тот с наименьшей вероятностью попадет?




- 5) На какое число прядильщик с наименьшей вероятностью попадет?



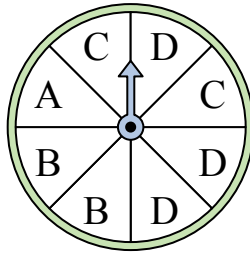
- 6) На какую букву чаще всего попадет спиннер?



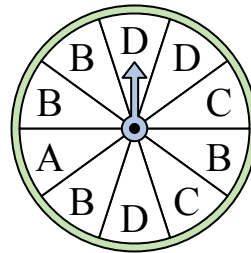
- 7) На какое число прядильщик с наименьшей вероятностью попадет?



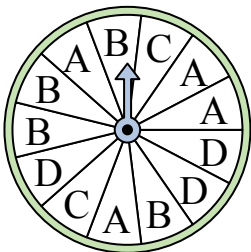
- 8) На какую букву чаще всего попадет спиннер?




- 9) На какую букву тот с наименьшей вероятностью попадет?



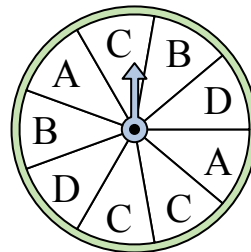
- 10) На какую букву тот с наименьшей вероятностью попадет?



- 11) На какие два числа с одинаковой вероятностью попадет спиннер?



- 12) На какую букву чаще всего попадет спиннер?



Ответы

1. **1 & 4**

2. **D**

3. **B & D**

4. **B**

5. **4**

6. **A**

7. **1**

8. **D**

9. **A**

10. **C**


11. **2 & 3**

12. **C**

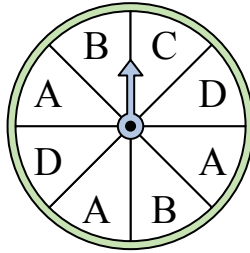


Решите каждую задачу.

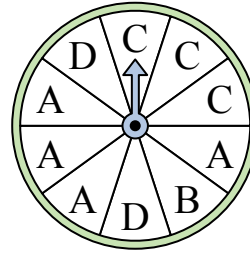
- 1) На какое число прядильщик с наименьшей вероятностью попадет?



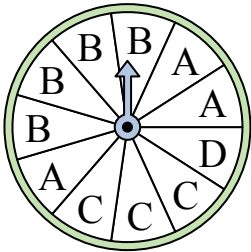
- 2) На какие две буквы с одинаковой вероятностью попадет спиннер?



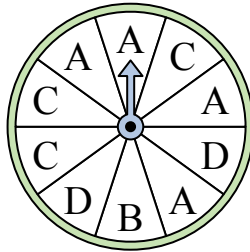
- 3) На какую букву тот с наименьшей вероятностью попадет?



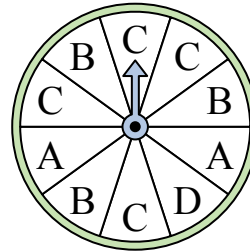
- 4) На какую букву тот с наименьшей вероятностью попадет?



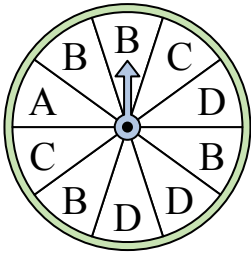
- 5) На какую букву чаще всего попадет спиннер?



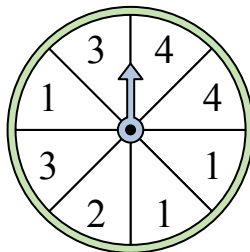
- 6) На какую букву чаще всего попадет спиннер?



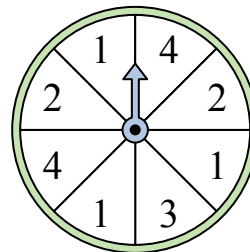
- 7) На какую букву чаще всего попадет спиннер?



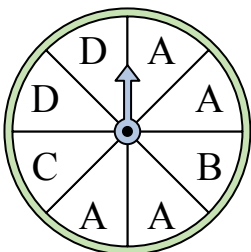
- 8) На какое число с наибольшей вероятностью попадет спиннер?



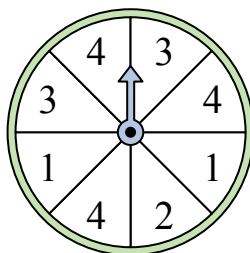
- 9) На какие два числа с одинаковой вероятностью попадет спиннер?



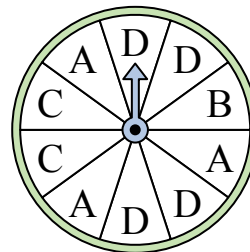
- 10) На какую букву чаще всего попадет спиннер?



- 11) На какие два числа с одинаковой вероятностью попадет спиннер?



- 12) На какую букву тот с наименьшей вероятностью попадет?




Ответы

1. _____
2. _____
3. _____
4. _____
5. _____
6. _____
7. _____
8. _____
9. _____
10. _____
11. _____
12. _____

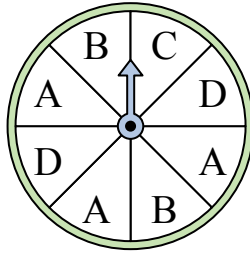


Решите каждую задачу.

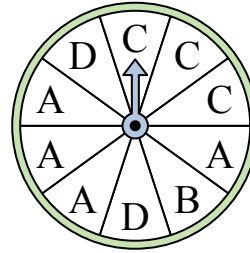
- 1) На какое число прядильщик с наименьшей вероятностью попадет?



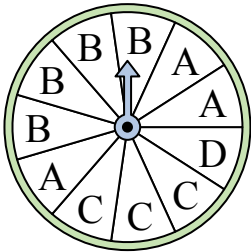
- 2) На какие две буквы с одинаковой вероятностью попадет спиннер?



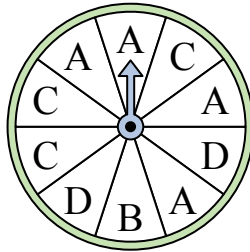
- 3) На какую букву тот с наименьшей вероятностью попадет?



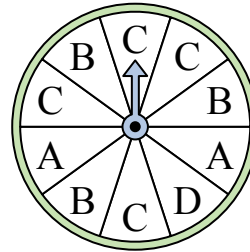
- 4) На какую букву тот с наименьшей вероятностью попадет?



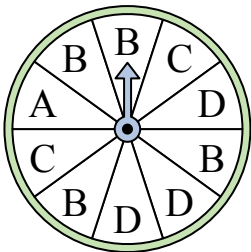
- 5) На какую букву чаще всего попадет спиннер?



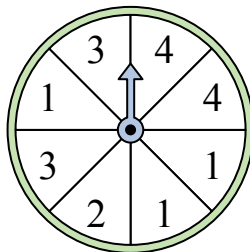
- 6) На какую букву чаще всего попадет спиннер?



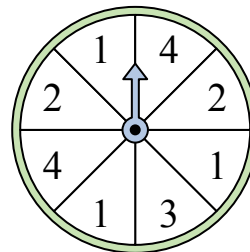
- 7) На какую букву чаще всего попадет спиннер?



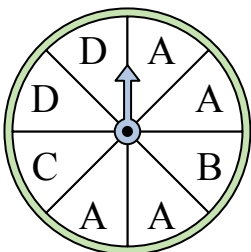
- 8) На какое число с наибольшей вероятностью попадет спиннер?



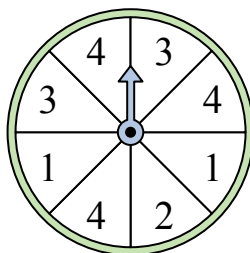
- 9) На какие два числа с одинаковой вероятностью попадет спиннер?



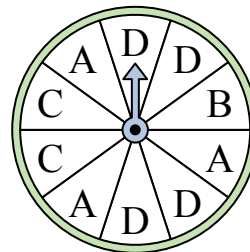
- 10) На какую букву чаще всего попадет спиннер?



- 11) На какие два числа с одинаковой вероятностью попадет спиннер?



- 12) На какую букву тот с наименьшей вероятностью попадет?



Ответы


1. 4
2. B & D
3. B
4. D
5. A
6. C
7. B
8. 1
9. 2 & 4
10. A
11. 1 & 3
12. B



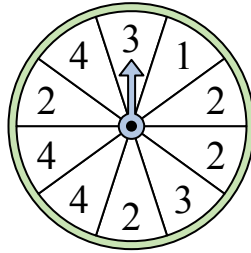
Решите каждую задачу.

Ответы

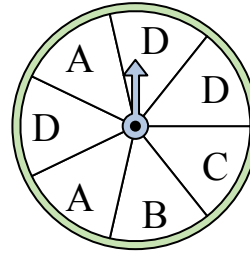
- 1) На какое число прядильщик с наименьшей вероятностью попадет?



- 2) На какое число прядильщик с наименьшей вероятностью попадет?



- 3) На какие две буквы с одинаковой вероятностью попадет спиннер?



1. _____

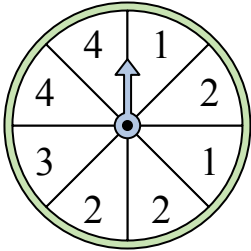
2. _____

3. _____

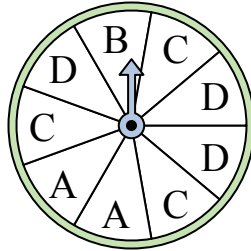
4. _____

5. _____

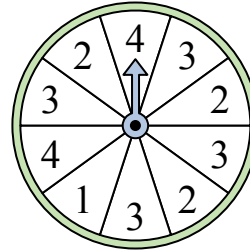
- 4) На какое число с наибольшей вероятностью попадет спиннер?



- 5) На какие две буквы с одинаковой вероятностью попадет спиннер?



- 6) На какое число прядильщик с наименьшей вероятностью попадет?



6. _____


7. _____

8. _____


9. _____

10. _____

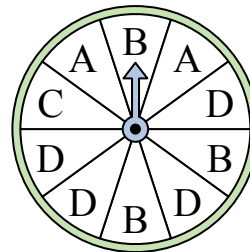
- 7) На какие два числа с одинаковой вероятностью попадет спиннер?



- 8) На какое число прядильщик с наименьшей вероятностью попадет?



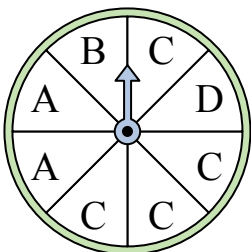
- 9) На какую букву чаще всего попадет спиннер?



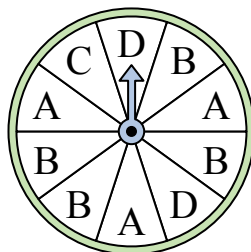
11. _____

12. _____

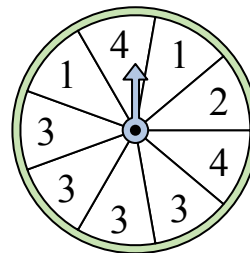
- 10) На какую букву чаще всего попадет спиннер?



- 11) На какую букву чаще всего попадет спиннер?




- 12) На какое число с наибольшей вероятностью попадет спиннер?






Решите каждую задачу.

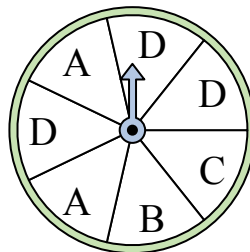
- 1) На какое число прядильщик с наименьшей вероятностью попадет?



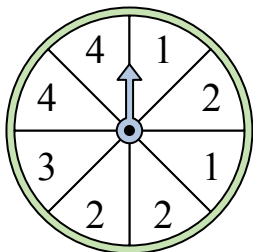
- 2) На какое число прядильщик с наименьшей вероятностью попадет?



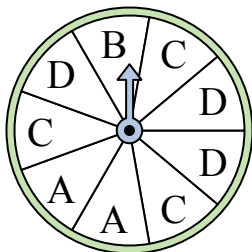
- 3) На какие две буквы с одинаковой вероятностью попадет спиннер?



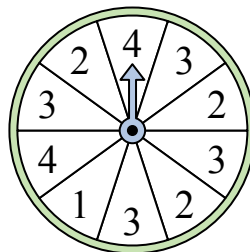
- 4) На какое число с наибольшей вероятностью попадет спиннер?




- 5) На какие две буквы с одинаковой вероятностью попадет спиннер?




- 6) На какое число прядильщик с наименьшей вероятностью попадет?



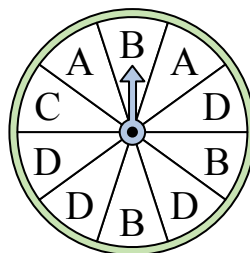
- 7) На какие два числа с одинаковой вероятностью попадет спиннер?



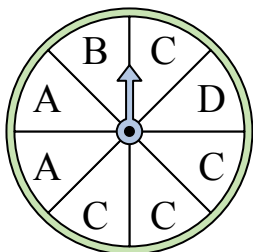
- 8) На какое число прядильщик с наименьшей вероятностью попадет?



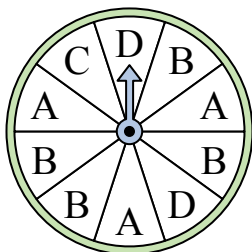
- 9) На какую букву чаще всего попадет спиннер?



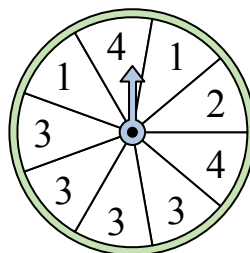
- 10) На какую букву чаще всего попадет спиннер?



- 11) На какую букву чаще всего попадет спиннер?



- 12) На какое число с наибольшей вероятностью попадет спиннер?



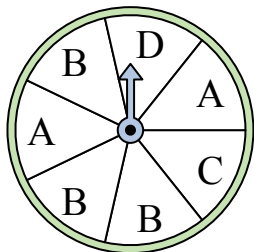
ОТВЕТЫ

1. 1
2. 1
3. B & C
4. 2
5. C & D
6. 1
7. 1 & 2
8. 4
9. D
10. C
11. B
12. 3

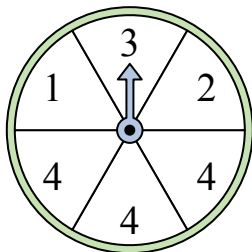


Решите каждую задачу.

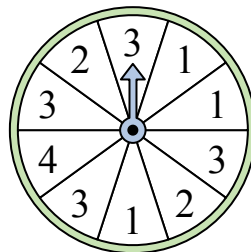
- 1) На какие две буквы с одинаковой вероятностью попадет спиннер?




- 2) На какое число с наибольшей вероятностью попадет спиннер?



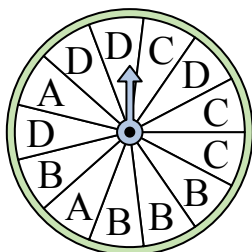
- 3) На какое число прядильщик с наименьшей вероятностью попадет?



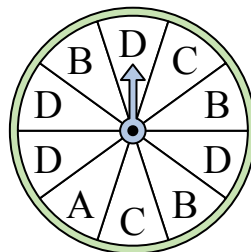
- 4) На какое число прядильщик с наименьшей вероятностью попадет?



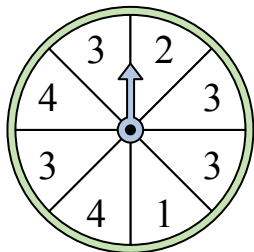
- 5) На какую букву тот с наименьшей вероятностью попадет?



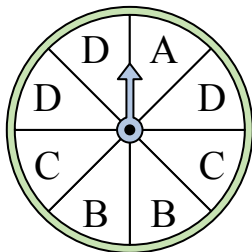
- 6) На какую букву чаще всего попадет спиннер?



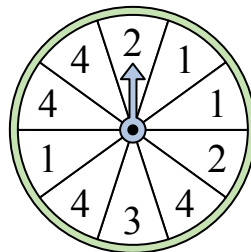
- 7) На какое число с наибольшей вероятностью попадет спиннер?




- 8) На какие две буквы с одинаковой вероятностью попадет спиннер?




- 9) На какое число с наибольшей вероятностью попадет спиннер?



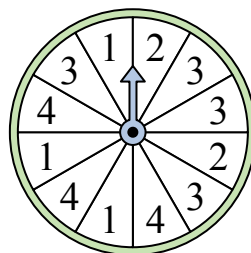
- 10) На какое число прядильщик с наименьшей вероятностью попадет?



- 11) На какое число с наибольшей вероятностью попадет спиннер?



- 12) На какое число прядильщик с наименьшей вероятностью попадет?



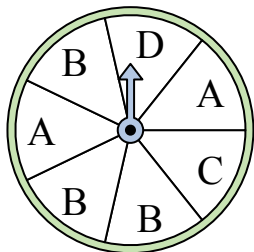
Ответы

1. _____
2. _____
3. _____
4. _____
5. _____
6. _____
7. _____
8. _____
9. _____
10. _____
11. _____
12. _____

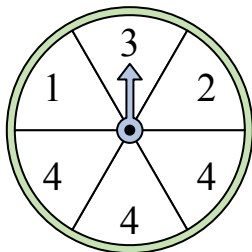


Решите каждую задачу.

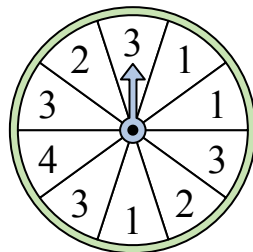
- 1) На какие две буквы с одинаковой вероятностью попадет спиннер?




- 2) На какое число с наибольшей вероятностью попадет спиннер?



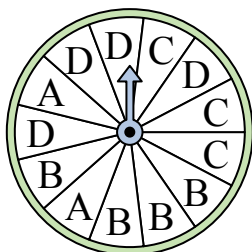
- 3) На какое число прядильщик с наименьшей вероятностью попадет?



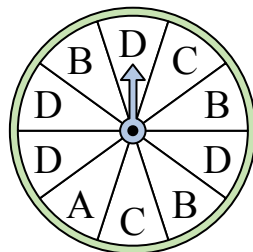
- 4) На какое число прядильщик с наименьшей вероятностью попадет?



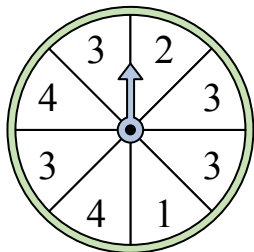
- 5) На какую букву тот с наименьшей вероятностью попадет?



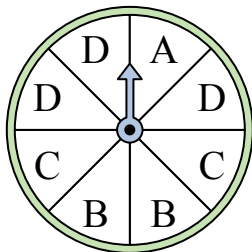
- 6) На какую букву чаще всего попадет спиннер?



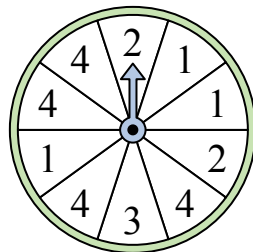
- 7) На какое число с наибольшей вероятностью попадет спиннер?




- 8) На какие две буквы с одинаковой вероятностью попадет спиннер?




- 9) На какое число с наибольшей вероятностью попадет спиннер?




- 10) На какое число прядильщик с наименьшей вероятностью попадет?



- 11) На какое число с наибольшей вероятностью попадет спиннер?



- 12) На какое число прядильщик с наименьшей вероятностью попадет?



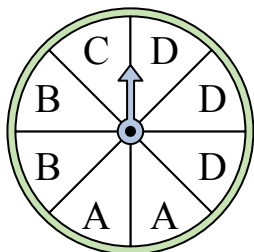
ОТВЕТЫ

1. **C & D**
2. **4**
3. **4**
4. **2**
5. **A**
6. **D**
7. **3**
8. **B & C**
9. **4**
10. **4**
11. **4**
12. **2**

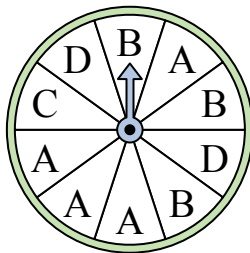


Решите каждую задачу.


- 1) На какую букву чаще всего попадет спиннер?




- 2) На какую букву тот с наименьшей вероятностью попадет?




- 3) На какое число прядильщик с наименьшей вероятностью попадет?



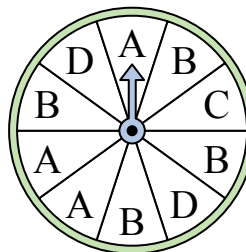
- 4) На какое число прядильщик с наименьшей вероятностью попадет?



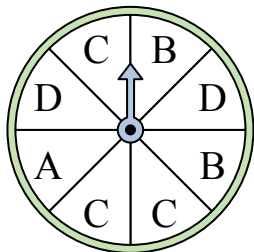
- 5) На какое число с наибольшей вероятностью попадет спиннер?



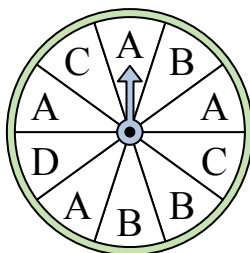
- 6) На какую букву чаще всего попадет спиннер?




- 7) На какие две буквы с одинаковой вероятностью попадет спиннер?



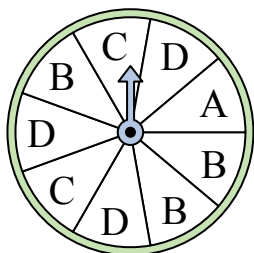
- 8) На какую букву чаще всего попадет спиннер?



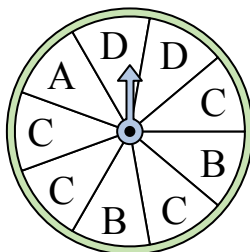
- 9) На какие два числа с одинаковой вероятностью попадет спиннер?




- 10) На какие две буквы с одинаковой вероятностью попадет спиннер?



- 11) На какую букву чаще всего попадет спиннер?



- 12) На какое число прядильщик с наименьшей вероятностью попадет?



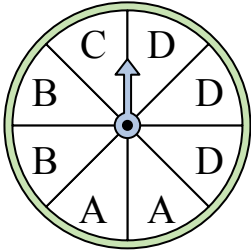
Отвeты

1. _____
2. _____
3. _____
4. _____
5. _____
6. _____
7. _____
8. _____
9. _____
10. _____
11. _____
12. _____

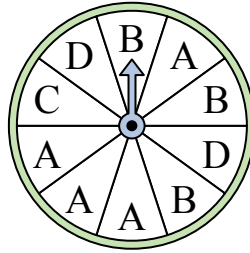


Решите каждую задачу.


- 1) На какую букву чаще всего попадет спиннер?




- 2) На какую букву тот с наименьшей вероятностью попадет?




- 3) На какое число прядильщик с наименьшей вероятностью попадет?



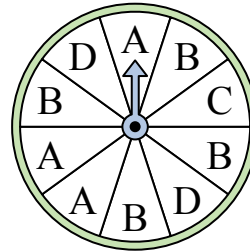
- 4) На какое число прядильщик с наименьшей вероятностью попадет?



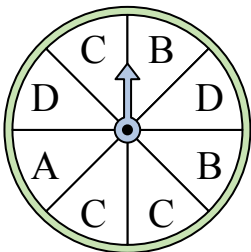
- 5) На какое число с наибольшей вероятностью попадет спиннер?



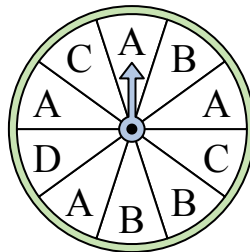
- 6) На какую букву чаще всего попадет спиннер?




- 7) На какие две буквы с одинаковой вероятностью попадет спиннер?



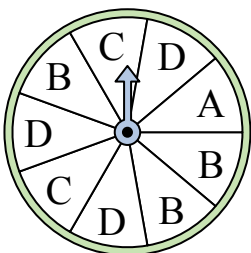
- 8) На какую букву чаще всего попадет спиннер?



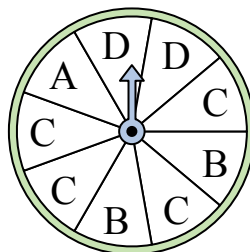
- 9) На какие два числа с одинаковой вероятностью попадет спиннер?




- 10) На какие две буквы с одинаковой вероятностью попадет спиннер?



- 11) На какую букву чаще всего попадет спиннер?



- 12) На какое число прядильщик с наименьшей вероятностью попадет?



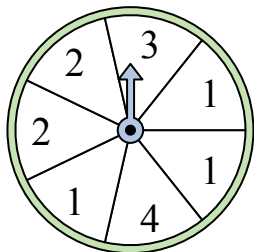
ОТВЕТЫ

1. **D**
2. **C**
3. **2**
4. **3**
5. **1**
6. **B**
7. **B & D**
8. **A**
9. **2 & 3**
10. **B & D**
11. **C**
12. **1**

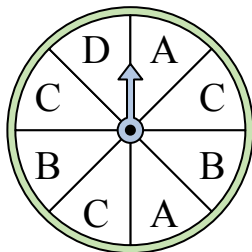


Решите каждую задачу.

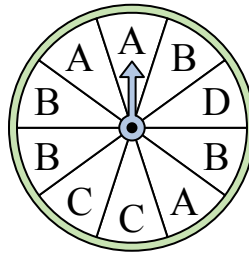
- 1) На какое число с наибольшей вероятностью попадет спиннер?



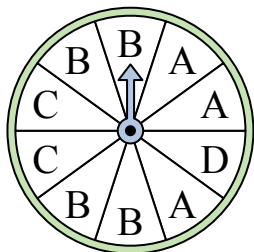
- 2) На какие две буквы с одинаковой вероятностью попадет спиннер?




- 3) На какую букву тот с наименьшей вероятностью попадет?



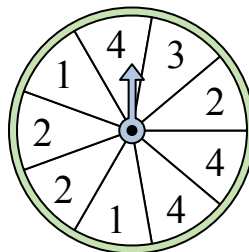
- 4) На какую букву чаще всего попадет спиннер?



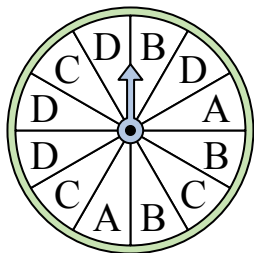
- 5) На какое число с наибольшей вероятностью попадет спиннер?



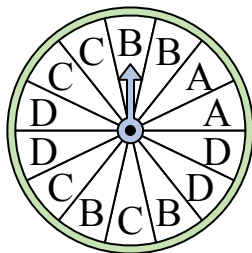
- 6) На какие два числа с одинаковой вероятностью попадет спиннер?



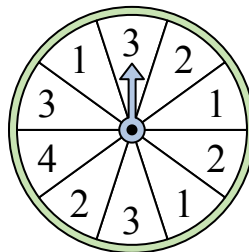
- 7) На какую букву тот с наименьшей вероятностью попадет?




- 8) На какую букву тот с наименьшей вероятностью попадет?



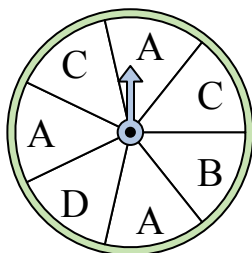
- 9) На какое число прядильщик с наименьшей вероятностью попадет?



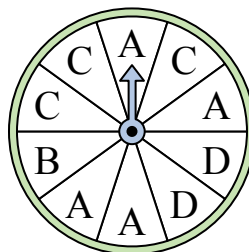
- 10) На какое число прядильщик с наименьшей вероятностью попадет?



- 11) На какие две буквы с одинаковой вероятностью попадет спиннер?



- 12) На какую букву чаще всего попадет спиннер?



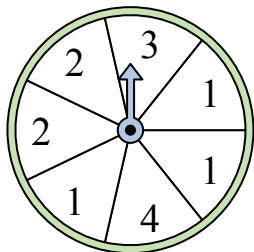
Ответы

1. _____
2. _____
3. _____
4. _____
5. _____
6. _____
7. _____
8. _____
9. _____
10. _____
11. _____
12. _____

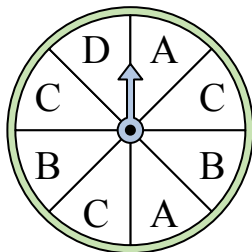


Решите каждую задачу.

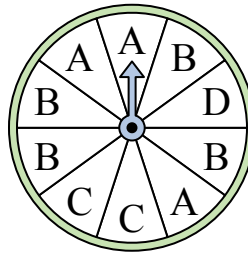
- 1) На какое число с наибольшей вероятностью попадет спиннер?



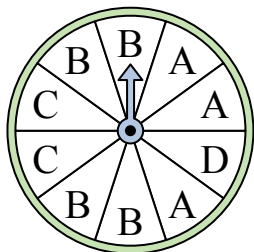
- 2) На какие две буквы с одинаковой вероятностью попадет спиннер?




- 3) На какую букву тот с наименьшей вероятностью попадет?



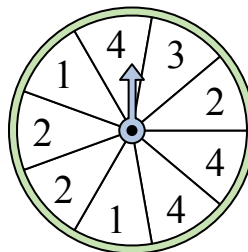
- 4) На какую букву чаще всего попадет спиннер?



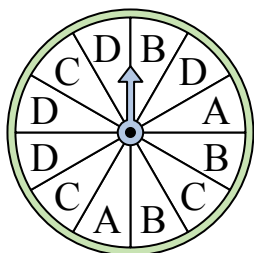
- 5) На какое число с наибольшей вероятностью попадет спиннер?



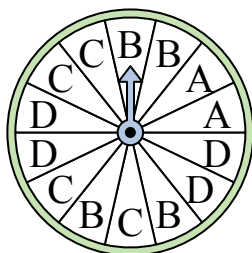
- 6) На какие два числа с одинаковой вероятностью попадет спиннер?




- 7) На какую букву тот с наименьшей вероятностью попадет?




- 8) На какую букву тот с наименьшей вероятностью попадет?



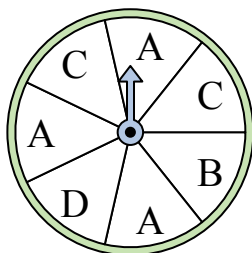
- 9) На какое число прядильщик с наименьшей вероятностью попадет?



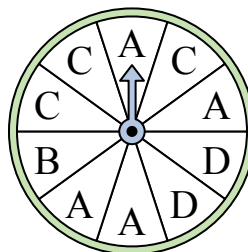
- 10) На какое число прядильщик с наименьшей вероятностью попадет?



- 11) На какие две буквы с одинаковой вероятностью попадет спиннер?



- 12) На какую букву чаще всего попадет спиннер?




ОТВЕТЫ

1. 1
2. A & B
3. D
4. B
5. 4
6. 2 & 4
7. A
8. A
9. 4
10. 4
11. B & D
12. A

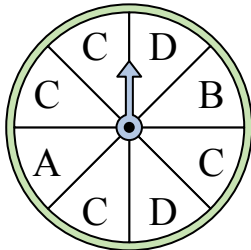


Решите каждую задачу.

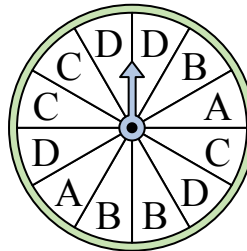
- 1) На какое число прядильщик с наименьшей вероятностью попадет?




- 2) На какую букву чаще всего попадет спиннер?



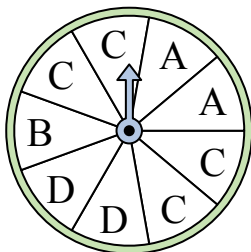
- 3) На какую букву тот с наименьшей вероятностью попадет?



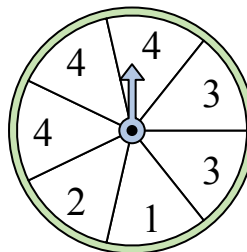
- 4) На какое число с наибольшей вероятностью попадет спиннер?




- 5) На какую букву чаще всего попадет спиннер?




- 6) На какие два числа с одинаковой вероятностью попадет спиннер?



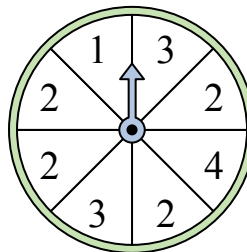
- 7) На какое число прядильщик с наименьшей вероятностью попадет?



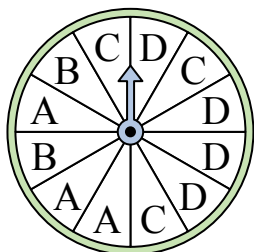
- 8) На какое число с наибольшей вероятностью попадет спиннер?




- 9) На какое число с наибольшей вероятностью попадет спиннер?



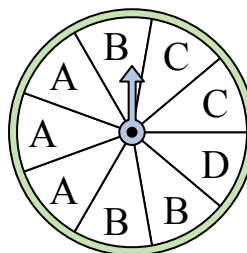
- 10) На какую букву тот с наименьшей вероятностью попадет?



- 11) На какое число с наибольшей вероятностью попадет спиннер?



- 12) На какие две буквы с одинаковой вероятностью попадет спиннер?




Ответы

1. _____
2. _____
3. _____
4. _____
5. _____
6. _____
7. _____
8. _____
9. _____
10. _____
11. _____
12. _____

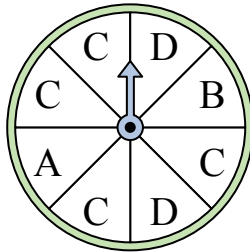


Решите каждую задачу.

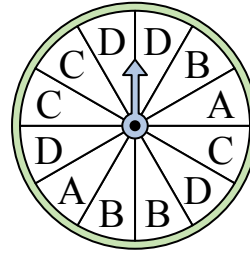
- 1) На какое число прядильщик с наименьшей вероятностью попадет?




- 2) На какую букву чаще всего попадет спиннер?



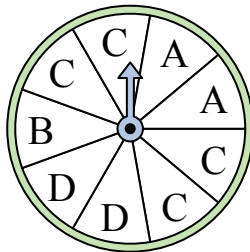
- 3) На какую букву тот с наименьшей вероятностью попадет?



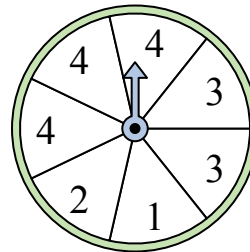
- 4) На какое число с наибольшей вероятностью попадет спиннер?




- 5) На какую букву чаще всего попадет спиннер?




- 6) На какие два числа с одинаковой вероятностью попадет спиннер?



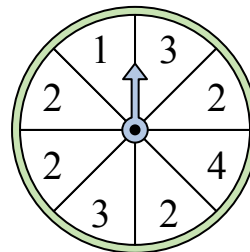
- 7) На какое число прядильщик с наименьшей вероятностью попадет?



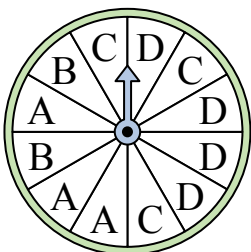
- 8) На какое число с наибольшей вероятностью попадет спиннер?




- 9) На какое число с наибольшей вероятностью попадет спиннер?



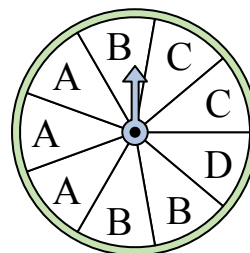
- 10) На какую букву тот с наименьшей вероятностью попадет?



- 11) На какое число с наибольшей вероятностью попадет спиннер?



- 12) На какие две буквы с одинаковой вероятностью попадет спиннер?



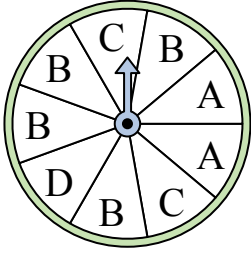
ОТВЕТЫ

1. 4
2. C
3. A
4. 3
5. C
6. 1 & 2
7. 2
8. 1
9. 2
10. B
11. 3
12. A & B




Решите каждую задачу.

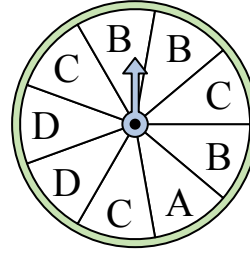
- 1) На какую букву чаще всего попадет спиннер?



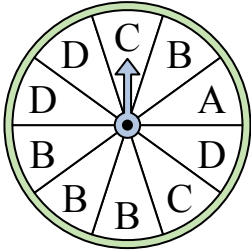
- 2) На какое число прядильщик с наименьшей вероятностью попадет?



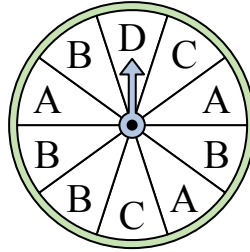
- 3) На какие две буквы с одинаковой вероятностью попадет спиннер?



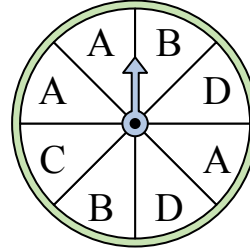
- 4) На какую букву чаще всего попадет спиннер?




- 5) На какую букву тот с наименьшей вероятностью попадет?




- 6) На какие две буквы с одинаковой вероятностью попадет спиннер?



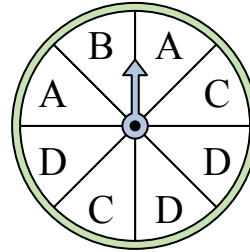
- 7) На какое число прядильщик с наименьшей вероятностью попадет?



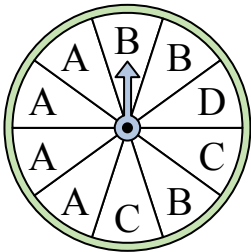
- 8) На какое число прядильщик с наименьшей вероятностью попадет?



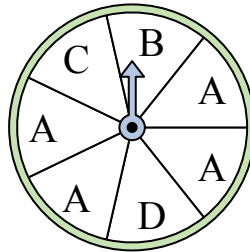
- 9) На какие две буквы с одинаковой вероятностью попадет спиннер?



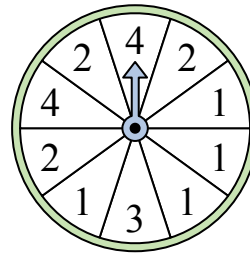
- 10) На какую букву чаще всего попадет спиннер?



- 11) На какую букву чаще всего попадет спиннер?



- 12) На какое число с наибольшей вероятностью попадет спиннер?




Ответы

1. _____
2. _____
3. _____
4. _____
5. _____
6. _____
7. _____
8. _____
9. _____
10. _____
11. _____
12. _____




Решите каждую задачу.

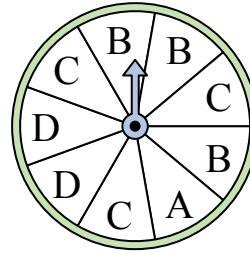
- 1) На какую букву чаще всего попадет спиннер?



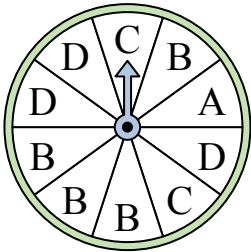
- 2) На какое число прядильщик с наименьшей вероятностью попадет?



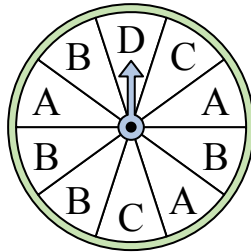
- 3) На какие две буквы с одинаковой вероятностью попадет спиннер?



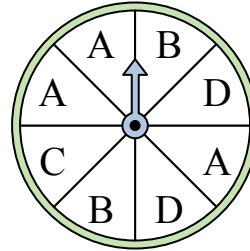
- 4) На какую букву чаще всего попадет спиннер?




- 5) На какую букву тот с наименьшей вероятностью попадет?




- 6) На какие две буквы с одинаковой вероятностью попадет спиннер?



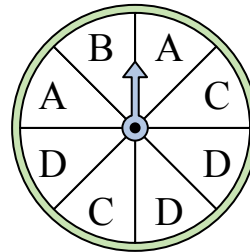
- 7) На какое число прядильщик с наименьшей вероятностью попадет?



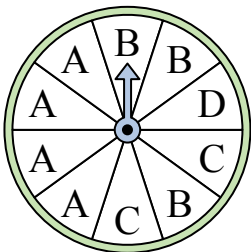
- 8) На какое число прядильщик с наименьшей вероятностью попадет?



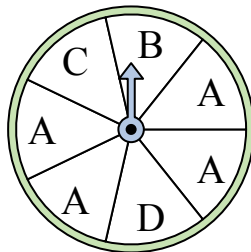
- 9) На какие две буквы с одинаковой вероятностью попадет спиннер?



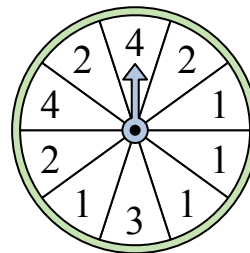
- 10) На какую букву чаще всего попадет спиннер?



- 11) На какую букву чаще всего попадет спиннер?



- 12) На какое число с наибольшей вероятностью попадет спиннер?



ОТВЕТЫ

1. **B**

2. **4**

3. **B & C**

4. **B**

5. **D**

6. **B & D**

7. **1**

8. **1**

9. **A & C**

10. **A**

11. **A**

12. **1**