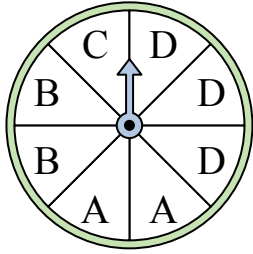




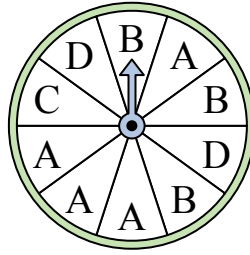
Решите каждую задачу.

Ответы


- 1) На какую букву чаще всего попадет спиннер?




- 2) На какую букву тот с наименьшей вероятностью попадет?




- 3) На какое число прядильщик с наименьшей вероятностью попадет?



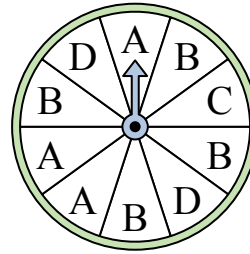
- 4) На какое число прядильщик с наименьшей вероятностью попадет?



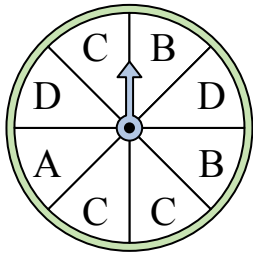
- 5) На какое число с наибольшей вероятностью попадет спиннер?



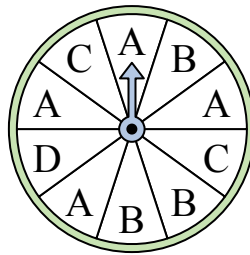
- 6) На какую букву чаще всего попадет спиннер?



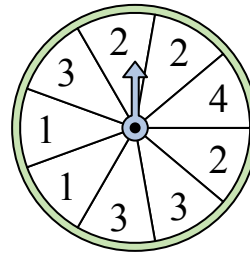
- 7) На какие две буквы с одинаковой вероятностью попадет спиннер?



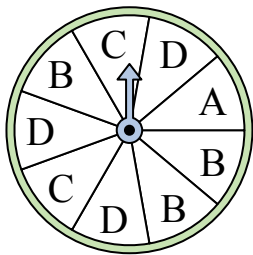
- 8) На какую букву чаще всего попадет спиннер?



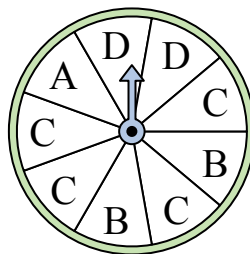
- 9) На какие два числа с одинаковой вероятностью попадет спиннер?




- 10) На какие две буквы с одинаковой вероятностью попадет спиннер?



- 11) На какую букву чаще всего попадет спиннер?



- 12) На какое число прядильщик с наименьшей вероятностью попадет?



1. _____

2. _____

3. _____

4. _____

5. _____

6. _____

7. _____

8. _____

9. _____

10. _____

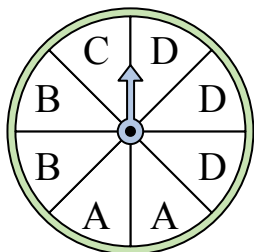
11. _____

12. _____

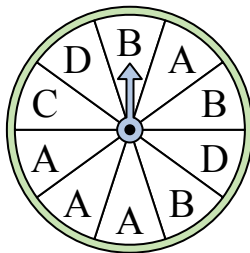


Решите каждую задачу.


- 1) На какую букву чаще всего попадет спиннер?




- 2) На какую букву тот с наименьшей вероятностью попадет?




- 3) На какое число прядильщик с наименьшей вероятностью попадет?



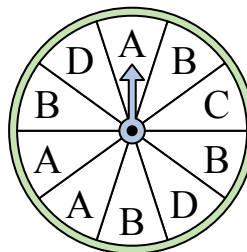
- 4) На какое число прядильщик с наименьшей вероятностью попадет?



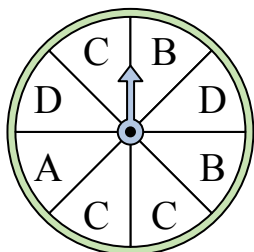
- 5) На какое число с наибольшей вероятностью попадет спиннер?



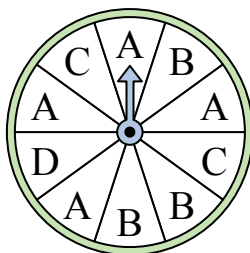
- 6) На какую букву чаще всего попадет спиннер?




- 7) На какие две буквы с одинаковой вероятностью попадет спиннер?



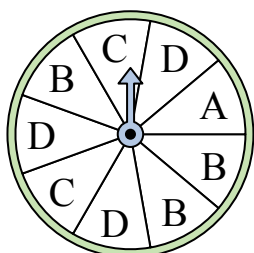
- 8) На какую букву чаще всего попадет спиннер?



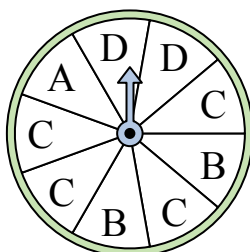
- 9) На какие два числа с одинаковой вероятностью попадет спиннер?




- 10) На какие две буквы с одинаковой вероятностью попадет спиннер?



- 11) На какую букву чаще всего попадет спиннер?



- 12) На какое число прядильщик с наименьшей вероятностью попадет?



ОТВЕТЫ

1. D

2. C

3. 2

4. 3

5. 1

6. B

7. B & D

8. A

9. 2 & 3

10. B & D

11. C

12. 1