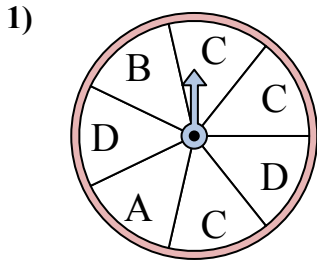


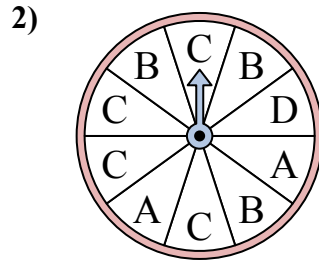


Решайте каждую проблему. Округлите ответ до ближайшей десятой.

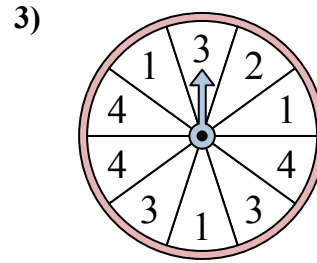
**ОТВЕТЫ**



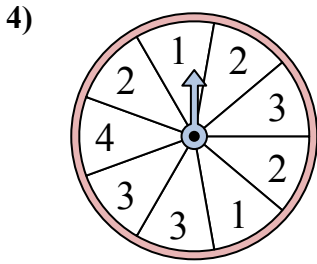
У спиннера есть {ПУСТО}% шанс приземлиться на C.



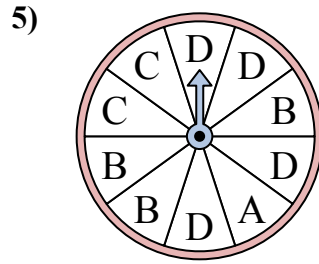
У спиннера есть {ПУСТО}% шанс приземлиться на B.



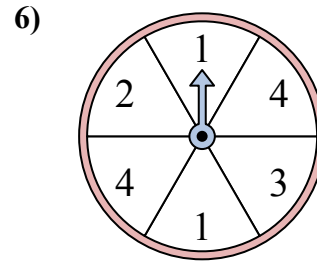
У спиннера есть {ПУСТО}% шанс приземлиться на 2.



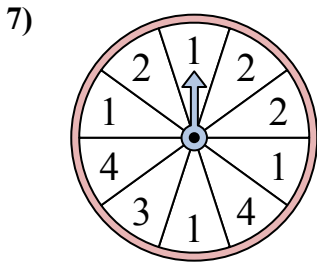
У спиннера есть {ПУСТО}% шанс приземлиться на 1.



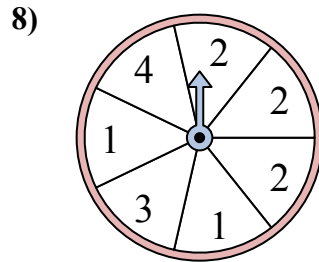
У спиннера есть {ПУСТО}% шанс приземлиться на B.



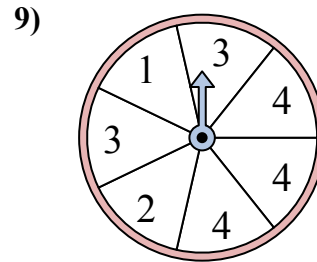
У спиннера есть {ПУСТО}% шанс приземлиться на 3.



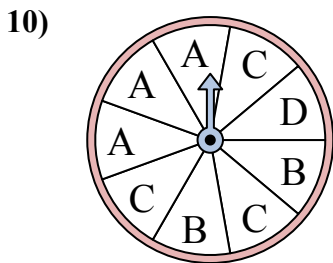
У спиннера есть {ПУСТО}% шанс приземлиться на 1.



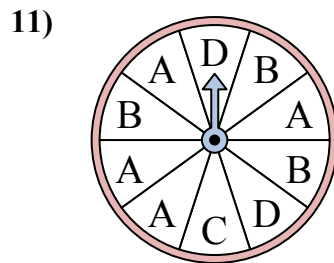
У спиннера есть {ПУСТО}% шанс приземлиться на 2.



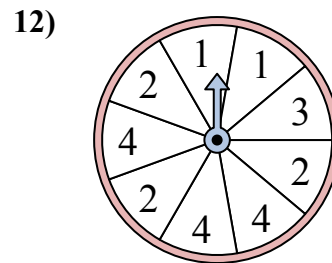
У спиннера есть {ПУСТО}% шанс приземлиться на 2.



У спиннера есть {ПУСТО}% шанс приземлиться на C.



У спиннера есть {ПУСТО}% шанс приземлиться на A.

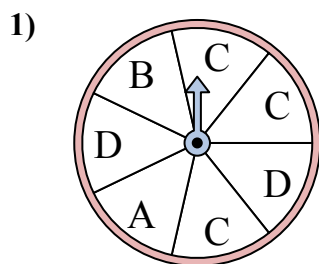


У спиннера есть {ПУСТО}% шанс приземлиться на 1.

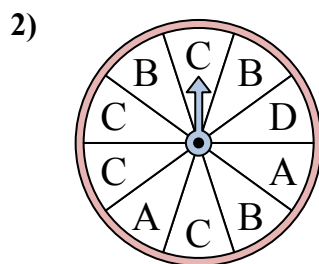
1. \_\_\_\_\_
2. \_\_\_\_\_
3. \_\_\_\_\_
4. \_\_\_\_\_
5. \_\_\_\_\_
6. \_\_\_\_\_
7. \_\_\_\_\_
8. \_\_\_\_\_
9. \_\_\_\_\_
10. \_\_\_\_\_
11. \_\_\_\_\_
12. \_\_\_\_\_



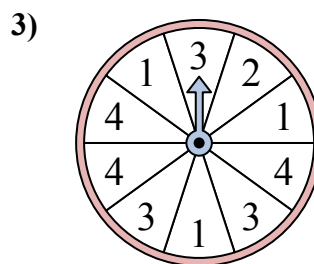
Решайте каждую проблему. Округлите ответ до ближайшей десятой.



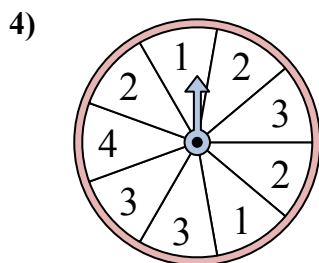
У спиннера есть {ПУСТО}% шанс приземлиться на C.



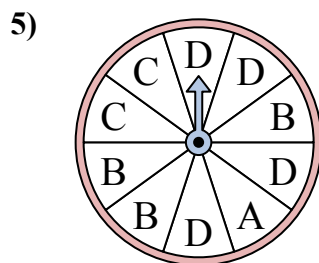
У спиннера есть {ПУСТО}% шанс приземлиться на B.



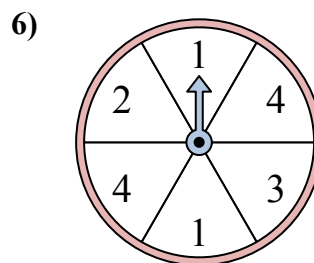
У спиннера есть {ПУСТО}% шанс приземлиться на 2.



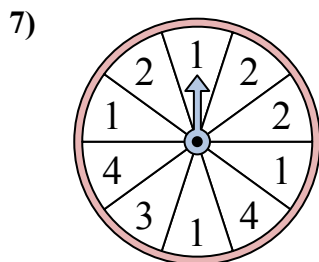
У спиннера есть {ПУСТО}% шанс приземлиться на 1.



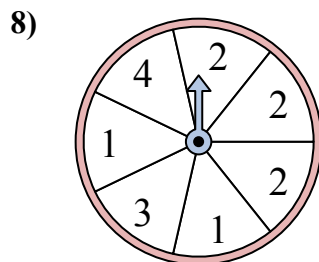
У спиннера есть {ПУСТО}% шанс приземлиться на B.



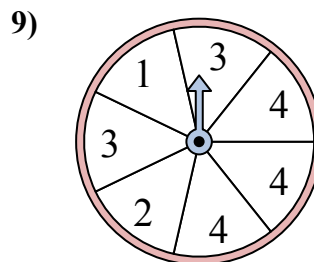
У спиннера есть {ПУСТО}% шанс приземлиться на 3.



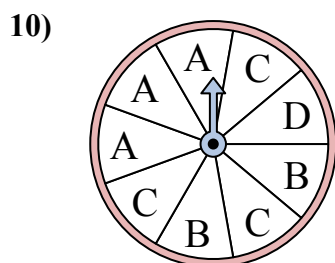
У спиннера есть {ПУСТО}% шанс приземлиться на 1.



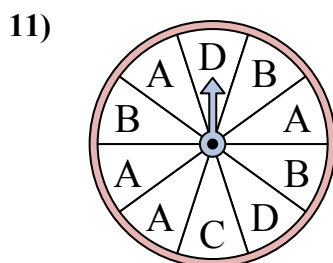
У спиннера есть {ПУСТО}% шанс приземлиться на 2.



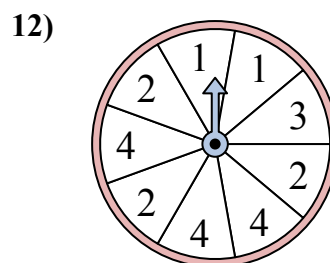
У спиннера есть {ПУСТО}% шанс приземлиться на 2.



У спиннера есть {ПУСТО}% шанс приземлиться на C.



У спиннера есть {ПУСТО}% шанс приземлиться на A.



У спиннера есть {ПУСТО}% шанс приземлиться на 1.

**ОТВЕТЫ**

1. 42,9
2. 30
3. 10
4. 22,2
5. 30
6. 16,7
7. 40
8. 42,9
9. 14,3
10. 33,3
11. 40
12. 22,2