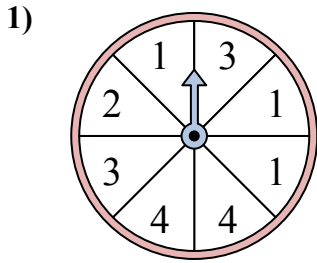


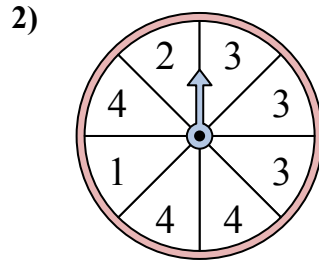


Решайте каждую проблему. Округлите ответ до ближайшей десятой.

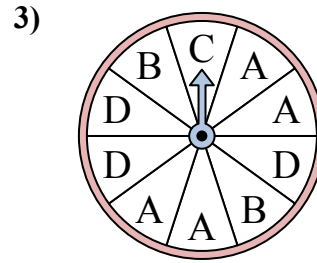
ОТВЕТЫ



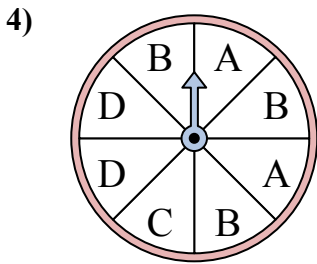
У спиннера есть {ПУСТО}% шанс приземлиться на 3.



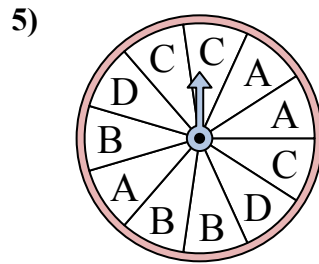
У спиннера есть {ПУСТО}% шанс приземлиться на 3.



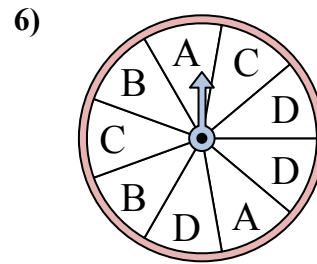
У спиннера есть {ПУСТО}% шанс приземлиться на B.



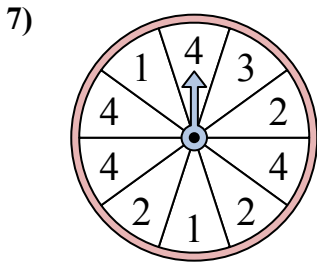
У спиннера есть {ПУСТО}% шанс приземлиться на C.



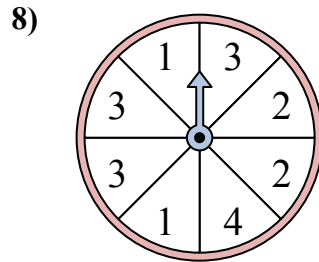
У спиннера есть {ПУСТО}% шанс приземлиться на D.



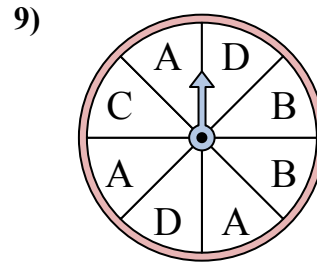
У спиннера есть {ПУСТО}% шанс приземлиться на C.



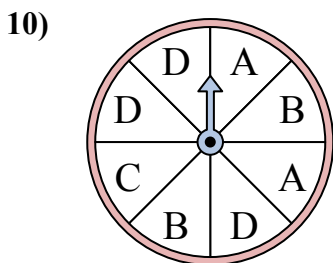
У спиннера есть {ПУСТО}% шанс приземлиться на 1.



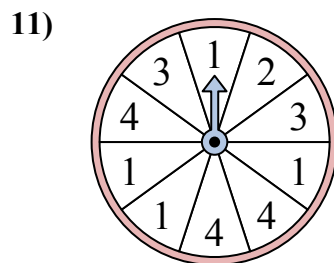
У спиннера есть {ПУСТО}% шанс приземлиться на 3.



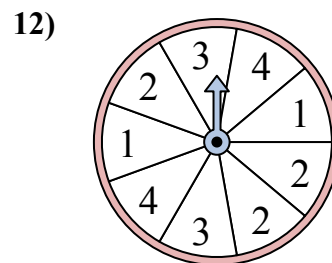
У спиннера есть {ПУСТО}% шанс приземлиться на B.



У спиннера есть {ПУСТО}% шанс приземлиться на B.



У спиннера есть {ПУСТО}% шанс приземлиться на 3.

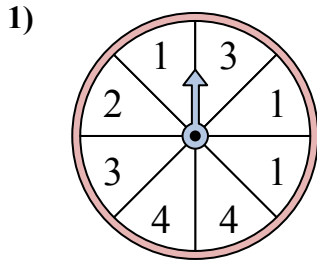


У спиннера есть {ПУСТО}% шанс приземлиться на 1.

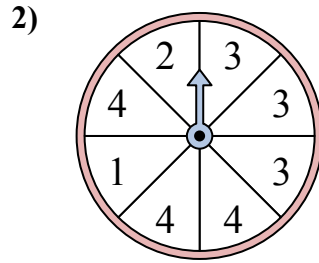
1. _____
2. _____
3. _____
4. _____
5. _____
6. _____
7. _____
8. _____
9. _____
10. _____
11. _____
12. _____



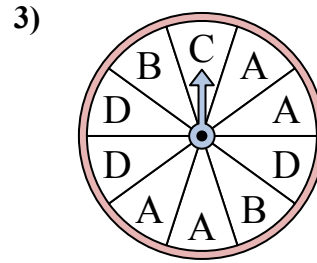
Решайте каждую проблему. Округлите ответ до ближайшей десятой.



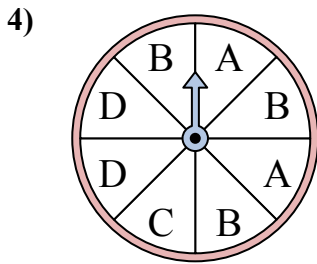
У спиннера есть {ПУСТО}% шанс приземлиться на 3.



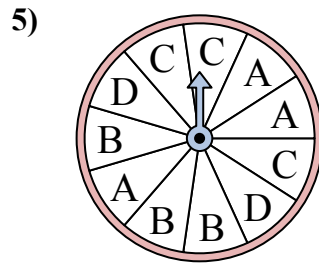
У спиннера есть {ПУСТО}% шанс приземлиться на 3.



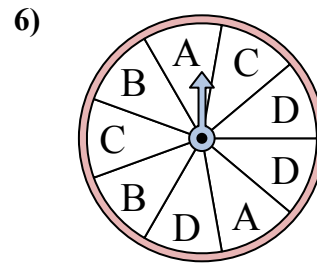
У спиннера есть {ПУСТО}% шанс приземлиться на B.



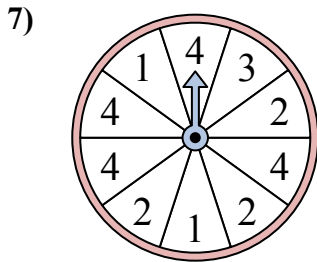
У спиннера есть {ПУСТО}% шанс приземлиться на C.



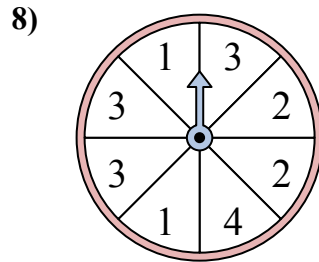
У спиннера есть {ПУСТО}% шанс приземлиться на D.



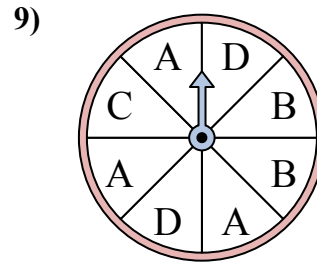
У спиннера есть {ПУСТО}% шанс приземлиться на C.



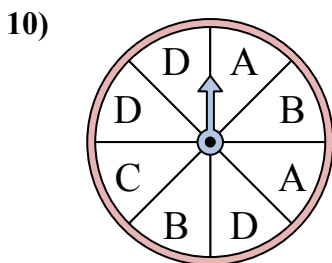
У спиннера есть {ПУСТО}% шанс приземлиться на 1.



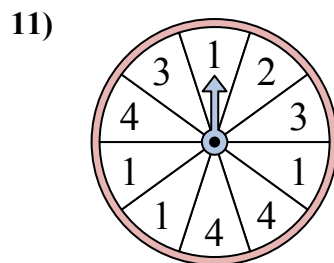
У спиннера есть {ПУСТО}% шанс приземлиться на 3.



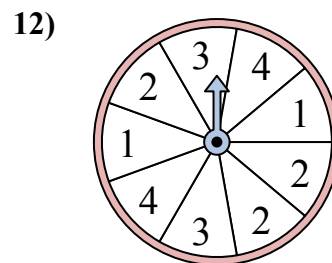
У спиннера есть {ПУСТО}% шанс приземлиться на B.



У спиннера есть {ПУСТО}% шанс приземлиться на B.



У спиннера есть {ПУСТО}% шанс приземлиться на 3.



У спиннера есть {ПУСТО}% шанс приземлиться на 1.

ОТВЕТЫ

1. 25
2. 37,5
3. 20
4. 12,5
5. 18,2
6. 22,2
7. 20
8. 37,5
9. 25
10. 25
11. 20
12. 22,2