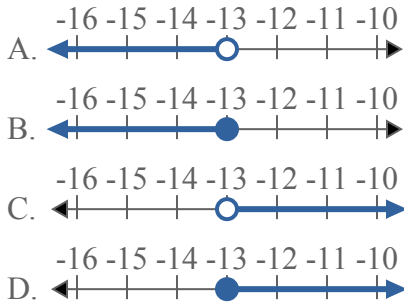




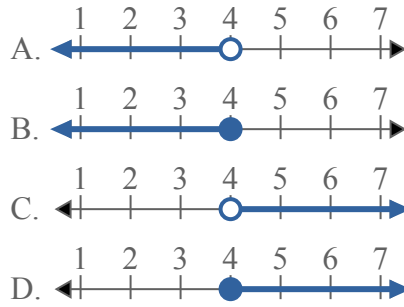
Решите каждую задачу.

ОТВЕТЫ

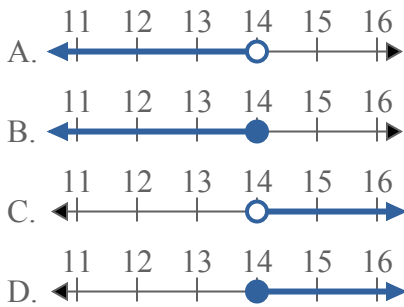
1) Какой вариант наиболее соответствует $X \geq -13$



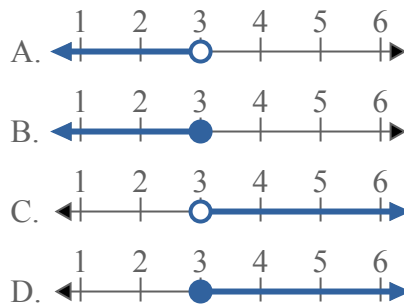
2) Какой вариант наиболее соответствует $X > 4$



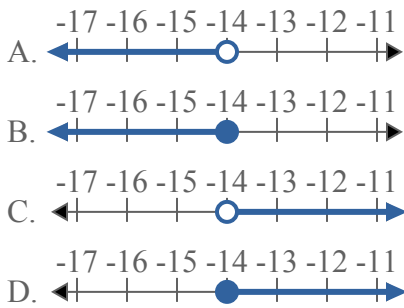
3) Какой вариант наиболее соответствует $X < 14$



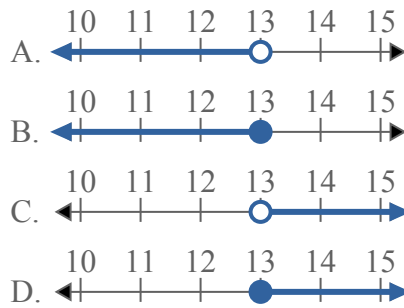
4) Какой вариант наиболее соответствует $X < 3$



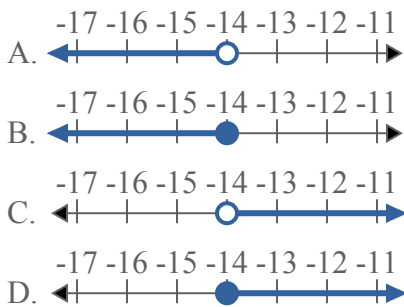
5) Какой вариант наиболее соответствует $X \leq -14$



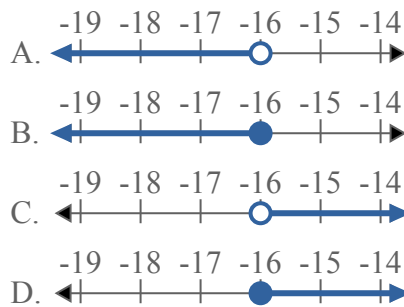
6) Какой вариант наиболее соответствует $X \geq 13$



7) Какой вариант наиболее соответствует $X \geq -14$



8) Какой вариант наиболее соответствует $X < -16$



1. _____
2. _____
3. _____
4. _____
5. _____
6. _____
7. _____
8. _____



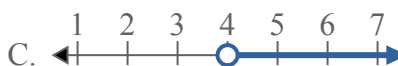
Решите каждую задачу.

ОТВЕТЫ

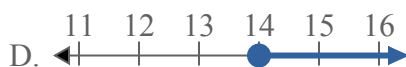
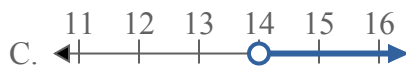
1) Какой вариант наиболее соответствует $X \geq -13$



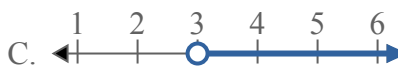
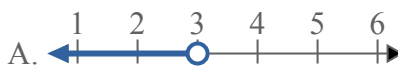
2) Какой вариант наиболее соответствует $X > 4$



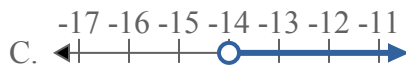
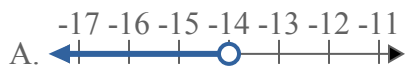
3) Какой вариант наиболее соответствует $X < 14$



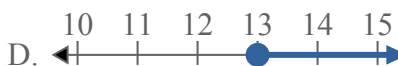
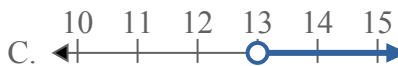
4) Какой вариант наиболее соответствует $X < 3$



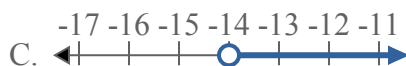
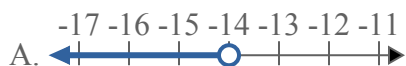
5) Какой вариант наиболее соответствует $X \leq -14$



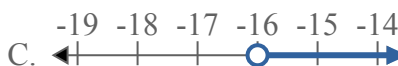
6) Какой вариант наиболее соответствует $X \geq 13$



7) Какой вариант наиболее соответствует $X \geq -14$



8) Какой вариант наиболее соответствует $X < -16$



1. **D**

2. **C**

3. **A**

4. **A**

5. **B**

6. **D**

7. **D**

8. **A**