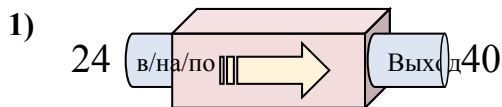


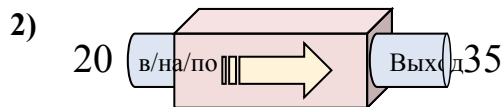


Определите какой закон используется в станке.

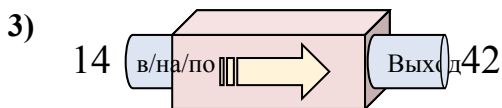
ОТВЕТЫ



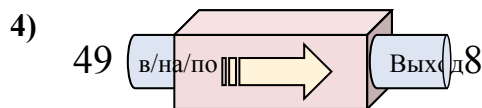
- A. Добавить 20
- B. Добавить 11
- C. Вычесть 11
- D. Добавить 16



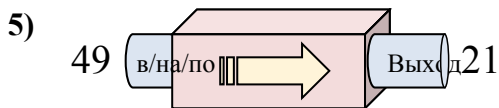
- A. Добавить 15
- B. Вычесть 13
- C. Добавить 12
- D. Добавить 14



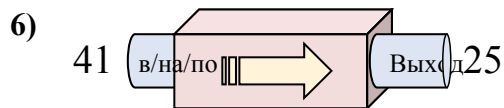
- A. Добавить 28
- B. Добавить 31
- C. Вычесть 25
- D. Добавить 27



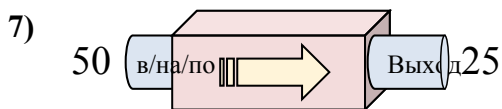
- A. Вычесть 42
- B. Вычесть 46
- C. Вычесть 41
- D. Добавить 46



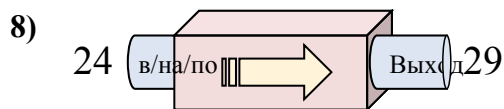
- A. Вычесть 29
- B. Вычесть 26
- C. Добавить 26
- D. Вычесть 28



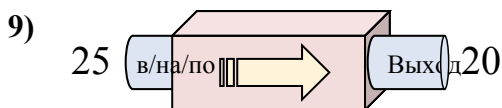
- A. Вычесть 14
- B. Вычесть 16
- C. Вычесть 18
- D. Добавить 17



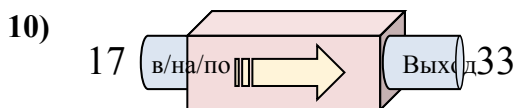
- A. Вычесть 20
- B. Вычесть 25
- C. Добавить 24
- D. Вычесть 23



- A. Добавить 5
- B. Добавить 9
- C. Вычесть 10
- D. Добавить 6



- A. Вычесть 5
- B. Вычесть 3
- C. Добавить 1
- D. Вычесть 8



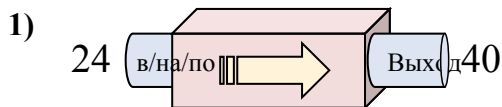
- A. Вычесть 13
- B. Вычесть 20
- C. Добавить 16
- D. Добавить 19

1. _____
2. _____
3. _____
4. _____
5. _____
6. _____
7. _____
8. _____
9. _____
10. _____

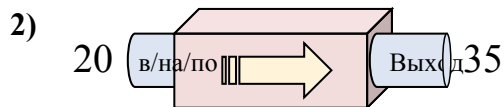


Определите какой закон используется в станке.

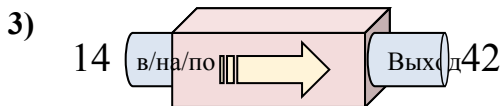
ОТВЕТЫ



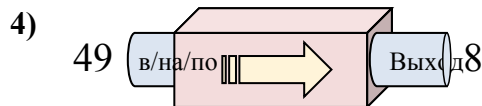
- A. Добавить 20
- B. Добавить 11
- C. Вычесть 11
- D. Добавить 16



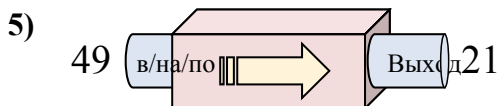
- A. Добавить 15
- B. Вычесть 13
- C. Добавить 12
- D. Добавить 14



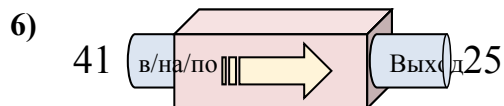
- A. Добавить 28
- B. Добавить 31
- C. Вычесть 25
- D. Добавить 27



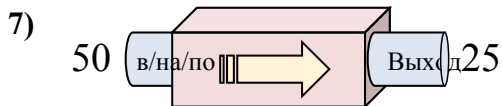
- A. Вычесть 42
- B. Вычесть 46
- C. Вычесть 41
- D. Добавить 46



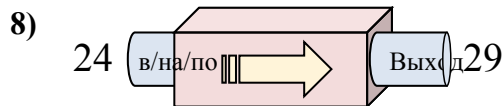
- A. Вычесть 29
- B. Вычесть 26
- C. Добавить 26
- D. Вычесть 28



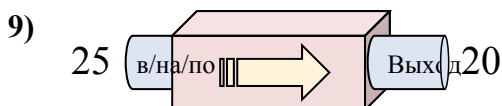
- A. Вычесть 14
- B. Вычесть 16
- C. Вычесть 18
- D. Добавить 17



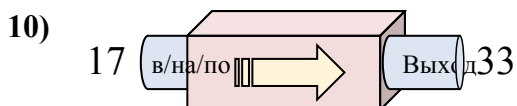
- A. Вычесть 20
- B. Вычесть 25
- C. Добавить 24
- D. Вычесть 23



- A. Добавить 5
- B. Добавить 9
- C. Вычесть 10
- D. Добавить 6



- A. Вычесть 5
- B. Вычесть 3
- C. Добавить 1
- D. Вычесть 8



- A. Вычесть 13
- B. Вычесть 20
- C. Добавить 16
- D. Добавить 19

1. **D**
2. **A**
3. **A**
4. **C**
5. **D**
6. **B**
7. **B**
8. **A**
9. **A**
10. **C**