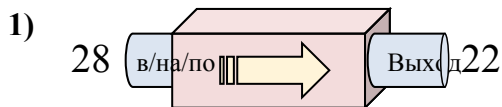


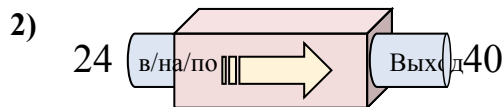


Определите какой закон используется в станке.

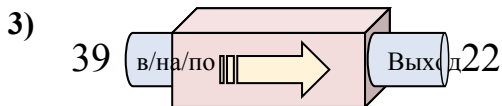
**ОТВЕТЫ**



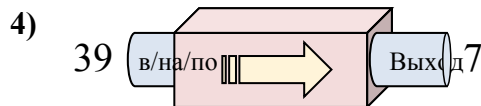
- A. Вычесть 5
- B. Вычесть 11
- C. Вычесть 6
- D. Добавить 5



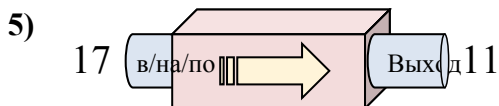
- A. Добавить 20
- B. Добавить 17
- C. Вычесть 19
- D. Добавить 16



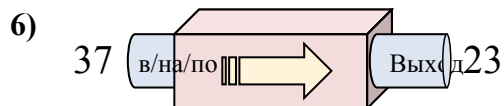
- A. Добавить 17
- B. Вычесть 17
- C. Вычесть 20
- D. Вычесть 19



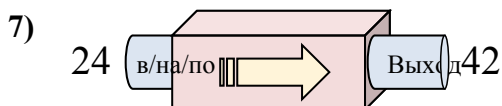
- A. Вычесть 30
- B. Вычесть 35
- C. Вычесть 32
- D. Вычесть 34



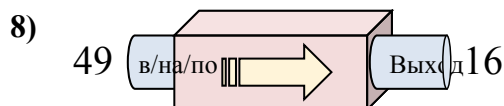
- A. Добавить 9
- B. Вычесть 8
- C. Вычесть 6
- D. Вычесть 2



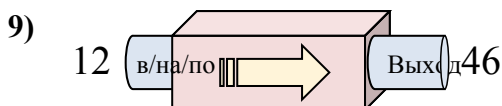
- A. Вычесть 12
- B. Добавить 10
- C. Вычесть 14
- D. Вычесть 15



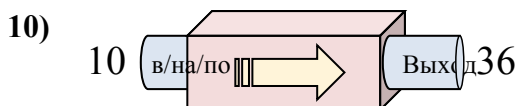
- A. Добавить 18
- B. Добавить 15
- C. Добавить 22
- D. Добавить 14



- A. Вычесть 33
- B. Вычесть 32
- C. Добавить 32
- D. Добавить 30



- A. Добавить 37
- B. Добавить 32
- C. Добавить 34
- D. Добавить 38

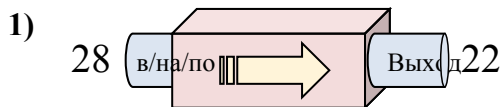


- A. Добавить 29
- B. Добавить 26
- C. Вычесть 29
- D. Добавить 30

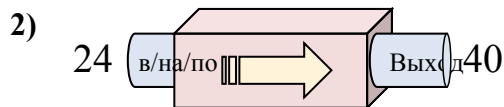
1. \_\_\_\_\_
2. \_\_\_\_\_
3. \_\_\_\_\_
4. \_\_\_\_\_
5. \_\_\_\_\_
6. \_\_\_\_\_
7. \_\_\_\_\_
8. \_\_\_\_\_
9. \_\_\_\_\_
10. \_\_\_\_\_



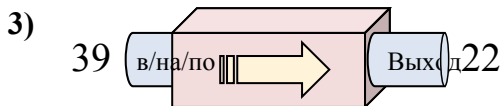
Определите какой закон используется в станке.



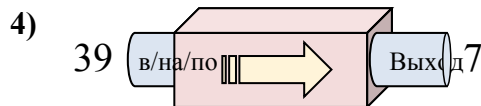
- A. Вычесть 5
- B. Вычесть 11
- C. Вычесть 6
- D. Добавить 5



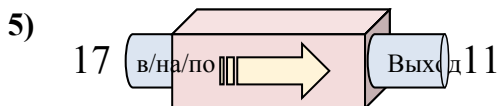
- A. Добавить 20
- B. Добавить 17
- C. Вычесть 19
- D. Добавить 16



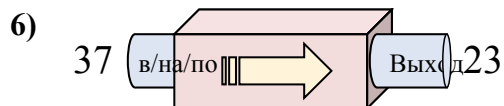
- A. Добавить 17
- B. Вычесть 17
- C. Вычесть 20
- D. Вычесть 19



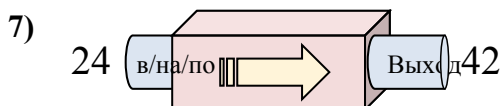
- A. Вычесть 30
- B. Вычесть 35
- C. Вычесть 32
- D. Вычесть 34



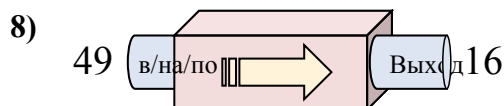
- A. Добавить 9
- B. Вычесть 8
- C. Вычесть 6
- D. Вычесть 2



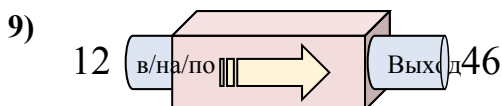
- A. Вычесть 12
- B. Добавить 10
- C. Вычесть 14
- D. Вычесть 15



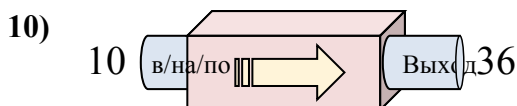
- A. Добавить 18
- B. Добавить 15
- C. Добавить 22
- D. Добавить 14



- A. Вычесть 33
- B. Вычесть 32
- C. Добавить 32
- D. Добавить 30



- A. Добавить 37
- B. Добавить 32
- C. Добавить 34
- D. Добавить 38



- A. Добавить 29
- B. Добавить 26
- C. Вычесть 29
- D. Добавить 30

**ОТВЕТЫ**1. **C**2. **D**3. **B**4. **C**5. **C**6. **C**7. **A**8. **A**9. **C**10. **B**