



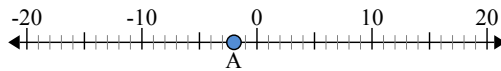
Используйте числовую прямую для нахождения абсолютной величины.

1) а. Каково значение А?



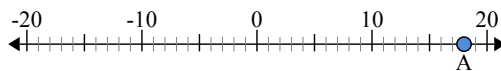
б. На каком расстоянии А от 0 (абсолютной величины)?

2) а. Каково значение А?



б. На каком расстоянии А от 0 (абсолютной величины)?

3) а. Каково значение А?



ОТВЕТЫ

1. _____
2. _____
3. _____
4. _____
5. _____
6. _____
7. _____
8. _____
9. _____
10. _____



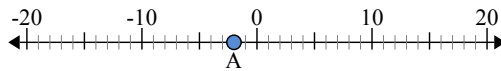
Используйте числовую прямую для нахождения абсолютной величины.

1) а. Каково значение А?



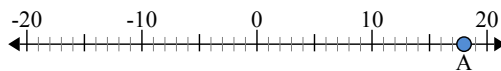
б. На каком расстоянии А от 0 (абсолютной величины)?

2) а. Каково значение А?



б. На каком расстоянии А от 0 (абсолютной величины)?

3) а. Каково значение А?



ОТВЕТЫ

1.	<u>5</u>	<u>5</u>
2.	<u>-2</u>	<u>2</u>
3.	<u>18</u>	<u>18</u>
4.	<u>-17</u>	<u>17</u>
5.	<u>0</u>	<u>0</u>
6.	<u>13</u>	<u>13</u>
7.	<u>-14</u>	<u>14</u>
8.	<u>11</u>	<u>11</u>
9.	<u>-4</u>	<u>4</u>
10.	<u>-8</u>	<u>8</u>