



Определите, какой вариант лучше всего описывает монеты в указанном порядке.

ОТВЕТЫ

1)



- A. никель , копейка, четверть , пенни
- B. пенни , копейка, четверть , никель
- C. никель , четверть , пенни , копейка
- D. никель , четверть , копейка, пенни

1. _____

2)




- A. четверть , никель , пенни , копейка
- B. копейка, никель , четверть , пенни
- C. пенни , никель , четверть , копейка
- D. никель , пенни , четверть , копейка

2. _____

3. _____

4. _____

3)



- A. пенни , копейка, никель , четверть
- B. четверть , копейка, никель , пенни
- C. четверть , пенни , никель , копейка
- D. пенни , четверть , никель , копейка

5. _____

6. _____

7. _____

8. _____

4)



- A. четверть , пенни , копейка, никель
- B. пенни , никель , четверть , копейка
- C. четверть , пенни , никель , копейка
- D. никель , пенни , копейка, четверть

5)



- A. пенни , копейка, никель , четверть
- B. копейка, четверть , никель , пенни
- C. четверть , копейка, пенни , никель
- D. пенни , четверть , копейка, никель

6)



- A. копейка, пенни , четверть , никель
- B. копейка, четверть , никель , пенни
- C. пенни , никель , четверть , копейка



Определите, какой вариант лучше всего описывает монеты в указанном порядке.

ОТВЕТЫ

1)



- A. никель , копейка, четверть , пенни
- B. пенни , копейка, четверть , никель
- C. никель , четверть , пенни , копейка
- D. никель , четверть , копейка, пенни

1. **C**

2)




- A. четверть , никель , пенни , копейка
- B. копейка, никель , четверть , пенни
- C. пенни , никель , четверть , копейка
- D. никель , пенни , четверть , копейка

2. **D**

3. **C**

3)



- A. пенни , копейка, никель , четверть
- B. четверть , копейка, никель , пенни
- C. четверть , пенни , никель , копейка
- D. пенни , четверть , никель , копейка

4. **B**

5. **C**

6. **D**

7. **B**

8. **A**

4)



- A. четверть , пенни , копейка, никель
- B. пенни , никель , четверть , копейка
- C. четверть , пенни , никель , копейка
- D. никель , пенни , копейка, четверть

5)



- A. пенни , копейка, никель , четверть
- B. копейка, четверть , никель , пенни
- C. четверть , копейка, пенни , никель
- D. пенни , четверть , копейка, никель

6)



- A. копейка, пенни , четверть , никель
- B. копейка, четверть , никель , пенни
- C. пенни , никель , четверть , копейка



Определите, какой вариант лучше всего описывает монеты в указанном порядке.

Ответы

1)



- A. пенни , четверть , никель , копейка
- B. четверть , никель , копейка, пенни
- C. копейка, никель , пенни , четверть
- D. пенни , никель , четверть , копейка

1. _____

2)



- A. никель , пенни , четверть , копейка
- B. никель , четверть , копейка, пенни
- C. копейка, никель , четверть , пенни
- D. копейка, четверть , никель , пенни

2. _____

3. _____

3)



- A. никель , четверть , пенни , копейка
- B. никель , копейка, пенни , четверть
- C. пенни , четверть , копейка, никель
- D. копейка, никель , пенни , четверть

4. _____

5. _____

6. _____

7. _____

8. _____

4)



- A. копейка, никель , четверть , пенни
- B. пенни , четверть , копейка, никель
- C. никель , четверть , копейка, пенни
- D. четверть , никель , пенни , копейка

5)



- A. четверть , пенни , копейка, никель
- B. пенни , четверть , копейка, никель
- C. никель , четверть , копейка, пенни
- D. пенни , копейка, четверть , никель

6)



- A. четверть , копейка, пенни , никель
- B. копейка, никель , четверть , пенни
- C. копейка, четверть , никель , пенни



Определите, какой вариант лучше всего описывает монеты в указанном порядке.

ОТВЕТЫ

1)



- A. пенни , четверть , никель , копейка
- B. четверть , никель , копейка, пенни
- C. копейка, никель , пенни , четверть
- D. пенни , никель , четверть , копейка

1. **D**

2)



- A. никель , пенни , четверть , копейка
- B. никель , четверть , копейка, пенни
- C. копейка, никель , четверть , пенни
- D. копейка, четверть , никель , пенни

2. **A**

3. **D**

3)



- A. никель , четверть , пенни , копейка
- B. никель , копейка, пенни , четверть
- C. пенни , четверть , копейка, никель
- D. копейка, никель , пенни , четверть

4. **B**

5. **D**

6. **A**

7. **D**

8. **B**

4)



- A. копейка, никель , четверть , пенни
- B. пенни , четверть , копейка, никель
- C. никель , четверть , копейка, пенни
- D. четверть , никель , пенни , копейка

5)



- A. четверть , пенни , копейка, никель
- B. пенни , четверть , копейка, никель
- C. никель , четверть , копейка, пенни
- D. пенни , копейка, четверть , никель

6)



- A. четверть , копейка, пенни , никель
- B. копейка, никель , четверть , пенни
- C. копейка, четверть , никель , пенни



Определите, какой вариант лучше всего описывает монеты в указанном порядке.

Ответы

1)



- A. копейка, никель , пенни , четверть
- B. пенни , четверть , никель , копейка
- C. копейка, пенни , четверть , никель
- D. четверть , никель , пенни , копейка

1. _____

2. _____

3. _____

2)



- A. четверть , копейка, пенни , никель
- B. никель , копейка, пенни , четверть
- C. пенни , никель , четверть , копейка
- D. никель , четверть , копейка, пенни

4. _____

5. _____

6. _____

7. _____

3)



- A. пенни , четверть , копейка, никель
- B. копейка, никель , пенни , четверть
- C. никель , пенни , копейка, четверть
- D. копейка, четверть , никель , пенни

8. _____

4)



- A. пенни , копейка, никель , четверть
- B. четверть , копейка, никель , пенни
- C. копейка, никель , четверть , пенни
- D. копейка, пенни , четверть , никель

5)



- A. пенни , копейка, четверть , никель
- B. никель , копейка, пенни , четверть
- C. пенни , никель , копейка, четверть
- D. никель , четверть , копейка, пенни

6)



- A. четверть , никель , копейка, пенни
- B. копейка, четверть , пенни , никель
- C. копейка, никель , пенни , четверть



Определите, какой вариант лучше всего описывает монеты в указанном порядке.

ОТВЕТЫ

1)



- A. копейка, никель , пенни , четверть
- B. пенни , четверть , никель , копейка
- C. копейка, пенни , четверть , никель
- D. четверть , никель , пенни , копейка

1. **B**

2)



- A. четверть , копейка, пенни , никель
- B. никель , копейка, пенни , четверть
- C. пенни , никель , четверть , копейка
- D. никель , четверть , копейка, пенни

2. **A**

3. **C**

4. **D**

3)



- A. пенни , четверть , копейка, никель
- B. копейка, никель , пенни , четверть
- C. никель , пенни , копейка, четверть
- D. копейка, четверть , никель , пенни

5. **D**

6. **C**

7. **B**

8. **A**

4)



- A. пенни , копейка, никель , четверть
- B. четверть , копейка, никель , пенни
- C. копейка, никель , четверть , пенни
- D. копейка, пенни , четверть , никель

5)



- A. пенни , копейка, четверть , никель
- B. никель , копейка, пенни , четверть
- C. пенни , никель , копейка, четверть
- D. никель , четверть , копейка, пенни

6)



- A. четверть , никель , копейка, пенни
- B. копейка, четверть , пенни , никель
- C. копейка, никель , пенни , четверть



Определите, какой вариант лучше всего описывает монеты в указанном порядке.

ОТВЕТЫ

1)



- A. копейка, никель , четверть , пенни
- B. никель , четверть , пенни , копейка
- C. четверть , никель , пенни , копейка
- D. пенни , никель , копейка, четверть

1. _____

2. _____

3. _____

2)



- A. никель , четверть , копейка, пенни
- B. копейка, никель , пенни , четверть
- C. пенни , никель , четверть , копейка
- D. пенни , четверть , копейка, никель

4. _____

5. _____

6. _____

7. _____

3)



- A. копейка, никель , пенни , четверть
- B. четверть , пенни , копейка, никель
- C. четверть , никель , пенни , копейка
- D. копейка, пенни , четверть , никель

8. _____

4)



- A. копейка, никель , четверть , пенни
- B. копейка, пенни , четверть , никель
- C. пенни , копейка, четверть , никель
- D. пенни , четверть , никель , копейка

5)



- A. пенни , четверть , копейка, никель
- B. пенни , никель , четверть , копейка
- C. копейка, четверть , пенни , никель
- D. четверть , пенни , никель , копейка

6)



- A. никель , пенни , четверть , копейка
- B. пенни , четверть , копейка, никель
- C. копейка, никель , четверть , пенни



Определите, какой вариант лучше всего описывает монеты в указанном порядке.

ОТВЕТЫ

1)



- A. копейка, никель , четверть , пенни
- B. никель , четверть , пенни , копейка
- C. четверть , никель , пенни , копейка
- D. пенни , никель , копейка, четверть

1. **C**

2)



- A. никель , четверть , копейка, пенни
- B. копейка, никель , пенни , четверть
- C. пенни , никель , четверть , копейка
- D. пенни , четверть , копейка, никель

2. **B**

3. **D**

3)



- A. копейка, никель , пенни , четверть
- B. четверть , пенни , копейка, никель
- C. четверть , никель , пенни , копейка
- D. копейка, пенни , четверть , никель

4. **B**

5. **A**

6. **D**

7. **C**

4)



- A. копейка, никель , четверть , пенни
- B. копейка, пенни , четверть , никель
- C. пенни , копейка, четверть , никель
- D. пенни , четверть , никель , копейка

8. **A**

5)



- A. пенни , четверть , копейка, никель
- B. пенни , никель , четверть , копейка
- C. копейка, четверть , пенни , никель
- D. четверть , пенни , никель , копейка

6)



- A. никель , пенни , четверть , копейка
- B. пенни , четверть , копейка, никель
- C. копейка, никель , четверть , пенни



Определите, какой вариант лучше всего описывает монеты в указанном порядке.

Ответы

1)



- A. пенни , копейка, четверть , никель
- B. копейка, никель , четверть , пенни
- C. копейка, четверть , никель , пенни
- D. пенни , четверть , никель , копейка

1. _____

2)



- A. пенни , никель , четверть , копейка
- B. никель , копейка, пенни , четверть
- C. четверть , пенни , никель , копейка
- D. пенни , никель , копейка, четверть

2. _____

3. _____

3)



- A. пенни , никель , копейка, четверть
- B. копейка, никель , четверть , пенни
- C. четверть , пенни , копейка, никель
- D. четверть , пенни , никель , копейка

4. _____

5. _____

6. _____

7. _____

8. _____

4)



- A. никель , четверть , копейка, пенни
- B. никель , пенни , четверть , копейка
- C. копейка, пенни , никель , четверть
- D. четверть , никель , копейка, пенни

5)



- A. четверть , пенни , никель , копейка
- B. никель , пенни , копейка, четверть
- C. копейка, четверть , пенни , никель
- D. пенни , четверть , копейка, никель

6)



- A. четверть , копейка, никель , пенни
- B. никель , пенни , четверть , копейка
- C. никель , копейка, четверть , пенни



Определите, какой вариант лучше всего описывает монеты в указанном порядке.

ОТВЕТЫ

1)



- A. пенни , копейка, четверть , никель
- B. копейка, никель , четверть , пенни
- C. копейка, четверть , никель , пенни
- D. пенни , четверть , никель , копейка

1. **C**

2)



- A. пенни , никель , четверть , копейка
- B. никель , копейка, пенни , четверть
- C. четверть , пенни , никель , копейка
- D. пенни , никель , копейка, четверть

2. **C**

3. **A**

3)



- A. пенни , никель , копейка, четверть
- B. копейка, никель , четверть , пенни
- C. четверть , пенни , копейка, никель
- D. четверть , пенни , никель , копейка

4. **B**

5. **B**

6. **C**

7. **C**

8. **A**

4)



- A. никель , четверть , копейка, пенни
- B. никель , пенни , четверть , копейка
- C. копейка, пенни , никель , четверть
- D. четверть , никель , копейка, пенни

5)



- A. четверть , пенни , никель , копейка
- B. никель , пенни , копейка, четверть
- C. копейка, четверть , пенни , никель
- D. пенни , четверть , копейка, никель

6)



- A. четверть , копейка, никель , пенни
- B. никель , пенни , четверть , копейка
- C. никель , копейка, четверть , пенни



Определите, какой вариант лучше всего описывает монеты в указанном порядке.

ОТВЕТЫ

1)



- A. никель , пенни , четверть , копейка
- B. четверть , копейка, никель , пенни
- C. пенни , четверть , копейка, никель
- D. пенни , никель , копейка, четверть

1. _____

2. _____

3. _____

2)



- A. никель , четверть , пенни , копейка
- B. копейка, четверть , никель , пенни
- C. четверть , пенни , копейка, никель
- D. пенни , копейка, четверть , никель

4. _____

5. _____

6. _____

3)



- A. четверть , никель , пенни , копейка
- B. пенни , никель , четверть , копейка
- C. четверть , копейка, пенни , никель
- D. четверть , пенни , никель , копейка

7. _____

8. _____

4)



- A. пенни , никель , четверть , копейка
- B. копейка, никель , пенни , четверть
- C. никель , пенни , копейка, четверть
- D. пенни , четверть , копейка, никель

5)



- A. копейка, никель , пенни , четверть
- B. пенни , никель , копейка, четверть
- C. никель , копейка, пенни , четверть
- D. четверть , пенни , копейка, никель

6)



- A. пенни , четверть , никель , копейка
- B. никель , четверть , копейка, пенни
- C. пенни , копейка, четверть , никель



Определите, какой вариант лучше всего описывает монеты в указанном порядке.

ОТВЕТЫ

1)



- A. никель , пенни , четверть , копейка
- B. четверть , копейка, никель , пенни
- C. пенни , четверть , копейка, никель
- D. пенни , никель , копейка, четверть

1. **D**

2)



- A. никель , четверть , пенни , копейка
- B. копейка, четверть , никель , пенни
- C. четверть , пенни , копейка, никель
- D. пенни , копейка, четверть , никель

2. **B**

3. **B**

3)



- A. четверть , никель , пенни , копейка
- B. пенни , никель , четверть , копейка
- C. четверть , копейка, пенни , никель
- D. четверть , пенни , никель , копейка

4. **A**

5. **A**

6. **C**

7. **B**

8. **D**

4)



- A. пенни , никель , четверть , копейка
- B. копейка, никель , пенни , четверть
- C. никель , пенни , копейка, четверть
- D. пенни , четверть , копейка, никель

5)



- A. копейка, никель , пенни , четверть
- B. пенни , никель , копейка, четверть
- C. никель , копейка, пенни , четверть
- D. четверть , пенни , копейка, никель

6)



- A. пенни , четверть , никель , копейка
- B. никель , четверть , копейка, пенни
- C. пенни , копейка, четверть , никель



Определите, какой вариант лучше всего описывает монеты в указанном порядке.

Ответы

1)



- A. четверть , никель , пенни , копейка
- B. никель , четверть , пенни , копейка
- C. четверть , пенни , копейка, никель
- D. копейка, четверть , пенни , никель

1. _____

2)



- A. никель , копейка, пенни , четверть
- B. никель , четверть , копейка, пенни
- C. пенни , четверть , копейка, никель
- D. четверть , копейка, никель , пенни

2. _____

3. _____

4. _____

5. _____

3)



- A. копейка, никель , четверть , пенни
- B. пенни , копейка, четверть , никель
- C. пенни , копейка, никель , четверть
- D. никель , копейка, пенни , четверть

6. _____

7. _____

8. _____

4)



- A. четверть , копейка, пенни , никель
- B. никель , копейка, четверть , пенни
- C. копейка, четверть , никель , пенни
- D. никель , четверть , копейка, пенни

5)



- A. никель , копейка, пенни , четверть
- B. пенни , никель , четверть , копейка
- C. копейка, четверть , никель , пенни
- D. пенни , четверть , никель , копейка

6)



- A. копейка, пенни , четверть , никель
- B. четверть , копейка, пенни , никель
- C. никель , четверть , копейка, пенни



Определите, какой вариант лучше всего описывает монеты в указанном порядке.

1)



- A. четверть , никель , пенни , копейка
- B. никель , четверть , пенни , копейка
- C. четверть , пенни , копейка, никель
- D. копейка, четверть , пенни , никель

2)



- A. никель , копейка, пенни , четверть
- B. никель , четверть , копейка, пенни
- C. пенни , четверть , копейка, никель
- D. четверть , копейка, никель , пенни

3)



- A. копейка, никель , четверть , пенни
- B. пенни , копейка, четверть , никель
- C. пенни , копейка, никель , четверть
- D. никель , копейка, пенни , четверть

4)



- A. четверть , копейка, пенни , никель
- B. никель , копейка, четверть , пенни
- C. копейка, четверть , никель , пенни
- D. никель , четверть , копейка, пенни

5)



- A. никель , копейка, пенни , четверть
- B. пенни , никель , четверть , копейка
- C. копейка, четверть , никель , пенни
- D. пенни , четверть , никель , копейка

6)



- A. копейка, пенни , четверть , никель
- B. четверть , копейка, пенни , никель
- C. никель , четверть , копейка, пенни

ОТВЕТЫ

- 1. **C**
- 2. **A**
- 3. **A**
- 4. **B**
- 5. **B**
- 6. **B**
- 7. **D**
- 8. **B**



Определите, какой вариант лучше всего описывает монеты в указанном порядке.

ОТВЕТЫ

1)



- A. четверть , пенни , никель , копейка
- B. копейка, четверть , никель , пенни
- C. никель , пенни , копейка, четверть
- D. четверть , никель , пенни , копейка

1. _____

2. _____

3. _____

2)



- A. четверть , копейка, никель , пенни
- B. четверть , никель , копейка, пенни
- C. копейка, четверть , пенни , никель
- D. пенни , четверть , никель , копейка

4. _____

5. _____

6. _____

7. _____

3)



- A. никель , четверть , пенни , копейка
- B. никель , пенни , копейка, четверть
- C. пенни , копейка, никель , четверть
- D. копейка, пенни , никель , четверть

8. _____

4)



- A. копейка, четверть , пенни , никель
- B. никель , копейка, четверть , пенни
- C. пенни , никель , четверть , копейка
- D. пенни , копейка, четверть , никель

5)



- A. пенни , копейка, четверть , никель
- B. копейка, четверть , никель , пенни
- C. копейка, пенни , никель , четверть
- D. четверть , пенни , копейка, никель

6)



- A. пенни , четверть , копейка, никель
- B. четверть , никель , пенни , копейка
- C. никель , четверть , копейка, пенни



Определите, какой вариант лучше всего описывает монеты в указанном порядке.

ОТВЕТЫ

1)



- A. четверть , пенни , никель , копейка
- B. копейка, четверть , никель , пенни
- C. никель , пенни , копейка, четверть
- D. четверть , никель , пенни , копейка

1. **B**

2)



- A. четверть , копейка, никель , пенни
- B. четверть , никель , копейка, пенни
- C. копейка, четверть , пенни , никель
- D. пенни , четверть , никель , копейка

2. **C**

3)



- A. никель , четверть , пенни , копейка
- B. никель , пенни , копейка, четверть
- C. пенни , копейка, никель , четверть
- D. копейка, пенни , никель , четверть

3. **D**

4)



- A. копейка, четверть , пенни , никель
- B. никель , копейка, четверть , пенни
- C. пенни , никель , четверть , копейка
- D. пенни , копейка, четверть , никель

4. **A**

5)



- A. пенни , копейка, четверть , никель
- B. копейка, четверть , никель , пенни
- C. копейка, пенни , никель , четверть
- D. четверть , пенни , копейка, никель

5. **B**

6)



- A. пенни , четверть , копейка, никель
- B. четверть , никель , пенни , копейка
- C. никель , четверть , копейка, пенни

6. **C**

7. **D**

8. **C**



Определите, какой вариант лучше всего описывает монеты в указанном порядке.

Ответы

1)



- A. никель , пенни , четверть , копейка
- B. пенни , копейка, никель , четверть
- C. никель , четверть , пенни , копейка
- D. пенни , четверть , копейка, никель

1. _____

2. _____

3. _____

2)



- A. никель , копейка, четверть , пенни
- B. пенни , четверть , никель , копейка
- C. никель , пенни , копейка, четверть
- D. никель , четверть , копейка, пенни

4. _____

5. _____

6. _____

3)



- A. никель , пенни , четверть , копейка
- B. четверть , копейка, пенни , никель
- C. копейка, четверть , пенни , никель
- D. пенни , никель , четверть , копейка

7. _____

8. _____

4)



- A. четверть , никель , копейка, пенни
- B. четверть , никель , пенни , копейка
- C. четверть , пенни , никель , копейка
- D. копейка, никель , четверть , пенни

5)



- A. пенни , копейка, никель , четверть
- B. никель , копейка, четверть , пенни
- C. никель , копейка, пенни , четверть
- D. четверть , никель , копейка, пенни

6)



- A. четверть , пенни , никель , копейка
- B. никель , пенни , четверть , копейка
- C. копейка, пенни , четверть , никель



Определите, какой вариант лучше всего описывает монеты в указанном порядке.

ОТВЕТЫ

1)



- A. никель , пенни , четверть , копейка
- B. пенни , копейка, никель , четверть
- C. никель , четверть , пенни , копейка
- D. пенни , четверть , копейка, никель

1. **A**

2)



- A. никель , копейка, четверть , пенни
- B. пенни , четверть , никель , копейка
- C. никель , пенни , копейка, четверть
- D. никель , четверть , копейка, пенни

2. **C**

3. **C**

3)



- A. никель , пенни , четверть , копейка
- B. четверть , копейка, пенни , никель
- C. копейка, четверть , пенни , никель
- D. пенни , никель , четверть , копейка

4. **A**

5. **A**

6. **A**

7. **A**

8. **D**

4)



- A. четверть , никель , копейка, пенни
- B. четверть , никель , пенни , копейка
- C. четверть , пенни , никель , копейка
- D. копейка, никель , четверть , пенни

5)



- A. пенни , копейка, никель , четверть
- B. никель , копейка, четверть , пенни
- C. никель , копейка, пенни , четверть
- D. четверть , никель , копейка, пенни

6)



- A. четверть , пенни , никель , копейка
- B. никель , пенни , четверть , копейка
- C. копейка, пенни , четверть , никель



Определите, какой вариант лучше всего описывает монеты в указанном порядке.

ОТВЕТЫ

1)



- A. пенни , копейка, никель , четверть
- B. четверть , никель , пенни , копейка
- C. пенни , четверть , никель , копейка
- D. никель , пенни , копейка, четверть

1. _____

2)



- A. никель , пенни , четверть , копейка
- B. пенни , четверть , никель , копейка
- C. пенни , никель , четверть , копейка
- D. копейка, пенни , четверть , никель

2. _____

3. _____

4. _____

5. _____

6. _____

7. _____

3)



- A. копейка, четверть , пенни , никель
- B. никель , пенни , копейка, четверть
- C. пенни , копейка, четверть , никель
- D. четверть , копейка, никель , пенни


8. _____

4)



- A. копейка, никель , четверть , пенни
- B. копейка, четверть , пенни , никель
- C. копейка, четверть , никель , пенни
- D. никель , пенни , копейка, четверть

5)



- A. четверть , копейка, пенни , никель
- B. четверть , копейка, никель , пенни
- C. никель , копейка, четверть , пенни
- D. пенни , никель , копейка, четверть

6)



- A. никель , четверть , копейка, пенни
- B. копейка, пенни , четверть , никель
- C. копейка, четверть , никель , пенни



Определите, какой вариант лучше всего описывает монеты в указанном порядке.

ОТВЕТЫ

1)



- A. пенни , копейка, никель , четверть
- B. четверть , никель , пенни , копейка
- C. пенни , четверть , никель , копейка
- D. никель , пенни , копейка, четверть

1. D

2)



- A. никель , пенни , четверть , копейка
- B. пенни , четверть , никель , копейка
- C. пенни , никель , четверть , копейка
- D. копейка, пенни , четверть , никель

2. A

3. C

3)



- A. копейка, четверть , пенни , никель
- B. никель , пенни , копейка, четверть
- C. пенни , копейка, четверть , никель
- D. четверть , копейка, никель , пенни

4. B

5. A

6. D

7. A


4)



- A. копейка, никель , четверть , пенни
- B. копейка, четверть , пенни , никель
- C. копейка, четверть , никель , пенни
- D. никель , пенни , копейка, четверть

8. B

5)



- A. четверть , копейка, пенни , никель
- B. четверть , копейка, никель , пенни
- C. никель , копейка, четверть , пенни
- D. пенни , никель , копейка, четверть

6)



- A. никель , четверть , копейка, пенни
- B. копейка, пенни , четверть , никель
- C. копейка, четверть , никель , пенни