

Решите каждую задачу.


ОТВЕТЫ

1) ? потратил \$10,46 на покупку новых игрушек. Он купил их на банкнота в двадцать долларов. Сколько сдачи он должен получить обратно?



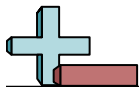
1. _____
2. _____
3. _____

2) ? купил новую настольную игру за \$7,90. Она дала кассиру десятидолларовая купюра. Сколько сдачи ей нужно вернуть?



3) На книжной ярмарке ? потратил \$12,53 на покупку книг. Он дал кассиру банкнота в двадцать долларов. Сколько сдачи он должен получить обратно?





Решите каждую задачу.

ОТВЕТЫ

1) ? потратил \$10,46 на покупку новых игрушек. Он купил их на банкнота в двадцать долларов. Сколько сдачи он должен получить обратно?




1. **C**

2. **C**

3. **C**

2) ? купил новую настольную игру за \$7,90. Она дала кассиру десятидолларовая купюра. Сколько сдачи ей нужно вернуть?



3) На книжной ярмарке ? потратил \$12,53 на покупку книг. Он дал кассиру банкнота в двадцать долларов. Сколько сдачи он должен получить обратно?

