



Нарисуйте указанную сумму и пометьте каждую монету.

1) 35¢

2) 41¢

3) 10¢

4) 77¢

5) 62¢

6) 68¢

7) 60¢

8) 39¢

9) 31¢

10) 46¢



Нарисуйте указанную сумму и пометьте каждую монету.

1) 35¢



четвертькопейка

2) 41¢



четвертькопейка никель пенни

3) 10¢



копейка

4) 77¢



четверть четверть четверть пенни пенни

5) 62¢



четверть четвертькопейка пенни пенни

6) 68¢



четверть четвертькопейка никель пенни пенни пенни

7) 60¢



четверть четвертькопейка

8) 39¢



четвертькопейка пенни пенни пенни пенни

9) 31¢



четверть никель пенни

10) 46¢



четвертькопейкакопейка пенни



Нарисуйте указанную сумму и пометьте каждую монету.

1) 99¢

2) 93¢

3) 46¢

4) 74¢

5) 96¢

6) 30¢

7) 55¢

8) 43¢

9) 78¢

10) 84¢



Нарисуйте указанную сумму и пометьте каждую монету.

1) 99¢



четверть четверть четвертькопейкакопейкапенни пенни пенни пенни

2) 93¢



четверть четверть четвертькопейканикель пенни пенни пенни

3) 46¢



четвертькопейкакопейкапенни

4) 74¢



четверть четвертькопейкакопейкапенни пенни пенни пенни

5) 96¢



четверть четверть четвертькопейкакопейкапенни

6) 30¢



четверть никель

7) 55¢



четверть четверть никель

8) 43¢



четвертькопейканикель пенни пенни пенни

9) 78¢



четверть четверть четверть пенни пенни пенни

10) 84¢



четверть четверть четверть никель пенни пенни пенни пенни



Нарисуйте указанную сумму и пометьте каждую монету.

1) 77¢

2) 92¢

3) 36¢

4) 56¢

5) 15¢

6) 44¢

7) 53¢

8) 84¢

9) 50¢

10) 68¢



Нарисуйте указанную сумму и пометьте каждую монету.

1) 77¢



четверть четверть четверть пенни пенни

2) 92¢



четверть четверть четвертькопейканикель пенни пенни

3) 36¢



четвертькопейкапенни

4) 56¢



четверть четверть никель пенни

5) 15¢



копейканикель

6) 44¢



четвертькопейканикель пенни пенни пенни пенни

7) 53¢



четверть четверть пенни пенни пенни

8) 84¢



четверть четверть четверть никель пенни пенни пенни пенни

9) 50¢



четверть четверть

10) 68¢



четверть четвертькопейканикель пенни пенни пенни



Нарисуйте указанную сумму и пометьте каждую монету.

1) 71¢

2) 48¢

3) 76¢

4) 36¢

5) 40¢

6) 62¢

7) 88¢

8) 85¢

9) 91¢

10) 44¢



Нарисуйте указанную сумму и пометьте каждую монету.

1) 71¢



четверть четвертькопейкакопейка пенни

2) 48¢



четвертькопейкакопейка пенни пенни пенни

3) 76¢




четверть четверть четверть пенни

4) 36¢



четвертькопейка пенни

5) 40¢



четвертькопейка никель

6) 62¢



четверть четвертькопейка пенни пенни

7) 88¢



четверть четверть четвертькопейка пенни пенни пенни

8) 85¢



четверть четверть четвертькопейка

9) 91¢



четверть четверть четвертькопейка никель пенни

10) 44¢



четвертькопейка никель пенни пенни пенни пенни





Нарисуйте указанную сумму и пометьте каждую монету.

1) 27¢

2) 39¢

3) 54¢

4) 79¢

5) 56¢

6) 23¢

7) 49¢

8) 43¢

9) 22¢

10) 62¢



Нарисуйте указанную сумму и пометьте каждую монету.

1) 27¢



четверть пенни пенни

2) 39¢



четвертькопейкапенни пенни пенни пенни

3) 54¢



четверть четверть пенни пенни пенни пенни

4) 79¢



четверть четверть четверть пенни пенни пенни пенни

5) 56¢



четверть четверть никель пенни

6) 23¢



копейкакопейкапенни пенни пенни

7) 49¢



четвертькопейкакопейкапенни пенни пенни пенни

8) 43¢



четвертькопейканикель пенни пенни пенни

9) 22¢



копейкакопейкапенни пенни

10) 62¢



четверть четвертькопейкапенни пенни



Нарисуйте указанную сумму и пометьте каждую монету.

1) 96¢

2) 69¢

3) 97¢

4) 75¢

5) 48¢

6) 56¢

7) 45¢

8) 84¢

9) 29¢

10) 22¢



Нарисуйте указанную сумму и пометьте каждую монету.

1) 96¢



четверть четверть четвертькопейкакопейка пенни

2) 69¢



четверть четвертькопейканикель пенни пенни пенни пенни

3) 97¢




четверть четверть четвертькопейкакопейка пенни пенни

4) 75¢



четверть четверть четверть

5) 48¢



четвертькопейкакопейка пенни пенни пенни

6) 56¢



четверть четверть никель пенни

7) 45¢



четвертькопейкакопейка

8) 84¢



четверть четверть четверть никель пенни пенни пенни пенни

9) 29¢



четверть пенни пенни пенни пенни

10) 22¢



копейкакопейка пенни пенни



Нарисуйте указанную сумму и пометьте каждую монету.

1) 88¢

2) 68¢

3) 13¢

4) 81¢

5) 25¢

6) 44¢

7) 20¢

8) 34¢

9) 11¢

10) 80¢



Нарисуйте указанную сумму и пометьте каждую монету.

1) 88¢



четверть четверть четвертькопейка пенни пенни пенни

2) 68¢



четверть четвертькопейканикель пенни пенни пенни

3) 13¢



копейка пенни пенни пенни

4) 81¢



четверть четверть четверть никель пенни

5) 25¢



четверть

6) 44¢



четвертькопейканикель пенни пенни пенни пенни

7) 20¢



копейкакопейка

8) 34¢



четверть никель пенни пенни пенни пенни

9) 11¢



копейка пенни

10) 80¢



четверть четверть четверть никель



Нарисуйте указанную сумму и пометьте каждую монету.

1) 51¢

2) 92¢

3) 74¢

4) 68¢

5) 87¢

6) 21¢

7) 66¢

8) 28¢

9) 97¢

10) 39¢



Нарисуйте указанную сумму и пометьте каждую монету.

1) 51¢



четверть четверть пенни

2) 92¢



четверть четверть четвертькопейканикель пенни пенни

3) 74¢



четверть четвертькопейкакопейкапенни пенни пенни пенни

4) 68¢



четверть четвертькопейканикель пенни пенни пенни

5) 87¢



четверть четверть четвертькопейкапенни пенни

6) 21¢



копейкакопейка пенни

7) 66¢



четверть четвертькопейканикель пенни

8) 28¢



четверть пенни пенни пенни

9) 97¢



четверть четверть четвертькопейкакопейкапенни пенни

10) 39¢



четвертькопейкапенни пенни пенни пенни





Нарисуйте указанную сумму и пометьте каждую монету.

1) 43¢

2) 50¢

3) 92¢

4) 73¢

5) 20¢

6) 97¢

7) 81¢

8) 91¢

9) 23¢

10) 74¢



Нарисуйте указанную сумму и пометьте каждую монету.

1) 43¢



четвертькопейканикель пенни пенни пенни

2) 50¢



четверть четверть

3) 92¢



четверть четверть четвертькопейканикель пенни пенни

4) 73¢



четверть четвертькопейкакопейкапенни пенни пенни

5) 20¢



копейкакопейка

6) 97¢



четверть четверть четвертькопейкакопейкапенни пенни

7) 81¢



четверть четверть четверть никель пенни

8) 91¢



четверть четверть четвертькопейканикель пенни

9) 23¢



копейкакопейкапенни пенни пенни

10) 74¢



четверть четвертькопейкакопейкапенни пенни пенни пенни



Нарисуйте указанную сумму и пометьте каждую монету.

1) 18¢

2) 53¢

3) 76¢

4) 52¢

5) 80¢

6) 38¢

7) 93¢

8) 27¢

9) 72¢

10) 64¢



Нарисуйте указанную сумму и пометьте каждую монету.

1) 18¢



копейка никель пенни пенни пенни

2) 53¢



четверть четверть пенни пенни пенни

3) 76¢



четверть четверть четверть пенни

4) 52¢




четверть четверть пенни пенни

5) 80¢



четверть четверть четверть никель

6) 38¢



четвертькопейкапенни пенни пенни

7) 93¢



четверть четверть четвертькопейканикель пенни пенни пенни

8) 27¢




четверть пенни пенни

9) 72¢



четверть четвертькопейкакопейкапенни пенни

10) 64¢



четверть четвертькопейкапенни пенни пенни пенни