



Определите указанную сумму денег.

Ответы



1. _____



2. _____



3. _____




4. _____




5. _____



6. _____



7. _____



8. _____





9. _____



10. _____



Определите указанную сумму денег.



ОТВЕТЫ

1. \$0,52

2. \$0,95

3. \$0,99

4. \$0,70

5. \$0,69

6. \$0,95

7. \$0,95

8. \$0,97

9. \$0,59

10. \$0,66