

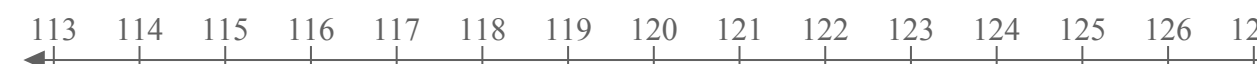















Используйте цифровую прямую, чтобы выразить неравенства.

- об) $X \geq -5$ 
- 1) $X > 100$ 
- 2) $X > 120$ 
- 3) $X > -80$ 
- 4) $X \geq -40$ 
- 5) $X \geq -180$ 
- 6) $X \geq -76$ 
- 7) $X < -20$ 
- 8) $X \leq 95$ 
- 9) $X \leq 156$ 
- 10) $X > -25$ 
- 11) $X < -190$ 
- 12) $X \leq 65$ 
- 13) $X \leq -120$ 



Используйте цифровую прямую, чтобы выразить неравенства.

