



Измерьте каждую фигуру в дюймах и сантиметрах.


об)



1)



2)



3)




4)



5)



6)



7)



8)



9)



Отвeты

об. 5 1/2 13 - 14

1. _____

2. _____

3. _____

4. _____

5. _____

6. _____



7. _____

8. _____

9. _____



Измерьте каждую фигуру в дюймах и сантиметрах.

**Отвeты**об. 5 1/2 13 - 141. 3 1/2 8 - 92. 4 10 - 113. 5 12 - 134. 1 2 - 35. 3 7 - 86. 0 1/2 1 - 27. 1 1/2 3 - 48. 2 5 - 69. 4 1/2 11 - 12