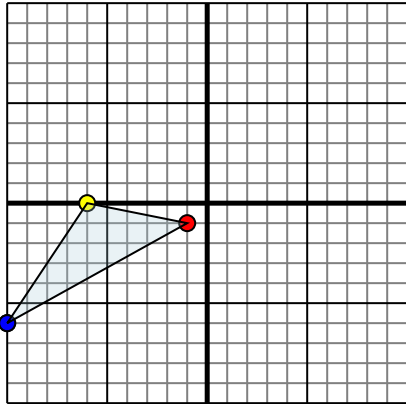




Отразите каждую фигуру на координатной плоскости.

Ответы

1)

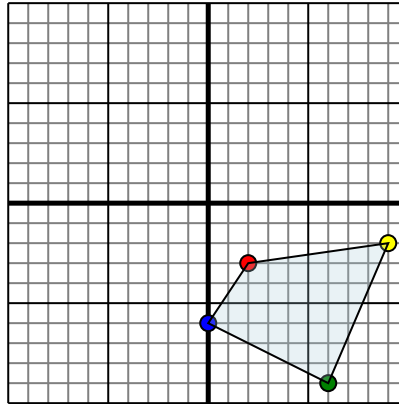


Фигура сверху имеет координаты:

- A. (-1,-1)
- B. (-6,0)
- C. (-10,-6)

Отразите фигуру относительно оси x.

2)

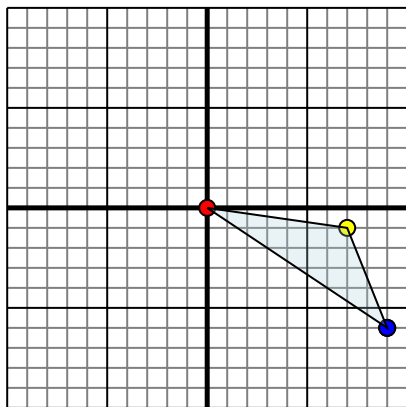


Фигура сверху имеет координаты:

- A. (2,-3)
- B. (9,-2)
- C. (6,-9)
- D. (0,-6)

Отразите фигуру относительно оси y.

3)

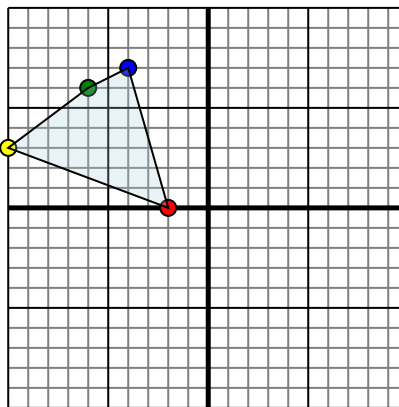


Фигура сверху имеет координаты:

- A. (0,0)
- B. (7,-1)
- C. (9,-6)

Отразите фигуру относительно оси x.

4)



Фигура сверху имеет координаты:

- A. (-2,0)
- B. (-10,3)
- C. (-6,6)
- D. (-4,7)

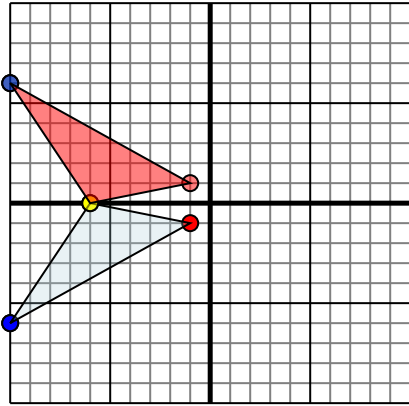
Отразите фигуру относительно оси x.

1. _____
2. _____
3. _____
4. _____



Отразите каждую фигуру на координатной плоскости.

1)

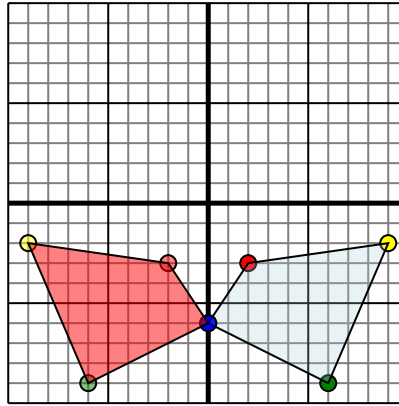


Фигура сверху имеет координаты:

- A. (-1,-1)
- B. (-6,0)
- C. (-10,-6)

Отразите фигуру относительно оси x.

2)

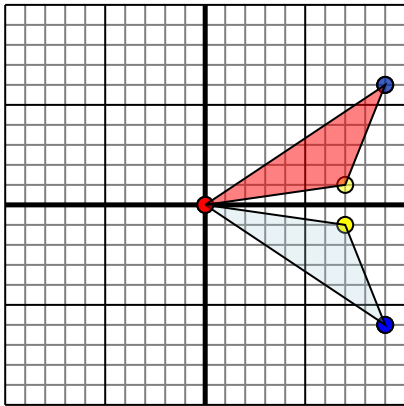


Фигура сверху имеет координаты:

- A. (2,-3)
- B. (9,-2)
- C. (6,-9)
- D. (0,-6)

Отразите фигуру относительно оси y.

3)

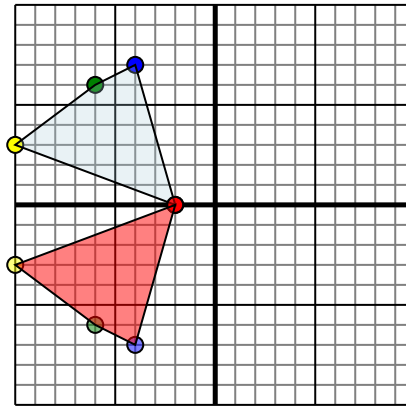


Фигура сверху имеет координаты:

- A. (0,0)
- B. (7,-1)
- C. (9,-6)

Отразите фигуру относительно оси x.

4)



Фигура сверху имеет координаты:

- A. (-2,0)
- B. (-10,3)
- C. (-6,6)
- D. (-4,7)

Отразите фигуру относительно оси x.

ОТВЕТЫ

- 1. **-1 1** **-6 0** **-10 6** График
- 2. **-2 -3** **-9 -2** **-6 -9** **0 -6** График
- 3. **0 0** **7 1** **9 6** График
- 4. **-2 0** **-10 -3** **-6 -6** **-4 -7** График