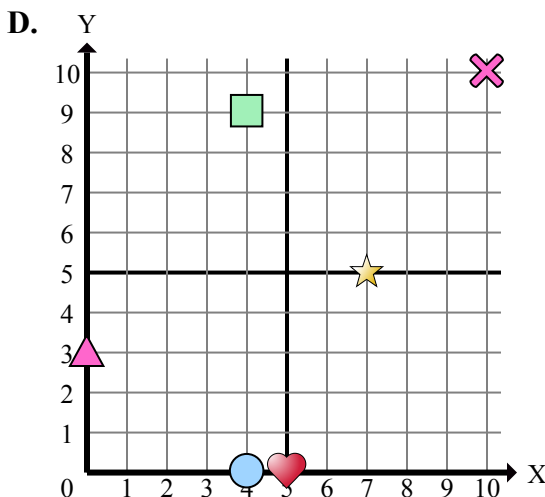
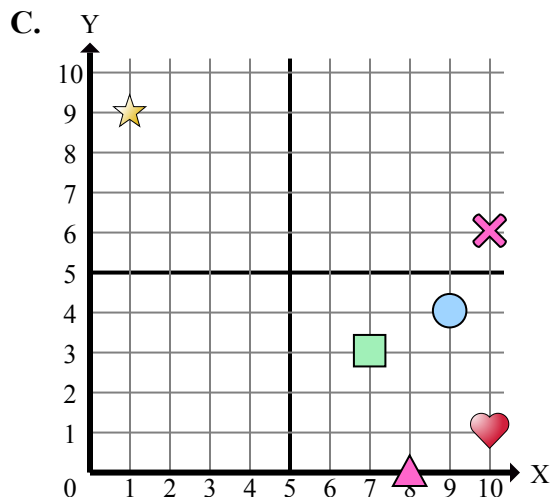
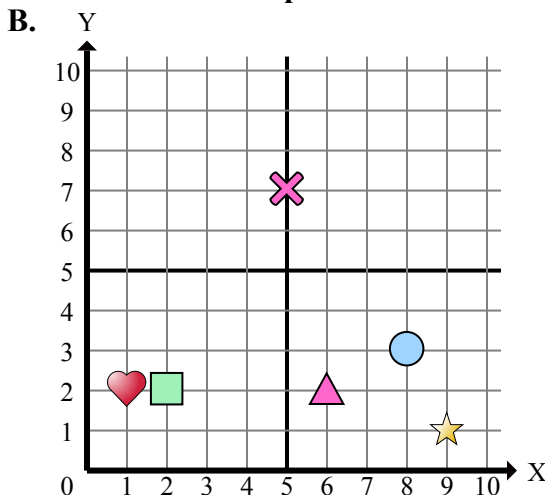
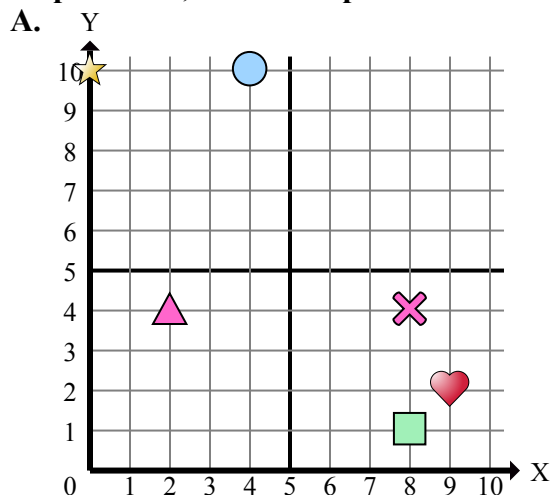




Определите, какая координатная плоскость отвечает всем требованиям.



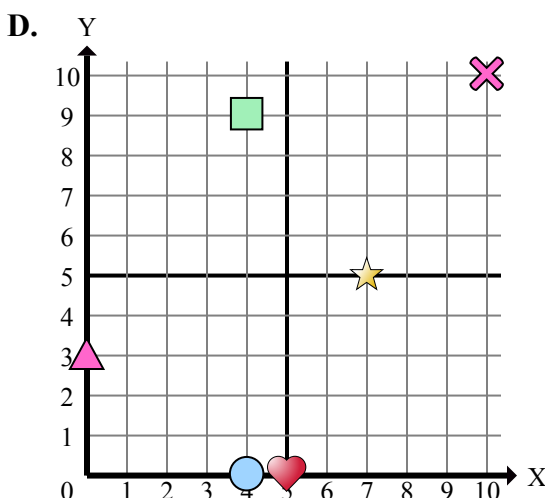
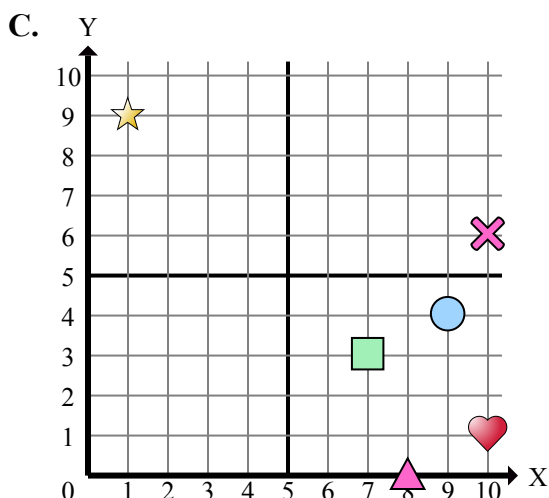
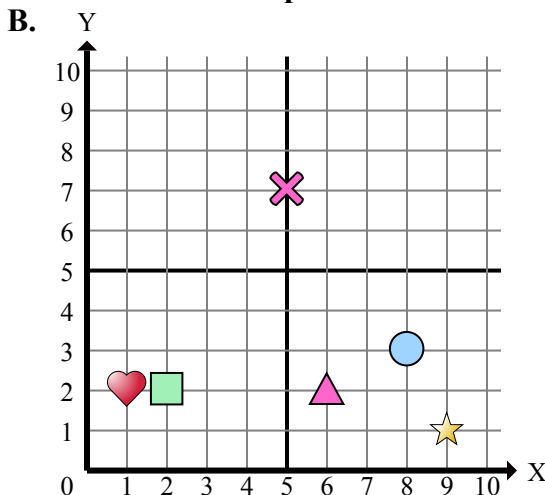
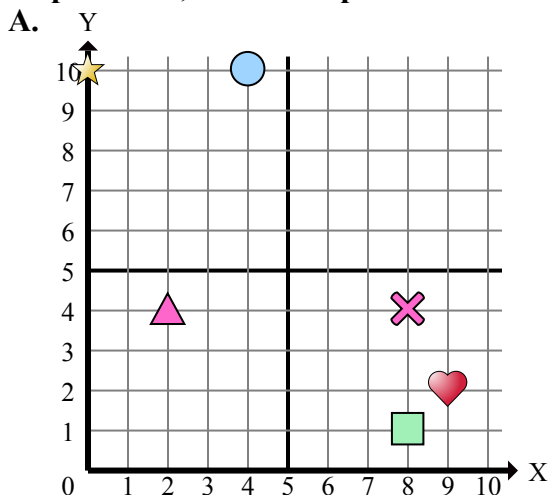
- 1) Какая координатная плоскость имеет фигуру в (4 , 9)?
- 2) Какая координатная плоскость имеет фигуру в (9 , 4)?
- 3) Какая координатная плоскость имеет фигуру в (10 , 10)?
- 4) Какая координатная плоскость имеет фигуру в (9 , 1)?
- 5) Какая координатная плоскость имеет фигуру в (0 , 3)?
- 6) Какая координатная плоскость имеет фигуру в (10 , 1)?
- 7) Какая координатная плоскость имеет фигуру в (1 , 9)?
- 8) Какая координатная плоскость имеет фигуру в (6 , 2)?
- 9) Какая координатная плоскость имеет фигуру в (5 , 7)?
- 10) Какая координатная плоскость имеет фигуру в (4 , 10)?
- 11) Какая координатная плоскость имеет фигуру в (10 , 6)?
- 12) Какая координатная плоскость имеет фигуру в (4 , 0)?
- 13) Какая координатная плоскость имеет фигуру в (8 , 0)?
- 14) Какая координатная плоскость имеет фигуру в (8 , 4)?
- 15) Какая координатная плоскость имеет фигуру в (0 , 10)?

**Отвeты**

1. \_\_\_\_\_
2. \_\_\_\_\_
3. \_\_\_\_\_
4. \_\_\_\_\_
5. \_\_\_\_\_
6. \_\_\_\_\_
7. \_\_\_\_\_
8. \_\_\_\_\_
9. \_\_\_\_\_
10. \_\_\_\_\_
11. \_\_\_\_\_
12. \_\_\_\_\_
13. \_\_\_\_\_
14. \_\_\_\_\_
15. \_\_\_\_\_



Определите, какая координатная плоскость отвечает всем требованиям.



- 1) Какая координатная плоскость имеет фигуру в (4 , 9)?
- 2) Какая координатная плоскость имеет фигуру в (9 , 4)?
- 3) Какая координатная плоскость имеет фигуру в (10 , 10)?
- 4) Какая координатная плоскость имеет фигуру в (9 , 1)?
- 5) Какая координатная плоскость имеет фигуру в (0 , 3)?
- 6) Какая координатная плоскость имеет фигуру в (10 , 1)?
- 7) Какая координатная плоскость имеет фигуру в (1 , 9)?
- 8) Какая координатная плоскость имеет фигуру в (6 , 2)?
- 9) Какая координатная плоскость имеет фигуру в (5 , 7)?
- 10) Какая координатная плоскость имеет фигуру в (4 , 10)?
- 11) Какая координатная плоскость имеет фигуру в (10 , 6)?
- 12) Какая координатная плоскость имеет фигуру в (4 , 0)?
- 13) Какая координатная плоскость имеет фигуру в (8 , 0)?
- 14) Какая координатная плоскость имеет фигуру в (8 , 4)?
- 15) Какая координатная плоскость имеет фигуру в (0 , 10)?

**ОТВЕТЫ**

1.           **D**
2.           **C**
3.           **D**
4.           **B**
5.           **D**
6.           **C**
7.           **C**
8.           **B**
9.           **B**
10.          **A**
11.           **C**
12.           **D**
13.           **C**
14.           **A**
15.           **A**