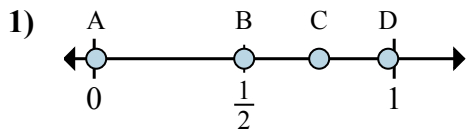


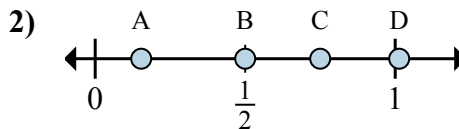


Определите под какой буквой находится правильный ответ по положению дроби на цифровой прямой.

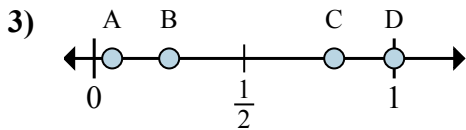
ОТВЕТЫ



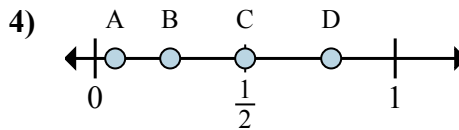
- a. Какая буква наиболее точно показывает $\frac{6}{8}$
- b. Какая буква наиболее точно показывает $\frac{4}{8}$



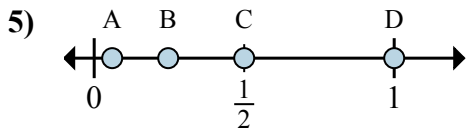
- a. Какая буква наиболее точно показывает $\frac{3}{4}$
- b. Какая буква наиболее точно показывает $\frac{2}{4}$



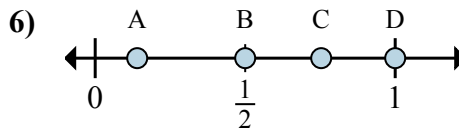
- a. Какая буква наиболее точно показывает $\frac{4}{4}$
- b. Какая буква наиболее точно показывает $\frac{1}{4}$



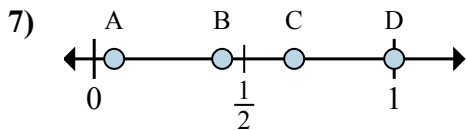
- a. Какая буква наиболее точно показывает $\frac{2}{4}$
- b. Какая буква наиболее точно показывает $\frac{1}{4}$



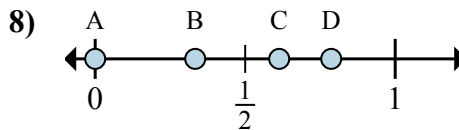
- a. Какая буква наиболее точно показывает $\frac{2}{2}$
- b. Какая буква наиболее точно показывает $\frac{1}{2}$



- a. Какая буква наиболее точно показывает $\frac{1}{2}$
- b. Какая буква наиболее точно показывает $\frac{2}{2}$



- a. Какая буква наиболее точно показывает $\frac{6}{6}$
- b. Какая буква наиболее точно показывает $\frac{4}{6}$

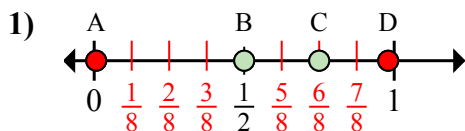


- a. Какая буква наиболее точно показывает $\frac{0}{6}$
- b. Какая буква наиболее точно показывает $\frac{2}{6}$

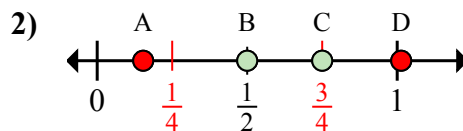
- 1. _____
- 2. _____
- 3. _____
- 4. _____
- 5. _____
- 6. _____
- 7. _____
- 8. _____



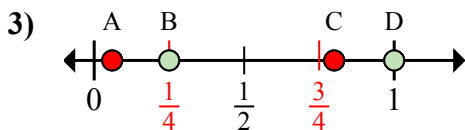
Определите под какой буквой находится правильный ответ по положению дроби на цифровой прямой.



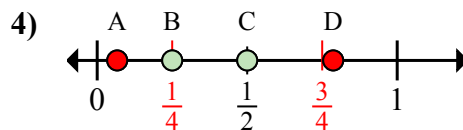
- a. Какая буква наиболее точно показывает $\frac{6}{8}$
 b. Какая буква наиболее точно показывает $\frac{4}{8}$



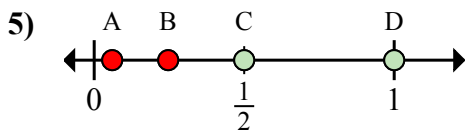
- a. Какая буква наиболее точно показывает $\frac{3}{4}$
 b. Какая буква наиболее точно показывает $\frac{2}{4}$



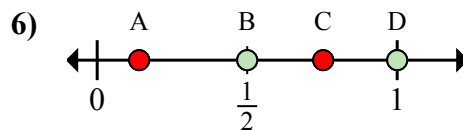
- a. Какая буква наиболее точно показывает $\frac{4}{4}$
 b. Какая буква наиболее точно показывает $\frac{1}{4}$



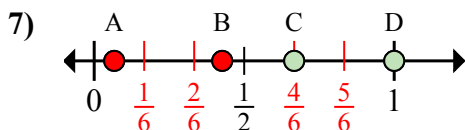
- a. Какая буква наиболее точно показывает $\frac{2}{4}$
 b. Какая буква наиболее точно показывает $\frac{1}{4}$



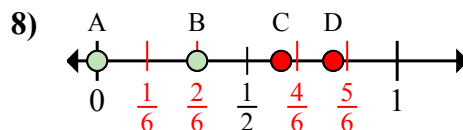
- a. Какая буква наиболее точно показывает $\frac{2}{2}$
 b. Какая буква наиболее точно показывает $\frac{1}{2}$



- a. Какая буква наиболее точно показывает $\frac{1}{2}$
 b. Какая буква наиболее точно показывает $\frac{2}{2}$



- a. Какая буква наиболее точно показывает $\frac{6}{6}$
 b. Какая буква наиболее точно показывает $\frac{4}{6}$



- a. Какая буква наиболее точно показывает $\frac{0}{6}$
 b. Какая буква наиболее точно показывает $\frac{2}{6}$

ОТВЕТЫ

1. C B
 2. C B
 3. D B
 4. C B
 5. D C
 6. B D
 7. D C
 8. A B