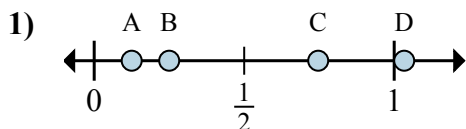


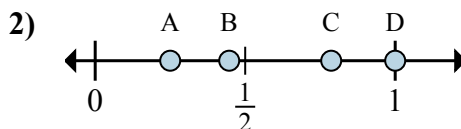


Определите под какой буквой находится правильный ответ по положению дроби на цифровой прямой.

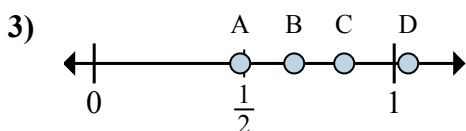
ОТВЕТЫ



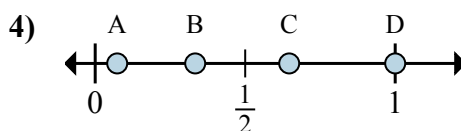
- a. Какая буква наиболее точно показывает $\frac{1}{8}$
- b. Какая буква наиболее точно показывает $\frac{2}{8}$



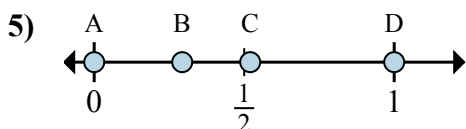
- a. Какая буква наиболее точно показывает $\frac{4}{4}$
- b. Какая буква наиболее точно показывает $\frac{1}{4}$



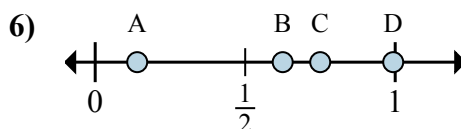
- a. Какая буква наиболее точно показывает $\frac{5}{6}$
- b. Какая буква наиболее точно показывает $\frac{4}{6}$



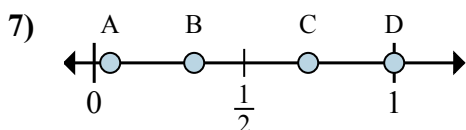
- a. Какая буква наиболее точно показывает $\frac{3}{3}$
- b. Какая буква наиболее точно показывает $\frac{1}{3}$



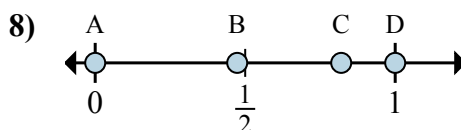
- a. Какая буква наиболее точно показывает $\frac{0}{2}$
- b. Какая буква наиболее точно показывает $\frac{2}{2}$



- a. Какая буква наиболее точно показывает $\frac{6}{8}$
- b. Какая буква наиболее точно показывает $\frac{5}{8}$



- a. Какая буква наиболее точно показывает $\frac{1}{3}$
- b. Какая буква наиболее точно показывает $\frac{3}{3}$

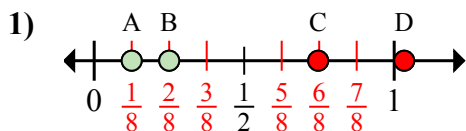


- a. Какая буква наиболее точно показывает $\frac{0}{2}$
- b. Какая буква наиболее точно показывает $\frac{2}{2}$

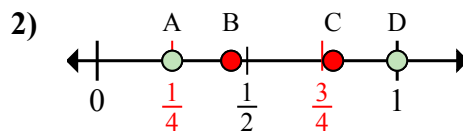
- 1. _____
- 2. _____
- 3. _____
- 4. _____
- 5. _____
- 6. _____
- 7. _____
- 8. _____



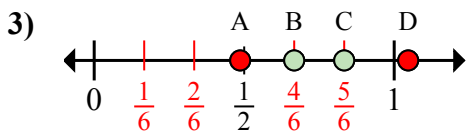
Определите под какой буквой находится правильный ответ по положению дроби на цифровой прямой.



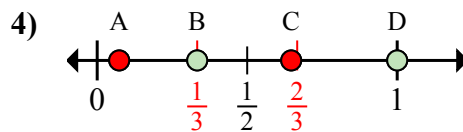
- a. Какая буква наиболее точно показывает $\frac{1}{8}$
 b. Какая буква наиболее точно показывает $\frac{2}{8}$



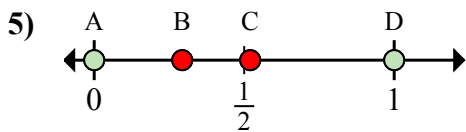
- a. Какая буква наиболее точно показывает $\frac{4}{4}$
 b. Какая буква наиболее точно показывает $\frac{1}{4}$



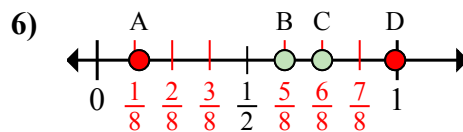
- a. Какая буква наиболее точно показывает $\frac{5}{6}$
 b. Какая буква наиболее точно показывает $\frac{4}{6}$



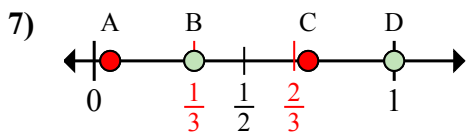
- a. Какая буква наиболее точно показывает $\frac{3}{3}$
 b. Какая буква наиболее точно показывает $\frac{1}{3}$



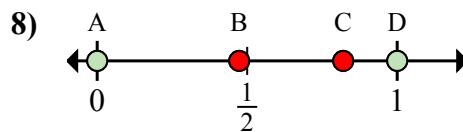
- a. Какая буква наиболее точно показывает $\frac{0}{2}$
 b. Какая буква наиболее точно показывает $\frac{2}{2}$



- a. Какая буква наиболее точно показывает $\frac{6}{8}$
 b. Какая буква наиболее точно показывает $\frac{5}{8}$



- a. Какая буква наиболее точно показывает $\frac{1}{3}$
 b. Какая буква наиболее точно показывает $\frac{3}{3}$



- a. Какая буква наиболее точно показывает $\frac{0}{2}$
 b. Какая буква наиболее точно показывает $\frac{2}{2}$

ОТВЕТЫ

1. A B
 2. D A
 3. C B
 4. D B
 5. A D
 6. C B
 7. B D
 8. A D