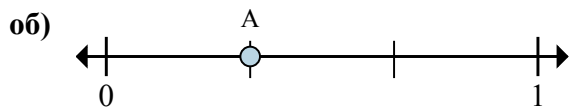
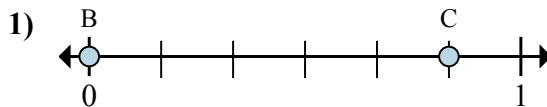




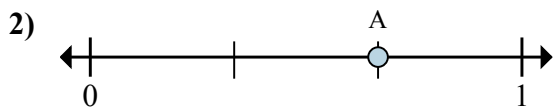
Решите каждую задачу.



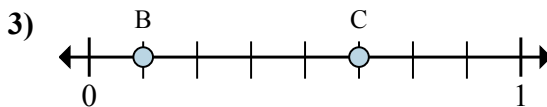
- a. На сколько частей разделена данная числовая прямая?
 б. Каково местоположение А (написанного как дробь)?



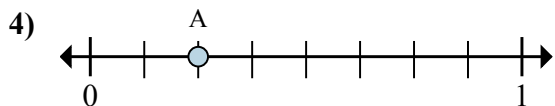
- a. Каково значение 1 на числовой прямой, написанного как дробь?
 б. Каково расстояние на числовой прямой между В и С is (написанного как дробь)?



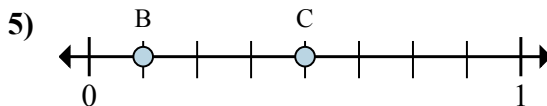
- a. На сколько частей разделена данная числовая прямая?
 б. Каково местоположение А (написанного как дробь)?



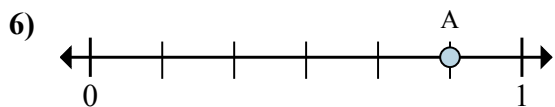
- a. Каково значение 0 на числовой прямой, написанного как дробь?
 б. Каково расстояние на числовой прямой между В и С is (написанного как дробь)?



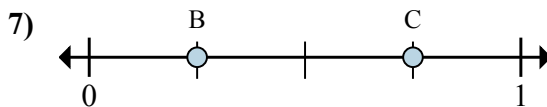
- a. На сколько частей разделена данная числовая прямая?
 б. Каково местоположение А (написанного как дробь)?



- a. Каково значение 1 на числовой прямой, написанного как дробь?
 б. Каково расстояние на числовой прямой между В и С is (написанного как дробь)?



- a. На сколько частей разделена данная числовая прямая?
 б. Каково местоположение А (написанного как дробь)?



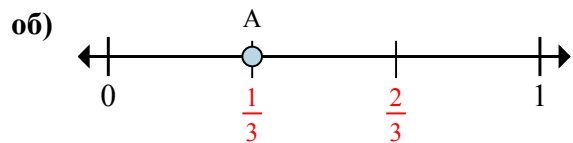
- a. Каково значение 1 на числовой прямой, написанного как дробь?
 б. Каково расстояние на числовой прямой между В и С is (написанного как дробь)?

Отвeты

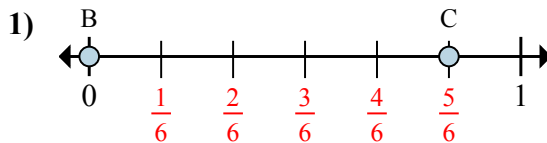
об.	3	$\frac{1}{3}$
1.	_____	_____
2.	_____	_____
3.	_____	_____
4.	_____	_____
5.	_____	_____
6.	_____	_____
7.	_____	_____



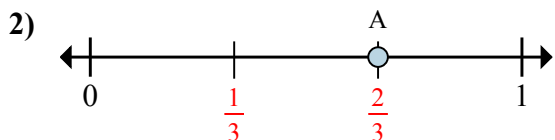
Решите каждую задачу.



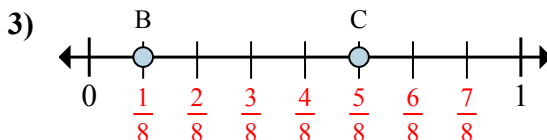
- a. На сколько частей разделена данная числовая прямая?
 б. Каково местоположение А (написанного как дробь)?



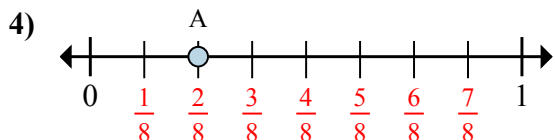
- a. Каково значение 1 на числовой прямой, написанного как дробь?
 б. Каково расстояние на числовой прямой между В и С is (написанного как дробь)?



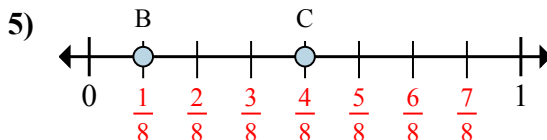
- a. На сколько частей разделена данная числовая прямая?
 б. Каково местоположение А (написанного как дробь)?



- a. Каково значение 0 на числовой прямой, написанного как дробь?
 б. Каково расстояние на числовой прямой между В и С is (написанного как дробь)?



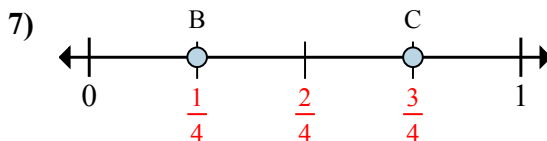
- a. На сколько частей разделена данная числовая прямая?
 б. Каково местоположение А (написанного как дробь)?



- a. Каково значение 1 на числовой прямой, написанного как дробь?
 б. Каково расстояние на числовой прямой между В и С is (написанного как дробь)?



- a. На сколько частей разделена данная числовая прямая?
 б. Каково местоположение А (написанного как дробь)?



- a. Каково значение 1 на числовой прямой, написанного как дробь?
 б. Каково расстояние на числовой прямой между В и С is (написанного как дробь)?

Отвeты

об.	3	$\frac{1}{3}$
1.	$\frac{6}{6}$	$\frac{5}{6}$
2.	3	$\frac{2}{3}$
3.	$\frac{0}{8}$	$\frac{4}{8}$
4.	8	$\frac{2}{8}$
5.	$\frac{8}{8}$	$\frac{3}{8}$
6.	6	$\frac{5}{6}$
7.	$\frac{4}{4}$	$\frac{2}{4}$