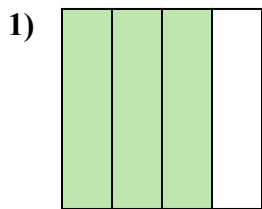
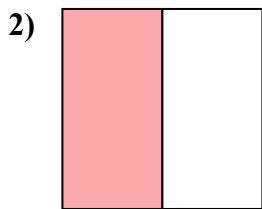




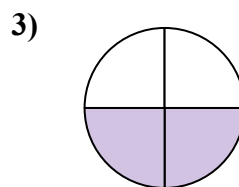
Определите под какой буквой находятся соответствующие дроби.

ОТВЕТЫ

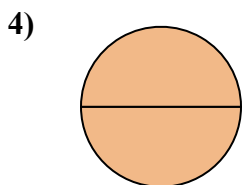
- A. три четверти
B. четыре четверти
C. две четверти



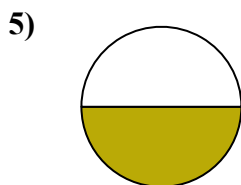
- A. четыре четверти
B. одна половина
C. две четверти



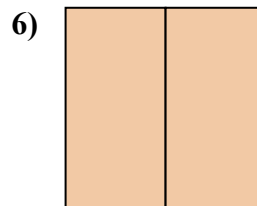
- A. три четверти
B. две четверти
C. четыре четверти



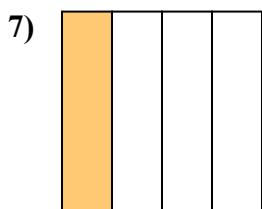
- A. две половинки
B. три четверти
C. одна четвертая



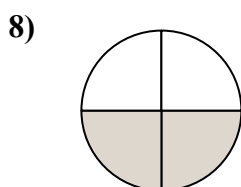
- A. три четверти
B. две половинки
C. одна половина



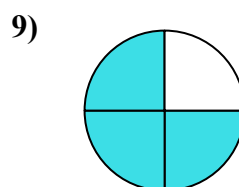
- A. одна четвертая
B. две половинки
C. две четверти



- A. две половинки
B. две четверти
C. одна четверть



- A. две четверти
B. одна четверть
C. четыре четверти

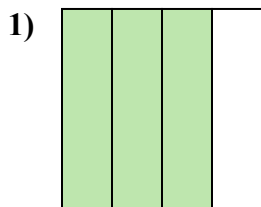


- A. одна половина
B. три четверти
C. одна четверть

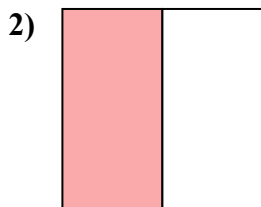
1. _____
2. _____
3. _____
4. _____
5. _____
6. _____
7. _____
8. _____
9. _____



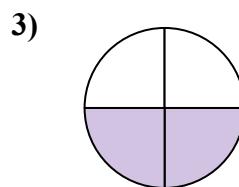
Определите под какой буквой находятся соответствующие дроби.



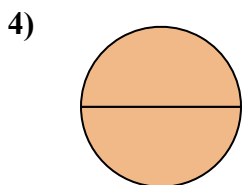
- A. три четверти
B. четыре четверти
C. две четверти



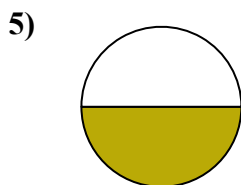
- A. четыре четверти
B. одна половина
C. две четверти



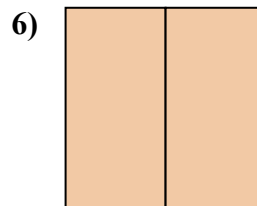
- A. три четверти
B. две четверти
C. четыре четверти



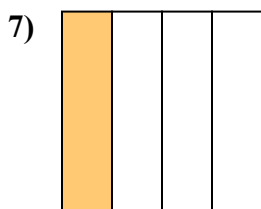
- A. две половинки
B. три четверти
C. одна четвертая



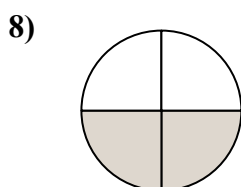
- A. три четверти
B. две половинки
C. одна половина



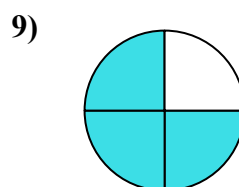
- A. одна четвертая
B. две половинки
C. две четверти



- A. две половинки
B. две четверти
C. одна четверть



- A. две четверти
B. одна четверть
C. четыре четверти



- A. одна половина
B. три четверти
C. одна четверть

ОТВЕТЫ1. **A** 2. **B** 3. **B** 4. **A** 5. **C** 6. **B** 7. **C** 8. **A** 9. **B**