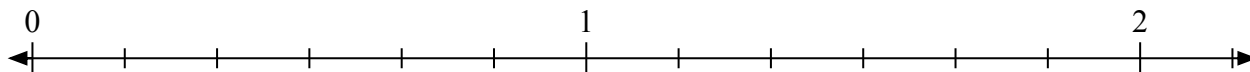





Решите каждую задачу.

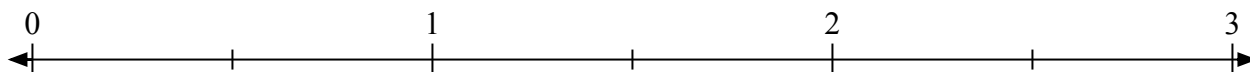
- 1) Отметьте расположение
- $\frac{8}{6}$




- 2) Отметьте расположение
- $\frac{5}{2}$




- 3) Отметьте расположение
- $\frac{4}{2}$



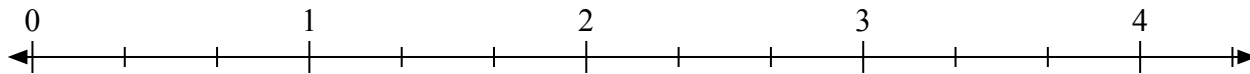
- 4) Отметьте расположение
- $\frac{5}{4}$



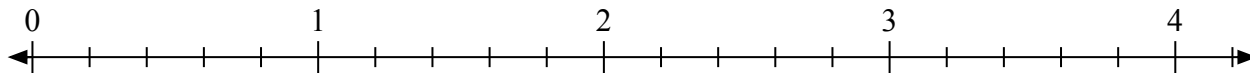
- 5) Отметьте расположение
- $\frac{8}{4}$



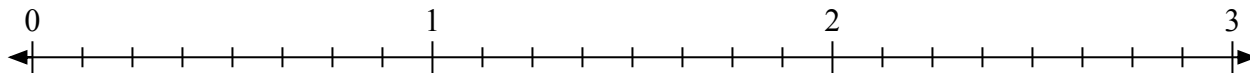
- 6) Отметьте расположение
- $\frac{9}{3}$



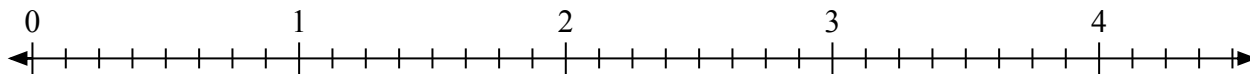
- 7) Отметьте расположение
- $\frac{8}{5}$



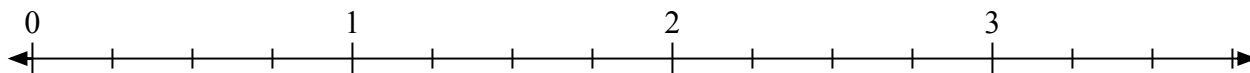
- 8) Отметьте расположение
- $\frac{17}{8}$



- 9) Отметьте расположение
- $\frac{16}{8}$



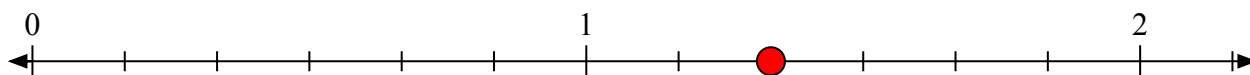
- 10) Отметьте расположение
- $\frac{7}{4}$





Решите каждую задачу.

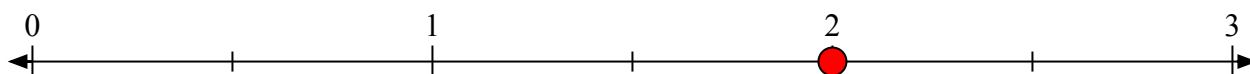
- 1) Отметьте расположение
- $\frac{8}{6}$




- 2) Отметьте расположение
- $\frac{5}{2}$



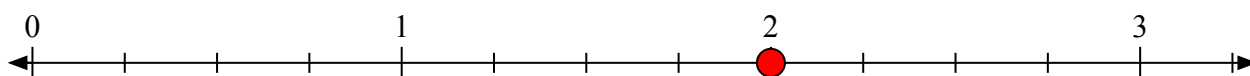
- 3) Отметьте расположение
- $\frac{4}{2}$



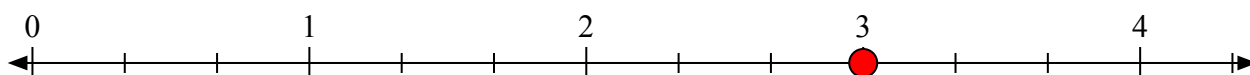
- 4) Отметьте расположение
- $\frac{5}{4}$



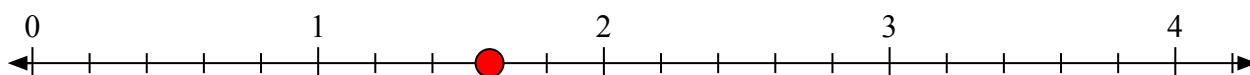
- 5) Отметьте расположение
- $\frac{8}{4}$



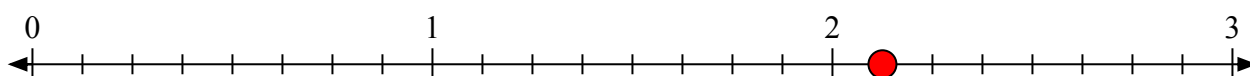
- 6) Отметьте расположение
- $\frac{9}{3}$



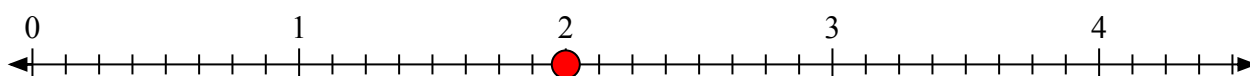
- 7) Отметьте расположение
- $\frac{8}{5}$



- 8) Отметьте расположение
- $\frac{17}{8}$



- 9) Отметьте расположение
- $\frac{16}{8}$



- 10) Отметьте расположение
- $\frac{7}{4}$

