


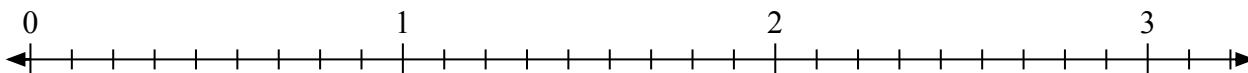


Решите каждую задачу.

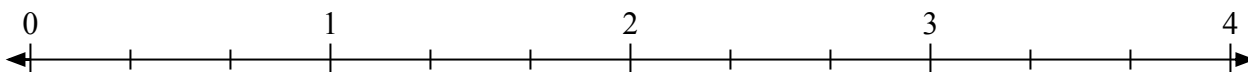
- 1) Отметьте расположение
- $\frac{3}{2}$



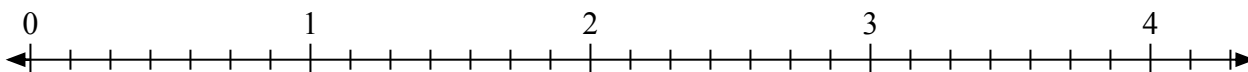
- 2) Отметьте расположение
- $\frac{26}{9}$




- 3) Отметьте расположение
- $\frac{6}{3}$



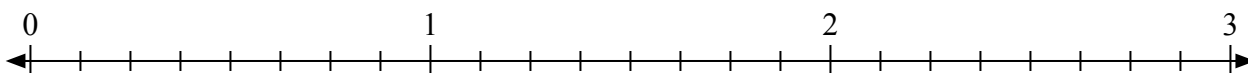
- 4) Отметьте расположение
- $\frac{14}{7}$



- 5) Отметьте расположение
- $\frac{5}{2}$



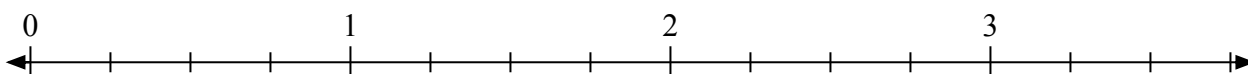
- 6) Отметьте расположение
- $\frac{22}{8}$



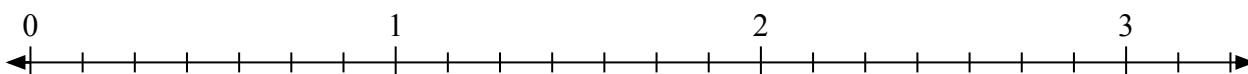
- 7) Отметьте расположение
- $\frac{12}{9}$



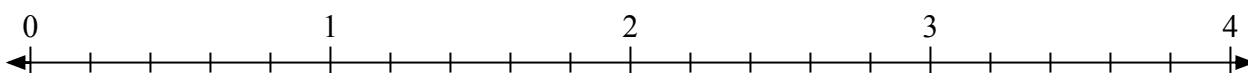
- 8) Отметьте расположение
- $\frac{11}{4}$



- 9) Отметьте расположение
- $\frac{8}{7}$




- 10) Отметьте расположение
- $\frac{11}{5}$



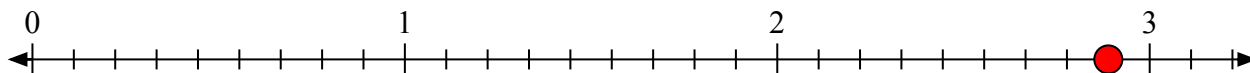


Решите каждую задачу.

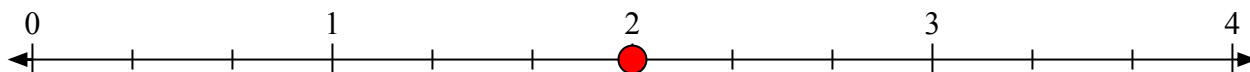
- 1) Отметьте расположение
- $\frac{3}{2}$



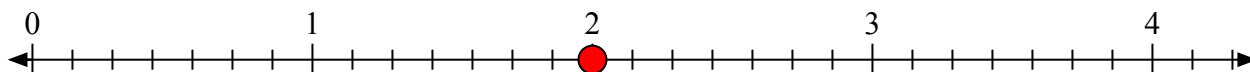
- 2) Отметьте расположение
- $\frac{26}{9}$




- 3) Отметьте расположение
- $\frac{6}{3}$



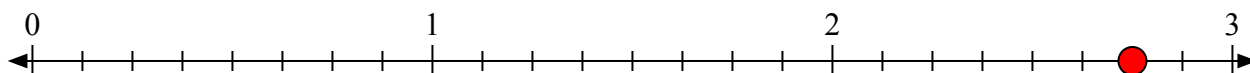
- 4) Отметьте расположение
- $\frac{14}{7}$




- 5) Отметьте расположение
- $\frac{5}{2}$



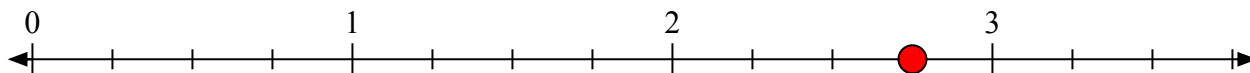
- 6) Отметьте расположение
- $\frac{22}{8}$



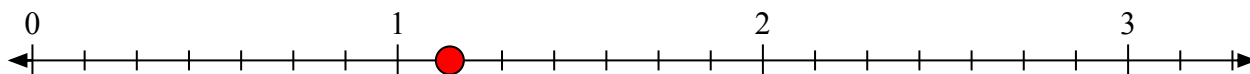
- 7) Отметьте расположение
- $\frac{12}{9}$



- 8) Отметьте расположение
- $\frac{11}{4}$



- 9) Отметьте расположение
- $\frac{8}{7}$



- 10) Отметьте расположение
- $\frac{11}{5}$

