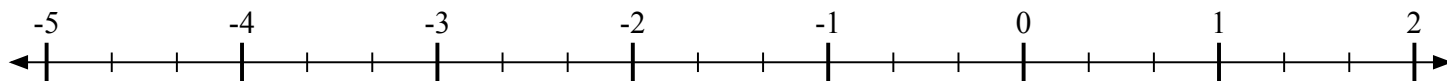
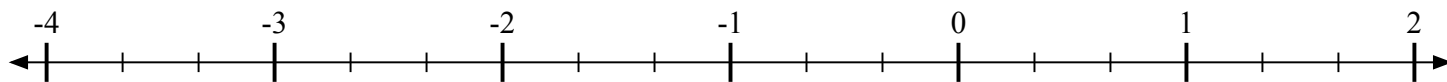
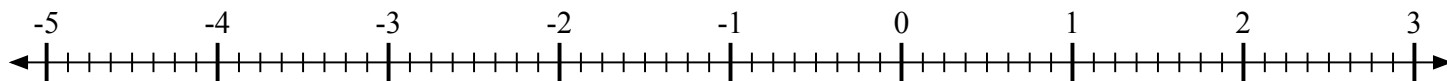
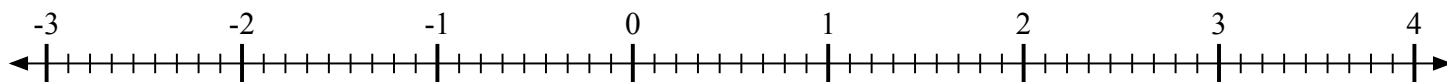
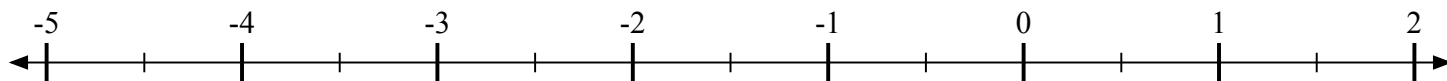
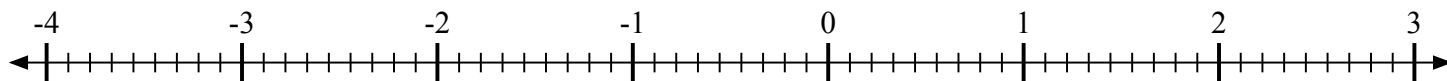
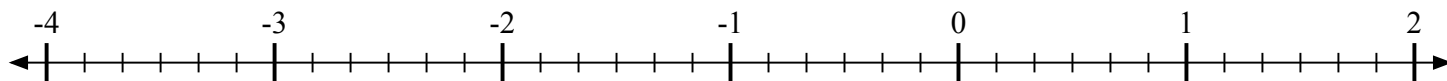
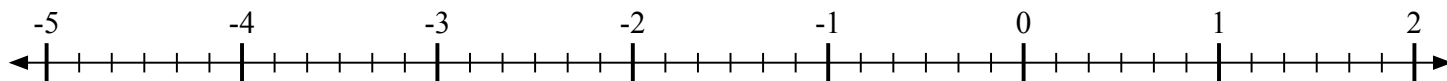
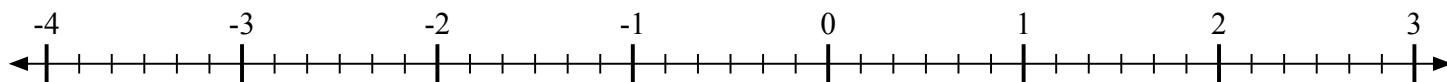




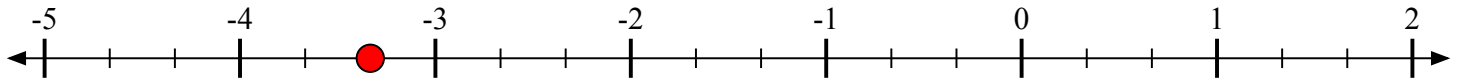
Отметьте каждое местоположение.

1) Отметьте положение  $-3\frac{1}{3}$ 2) Отметьте положение  $-2\frac{2}{3}$ 3) Отметьте положение  $-2\frac{6}{8}$ 4) Отметьте положение  $1\frac{1}{9}$ 5) Отметьте положение  $1\frac{1}{2}$ 6) Отметьте положение  $2\frac{5}{9}$ 7) Отметьте положение  $-1\frac{3}{6}$ 8) Отметьте положение  $-1\frac{4}{6}$ 9) Отметьте положение  $-1\frac{2}{6}$ 

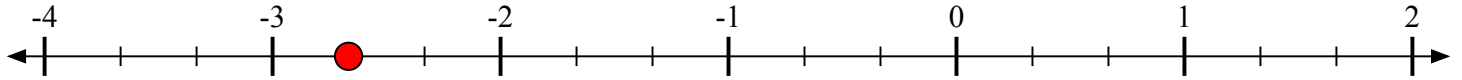


Отметьте каждое местоположение.

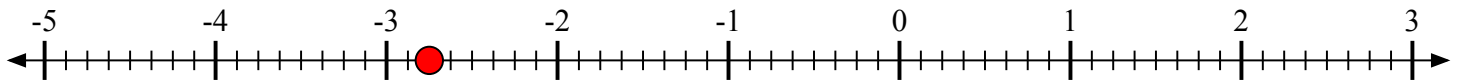
- 1) Отметьте положение
- $-3\frac{1}{3}$



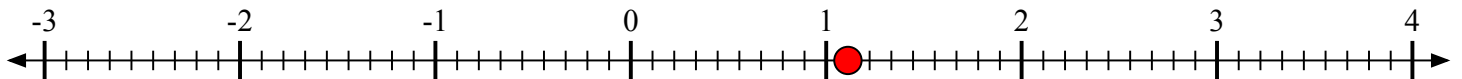
- 2) Отметьте положение
- $-2\frac{2}{3}$



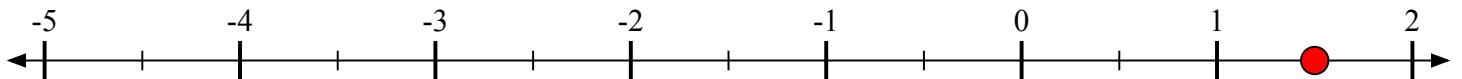
- 3) Отметьте положение
- $-2\frac{6}{8}$



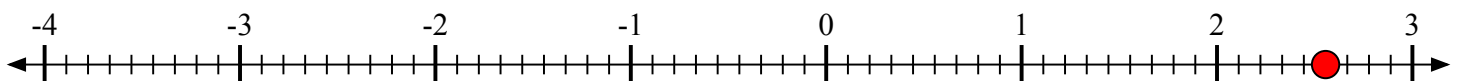
- 4) Отметьте положение
- $1\frac{1}{9}$



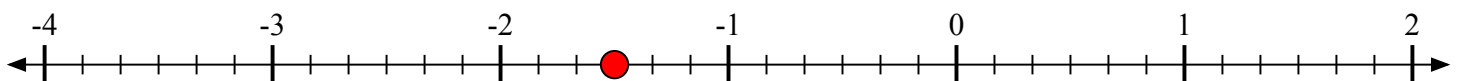
- 5) Отметьте положение
- $1\frac{1}{2}$



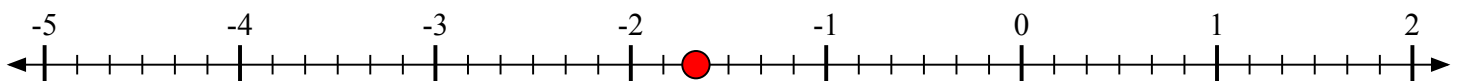
- 6) Отметьте положение
- $2\frac{5}{9}$



- 7) Отметьте положение
- $-1\frac{3}{6}$



- 8) Отметьте положение
- $-1\frac{4}{6}$



- 9) Отметьте положение
- $-1\frac{2}{6}$

