




Решите каждую задачу.

- об) Выразите треугольников(ка) в виде дроби от всего множества.



- 2) Выразите луны в виде дроби от всего множества.




- 4) Выразите звезд(ы) в виде дроби от всего множества.



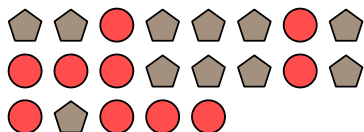
- 6) Выразите звезд(ы) в виде дроби от всего множества.



- 8) Выразите кругов(га) в виде дроби от всего множества.




- 10) Выразите пятиугольников(ка) в виде дроби от всего множества.



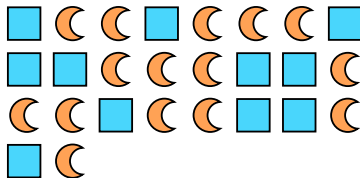
- 1) Выразите звезд(ы) в виде дроби от всего множества.




- 3) Выразите пятиугольников(ка) в виде дроби от всего множества.



- 5) Выразите луны в виде дроби от всего множества.




- 7) Выразите кругов(га) в виде дроби от всего множества.



- 9) Выразите пятиугольников(ка) в виде дроби от всего множества.



- 11) Выразите квадратов(га) в виде дроби от всего множества.

**Ответы**об. $\frac{4}{16}$

1. _____

2. _____

3. _____

4. _____

5. _____

6. _____

7. _____

8. _____

9. _____

10. _____

11. _____

