


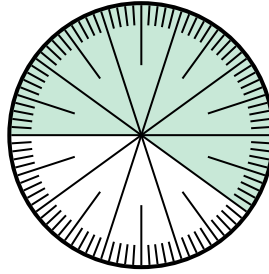


Решите каждую задачу.

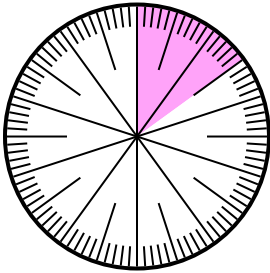
- 1) Выразите часть незатененный как долю от целого с 100 в качестве знаменателя.



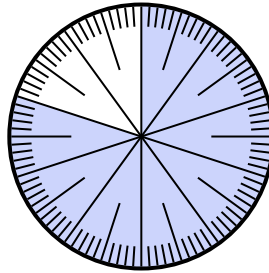
- 2) Выразите часть затененный как десятичную дробь от целого.




- 3) Выразите часть затененный как десятичную дробь от целого.



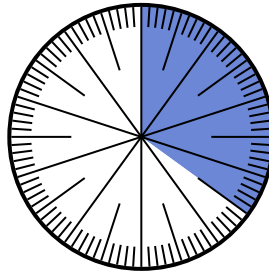
- 4) Выразите часть затененный как десятичную дробь от целого.



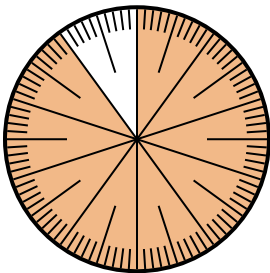
- 5) Выразите часть затененный как долю от целого с 10 в качестве знаменателя.



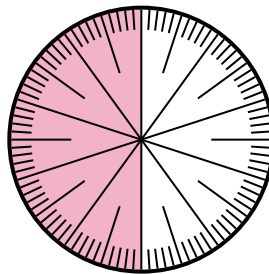
- 6) Выразите часть затененный как десятичную дробь от целого.



- 7) Выразите часть незатененный как долю от целого с 100 в качестве знаменателя.



- 8) Выразите часть затененный как долю от целого с 100 в качестве знаменателя.



**Отвeты**

1. \_\_\_\_\_

2. \_\_\_\_\_

3. \_\_\_\_\_

4. \_\_\_\_\_

5. \_\_\_\_\_

6. \_\_\_\_\_

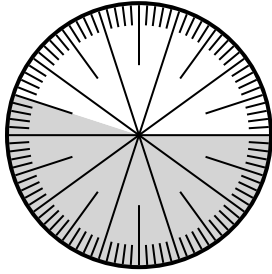
7. \_\_\_\_\_

8. \_\_\_\_\_

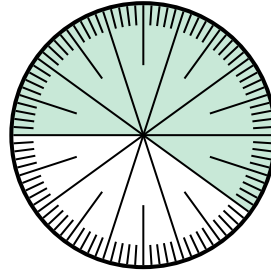


Решите каждую задачу.

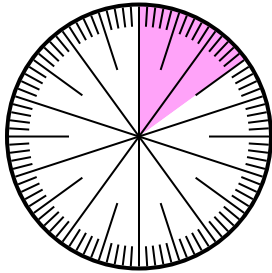
- 1) Выразите часть незатененный как долю от целого с 100 в качестве знаменателя.



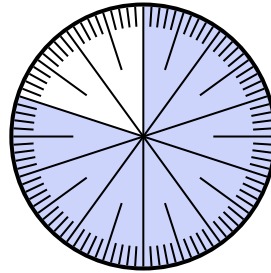
- 2) Выразите часть затененный как десятичную дробь от целого.




- 3) Выразите часть затененный как десятичную дробь от целого.



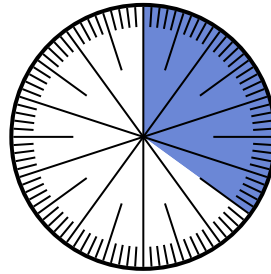
- 4) Выразите часть затененный как десятичную дробь от целого.



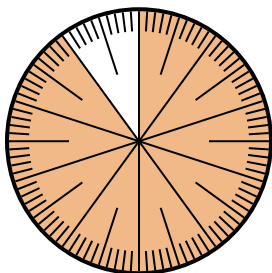
- 5) Выразите часть затененный как долю от целого с 10 в качестве знаменателя.



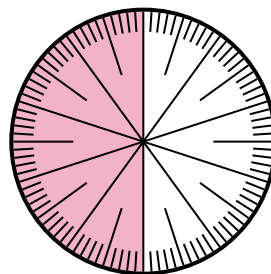
- 6) Выразите часть затененный как десятичную дробь от целого.



- 7) Выразите часть незатененный как долю от целого с 100 в качестве знаменателя.



- 8) Выразите часть затененный как долю от целого с 100 в качестве знаменателя.

**Ответы**

1.  $\frac{45}{100}$

2.  $0,6$

3.  $0,15$

4.  $0,8$

5.  $\frac{3}{10}$

6.  $0,35$

7.  $\frac{10}{100}$

8.  $\frac{50}{100}$